

375

# ШКОЛЬНЫЙ ЭТАП ВСЕРОССИЙСКОЙ ОЛИМПИАДЫ ШКОЛЬНИКОВ ПО ГЕОГРАФИИ

8 класс

Теоретический тур- 60 мин. Тестовый – 30 мин.

## Теоретический тур

### Задание 1.

Австралия считается самым маленьким материком. Из-за отдалённого расположения она открыта позднее других материков. Её открытие вместе с ближайшими к ней островами связывают с именами голландских и английских путешественников.

Укажите крайние точки материка и кому принадлежит первенство открытия крайних точек материка. Из перечня координат этих точек выберите соответствующие каждому мысу. Ответ занесите в таблицу.

Определите протяженность материка с севера на юг в градусах и километрах по меридиану  $142^{\circ}$  в. д.

Перечень координат крайних точек материка:

$10^{\circ}41'$  ю. ш.,  $142^{\circ}32'$  в. д.;  $39^{\circ}11'$  ю. ш.,  $146^{\circ}25'$  в. д;

$26^{\circ}09'$  ю. ш.,  $113^{\circ}09'$  в. д.;  $28^{\circ}40'$  ю. ш.,  $153^{\circ}34'$  в. д.

Мыс	Кемоткрытмыс	Координаты мыса
Крайняя восточная точка	Джеймс Кук	$10^{\circ}40'$ ю. ш. $153^{\circ}34'$ в. д.
Крайняя западная точка		$26^{\circ}09'$ ю. ш. $113^{\circ}09'$ в. д.
Крайняя южная точка	Абель Тасман	$39^{\circ}11'$ ю. ш. $142^{\circ}32'$ в. д.
Крайняя северная точка	Джеймс Кук	$39^{\circ}11'$ ю. ш. $146^{\circ}25'$ в. д.

### Задание 2.

Определите страны по их кратким характеристикам

1. Островная часть этого государства во много раз больше самой страны. Столица находится на острове Зеландия. *Дания* 25

2. Название страны переводится как «малый город». Одна из монархий Европы, является федерацией. Второе место в мире по уровню доходов на душу населения. *Люксембург* 25

### Задание 3.

Это озеро дало имя расположенной в субъекте РФ равнине высотой 200–500 м, являющейся водоразделом между двумя морями и областью внутреннего стока. Название озера отразилось в собственном имени одного из этапов природного процесса, повлиявшего на образование котловин описываемых озёр, и других форм рельефа аналогичного происхождения, которые широко распространены в этой части нашей страны. Озеро расположено в пределах особо охраняемой природной территории, специализирующейся на экологическом туризме и также получившей своё название благодаря этому водоёму. А ещё «озёрное имя» получил ударный музыкальный инструмент, ставший символом этого края.

Определите:

- 1) Название озера *Валдай*
- 2) Тип равнины по высоте *55* *Возвышенность* *28*
- 3) Море, к бассейну которого относится озеро
- 4) Природный процесс, один из этапов которого получил собственное имя от названия озера
- 5) Вид(статус)особоохраняемойприроднойтерритории
- 6) Ударныйинструмент

### Тестовый тур

#### Блок 1. Выберите правильный ответ

1. Перед вами написание цифр почтового индекса. Выстраивание линий по азимутам даст возможность начертить цифру **семь**, если воспользоваться следующей последовательностью азимутальных направлений:

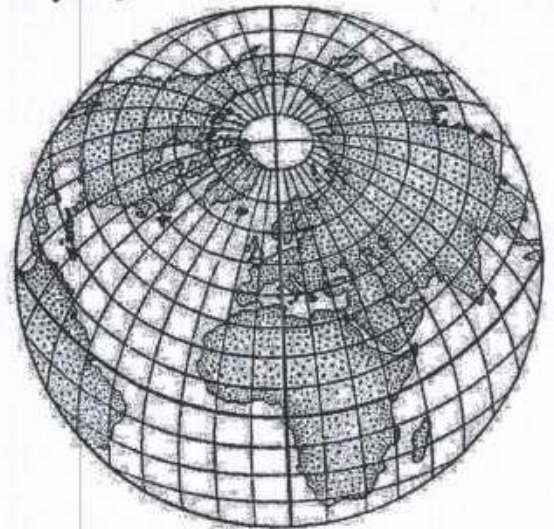
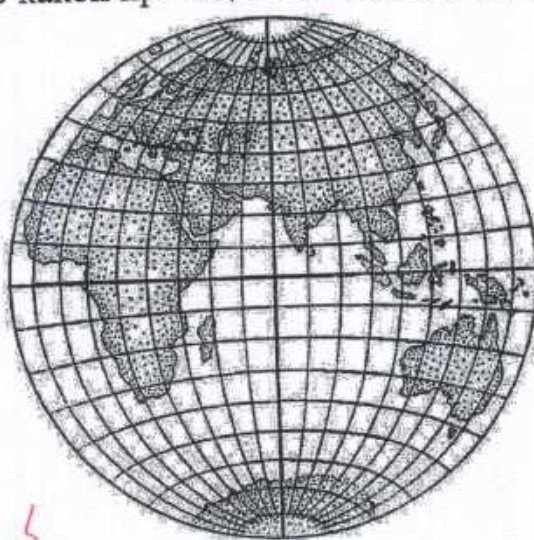


*15* А.90;225;180Б.90;180; 270В.45;180;270 Г.180;90;225

2. Какие моря относятся к бассейну Атлантического океана?:

- 15* А. Белое море и море Лаптевых  
Б. Черное море и Карибское море  
 В. Балтийское море и Охотское море  
 Г. Средиземное море и Аравийское море

3. В какой проекции выполнена карта полушарий?:



- 15* А. Коническая Б. Цилиндрическая  
В. Азимутальная Г. Меридиональная

4. Кто из перечисленных путешественников открыл морской путь в Индию вокруг Африки?:

- 15 А. Фернан Магелан Б. Христофор Колумб  
В. Джеймс Кук Г. Васко да Гама

5. 21 марта, это:

- 15 А. День весеннего солнцестояния  
Б. День, когда все параллели северного и южного полушария освещены одинаково  
В. День начала астрономической весны в южном полушарии Москвы  
Г. День весеннего равноденствия

6. Какое выражение верно:

- 15 А. Бризы - ветры, участвующие в общей циркуляции атмосферы  
Б. Циркуляция атмосферы - это система крупномасштабных Воздушных течений над земным шаром  
В. Воздушные массы при перемещении сохраняют свои свойства  
Г. Свойства воздушных масс зависят от погоды.

7. В рельефе этого материка преобладают равнины, на северо-западе расположены молодые горы, на востоке проходит крупный разлом земной коры. Это материк:

- 15 А. Австралия Б. Евразия В. Антарктида Г. Африка

8. Какая река дважды пересекает экватор?

- 15 А. Амазонка Б. Нил В. Конго Г. Меконг

9. Высокослоистые облака относятся к:...

- А. Облакам нижнего яруса  
Б. Облакам среднего яруса  
В. Облакам верхнего яруса  
Г. Облакам вертикального развития

10. Самое большое по площади акватории пресное озеро мира. Его северо-восточная часть находится в Канаде, западная и южная - в США. Оно входит в систему Великих озёр. Сток воды осуществляется по р. Сент-Мэрис в оз. Гурон. Котловина озера имеет тектоническое происхождение. В четвертичное время она подвергалась воздействию ледниковой эрозии.

- 15 А. Гурон Б. Большое Невольничье В. Онтарио Г. Верхнее

11. Шелк, фарфор, монеты были изобретены в:

- 15 А. Египте Б. Дамаске В. Индии Г. Китае

12. Какова будет температура на горе Роман-Кош (Крымские горы, высота 1500 м), если у подножия температура была 20°C:

15 ☒ А. 11°C    Б. 13°C    В. 10°C    Г. 16°C

13. Группа народов, считающаяся самой низкорослой на Земле.

А. Бушмены    Б. Готтентоты    ☒ В. Пигмеи    Г. Зулусы

14. Аляскинское течение проходит у берегов острова:

А. Кадьяк    ☒ Б. Сокотра    В. Сахалин    Г. Новая Гвинея

15. Это крайняя точка материка имеет несколько названий: мыс Бланко, Бен-Секка, Рас-Энгела, Эль-Абьяд. Это точка:

А. Крайняя южная точка материка Евразия

Б. Крайняя северная точка материка Африка

☒ В. Крайняя западная точка материка Австралия

Г. Крайняя восточная точка материка Южная Америка

**2 блок. Выделите несколько правильных ответов**

1. Город Курск находится на 51 градусе северной широты. Какие города мира, из ниже приведенного списка находятся на этой же широте.

35 ☒ А. Лондон    Б. Берлин    ☒ В. Дрезден    ☒ Г. Антверпен

Д. Варшава

2. Разместите географические пояса в порядке возрастания количества природных зон, которые сформировались в пределах каждого пояса:

45 ☒ А. Экваториальный    ☒ Б. Антарктический    1

4 ☒ В. Умеренный    Г. Тропический    3

3. Какие три из перечисленных государственных заповедников находятся в азиатской части России?:

☒ А. Большой Арктический заповедник

35 ☒ Б. Баргузинский заповедник

☒ В. Заповедник Галичья гора

Г. Приокский заповедник

☒ Д. Алтайский заповедник

4. Большинство рек Евразии несут свои воды в океаны, но есть реки лишенные такой возможности, к ним относятся:

☒ А. Волга

Б. Хуанхе

35 ☒ В. Сырдарья

Г. Ганг

☒ Д. Амударья

### 3 блок. Установите соответствие

1. Установите соответствие между представителем органического мира и материком, для которого он характерен.

1.	Северная Америка	А.	Лемур
2.	Австралия	Б.	Секвойя
3.	Африка	В.	Ехидна
4.	Южная Америка	Г.	Капибара

Ответ:

1 - ~~Б~~

2 - ~~В~~

3 - ~~А~~

4 - ~~Г~~

25

2. Кочевые народы перемещаются вслед за стадами на дальние расстояния, останавливаясь лишь на короткое время. Поэтому и жилища скотоводов-кочевников приспособлены под их образ жизни. Установите соответствие между формой жилища и народом.

1.	чум	А.	Бедуины
2.	яранга	Б.	Эскимосы
3.	иглу	В.	Чукчи
4.	Шерстяной дом	Г.	Ханты, ненцы, коми

Ответ:

1 - ~~В~~

2 - ~~Г~~

3 - ~~А~~

4 - ~~Б~~

12 080017  
385

# ШКОЛЬНЫЙ ЭТАП ВСЕРОССИЙСКОЙ ОЛИМПИАДЫ ШКОЛЬНИКОВ ПО ГЕОГРАФИИ

8класс

Теоретический тур- 60 мин. Тестовый – 30 мин.

## Теоретический тур

### Задание 1.

Австралия считается самым маленьким материком. Из-за отдалённого расположения она открыта позднее других материков. Её открытие вместе с ближайшими к ней островами связывают с именами голландских и английских путешественников.

Укажите крайние точки материка и кому принадлежит первенство открытия крайних точек материка. Из перечня координат этих точек выберите соответствующие каждому мысу. Ответ занесите в таблицу.

Определите протяженность материка с севера на юг в градусах и километрах по меридиану  $142^{\circ}$  в. д.

Перечень координат крайних точек материка:

$1041' \text{ ю. ш.}, 14232' \text{ в. д.}; 3911' \text{ ю. ш.}, 14625' \text{ в. д.};$

$2609' \text{ ю. ш.}, 11309' \text{ в. д.}; 2840' \text{ ю. ш.}, 15334' \text{ в. д.}$

Мыс	Кемоткрытмыс	Координаты мыса
Крайняя восточная точка	Джеймс Куик	$28^{\circ}40' \text{ ю. ш.}, 153^{\circ}34' \text{ в. д.}$
Крайняя западная точка	Винчен Фламин	$26^{\circ}09' \text{ ю. ш.}, 113^{\circ}09' \text{ в. д.}$
Крайняя южная точка	Адель Тасман	$39^{\circ}11' \text{ ю. ш.}, 142^{\circ}32' \text{ в. д.}$
Крайняя северная точка	Джеймс Куик	$39^{\circ}11' \text{ ю. ш.}, 146^{\circ}25' \text{ в. д.}$

### Задание 2.

Определите страны по их кратким характеристикам

1. Островная часть этого государства во много раз больше самой страны. Столица находится на острове Зеландия. **Дания 25**

2. Название страны переводится как «малый город». Одна из монархий Европы, является федерацией. Второе место в мире по уровню доходов на душу населения. **Люксембург 25**

### Задание 3.

Это озеро дало имя расположенной в субъекте РФ равнине высотой 200–500 м, являющейся водоразделом между двумя морями и областью внутреннего стока. Название озера отразилось в собственном имени одного из этапов природного процесса, повлиявшего на образование котловин описываемых озёр, и других форм рельефа аналогичного происхождения, которые широко распространены в этой части нашей страны. Озеро расположено в пределах особо охраняемой природной территории, специализирующейся на экологическом туризме и также получившей своё название благодаря этому водоёму. А ещё «озёрное имя» получил ударный музыкальный инструмент, ставший символом этого края.

Определите:

- 1) Название озера *Валдай* 5б
- 2) Тип равнины по высоте
- 3) Море, к бассейну которого относится озеро *Балтийское* 2б
- 4) Природный процесс, один из этапов которого получил собственное имя от названия озера
- 5) Вид(статус)особоохраняемойприроднойтерритории *национальный парк* 2б
- 6) Ударныйинструмент

### Тестовый тур

#### Блок 1. Выберите правильный ответ

1. Перед вами написание цифр почтового индекса. Выстраивание линий по азимутам даст возможность начертить цифру **семь**, если воспользоваться следующей последовательностью азимутальных направлений:

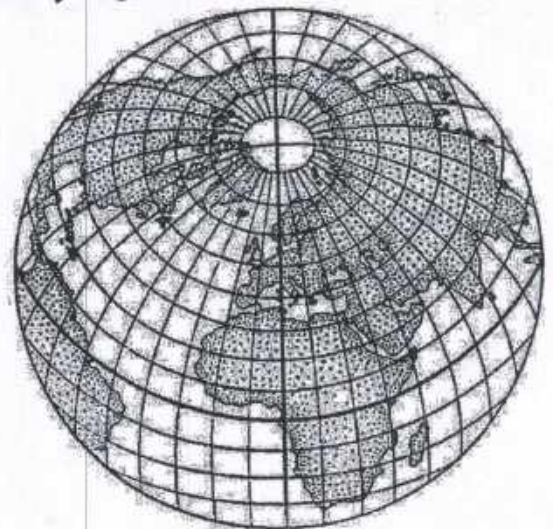
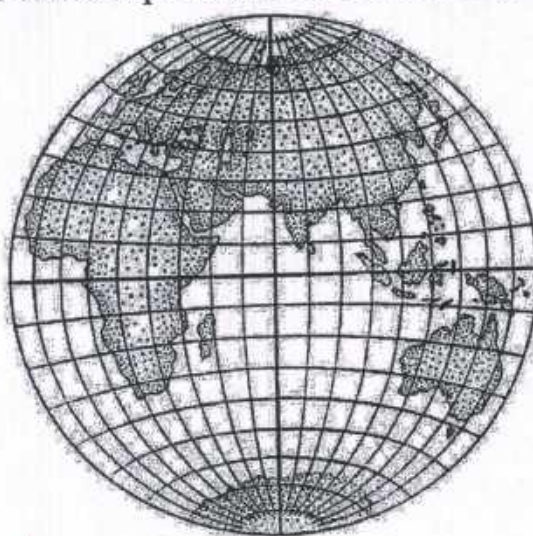


А. 90;225;180 Б. 90;180; 270 В. 45;180;270 Г. 180;90;225

2. Какие моря относятся к бассейну Атлантического океана?:

- 1б*
- А. Белое море и море Лаптевых
  - Б. Черное море и Карибское море
  - В. Балтийское море и Охотское море
  - Г. Средиземное море и Аравийское море

3. В какой проекции выполнена карта полушарий?:



- 1б*
- А. Коническая
  - Б. Цилиндрическая
  - В. Азимутальная
  - Г. Меридиональная

4. Кто из перечисленных путешественников открыл морской путь в Индию вокруг Африки?:

- А. Фернан Магелан    Б. Христофор Колумб  
В. Джеймс Кук        Г. Васко да Гама

5. 21 марта, это:

- А. День весеннего солнцестояния  
Б. День, когда все параллели северного и южного полушария освещены одинаково

В. День начала астрономической весны в южном полушарии Москвы

Г. День весеннего равноденствия

6. Какое выражение верно:

- А. Бризы - ветры, участвующие в общей циркуляции атмосферы  
Б. Циркуляция атмосферы - это система крупномасштабных воздушных течений над земным шаром

В. Воздушные массы при перемещении сохраняют свои свойства

Г. Свойства воздушных масс зависят от погоды.

7. В рельефе этого материка преобладают равнины, на северо-западе расположены молодые горы, на востоке проходит крупный разлом земной коры. Это материк:

- А. Австралия    Б. Евразия    В. Антарктида    Г. Африка

8. Какая река дважды пересекает экватор?  
А. Амазонка    Б. Нил    В. Конго    Г. Меконг

9. Высокослоистые облака относятся к:....

А. Облакам нижнего яруса

Б. Облакам среднего яруса

В. Облакам верхнего яруса

Г. Облакам вертикального развития

10. Самое большое по площади акватории пресное озеро мира. Его северо-восточная часть находится в Канаде, западная и южная - в США. Оно входит в систему Великих озёр. Сток воды осуществляется по р. Сент-Мэрис в оз. Гурон. Котловина озера имеет тектоническое происхождение. В четвертичное время она подвергалась воздействию ледниковой эрозии.

А. Гурон    Б. Большое Невольничье    В. Онтарио    Г. Верхнее

11. Шелк, фарфор, монеты были изобретены в:  
А. Египте    Б. Дамаске    В. Индии    Г. Китае

12. Какова будет температура на горе Роман-Кош (Крымские горы, высота 1500 м), если у подножия температура была 20°C:

А. 11°C    Б. 13°C    В. 10°C    Г. 16°C

13. Группа народов, считающаяся самой низкорослой на Земле.

А. Бушмены    Б. Готтентоты    В. Пигмеи    Г. Зулусы

14. Аляскинское течение проходит у берегов острова:

А. Кадьяк    Б. Сокотра    В. Сахалин    Г. Новая Гвинея

15. Это крайняя точка материка имеет несколько названий: мыс Бланко, Бен-Секка, Рас-Энгела, Эль-Абьяд. Это точка:

А. Крайняя южная точка материка Евразия

Б. Крайняя северная точка материка Африка

В. Крайняя западная точка материка Австралия

Г. Крайняя восточная точка материка Южная Америка

## 2 блок. Выделите несколько правильных ответов

1. Город Курск находится на 51 градусе северной широты. Какие города мира, из ниже приведенного списка находятся на этой же широте.

А. Лондон    Б. Берлин    В. Дрезден    Г. Антверпен

Д. Варшава

2. Разместите географические пояса в порядке возрастания количества природных зон, которые сформировались в пределах каждого пояса:

А. Экваториальный    Б. Антарктический    1

В. Умеренный    Г. Тропический    3

3. Какие три из перечисленных государственных заповедников находятся в азиатской части России?:

А. Большой Арктический заповедник

Б. Баргузинский заповедник

В. Заповедник Галичья гора

Г. Приокский заповедник

Д. Алтайский заповедник

4. Большинство рек Евразии несут свои воды в океаны, но есть реки лишенные такой возможности, к ним относятся:

А. Волга

Б. Хуанхе

В. Сырдарья

Г. Ганг

Д. Амударья

### 3 блок. Установите соответствие

1. Установите соответствие между представителем органического мира и материком, для которого он характерен.

1.	Северная Америка	А.	Лемур
2.	Австралия	Б.	Секвойя
3.	Африка	В.	Ехидна
4.	Южная Америка	Г.	Капибара

Ответ:

1 - Б

2 - В

3 - А

4 - Г

26

2. Кочевые народы перемещаются вслед за стадами на дальние расстояния, останавливаясь лишь на короткое время. Поэтому и жилища скотоводов-кочевников приспособлены под их образ жизни. Установите соответствие между формой жилища и народом.

1.	чум	А.	Бедуины
2.	яранга	Б.	Эскимосы
3.	иглу	В.	Чукчи
4.	Шерстяной дом	Г.	Ханты, ненцы, коми

Ответ:

1 - Г

2 - В

3 - Б

4 - А

26

**Школьный этап ВсОШ по географии 9 класс**  
**Время выполнения заданий – 135 минут**  
**Максимальное количество баллов – 100 баллов**

**Тестовый тур**  
Максимальное количество баллов – 25  
Время выполнения заданий тестового тура – 45 минут

**1. С каким из перечисленных государств Россия имеет сухопутную границу? (1 балл)**

- 1) Швеция;
- 2) Армения;
- 3) Азербайджан;
- 4) Япония.

15

**2. К традиционным занятиям какого из перечисленных народов России относится резьба по кости морского зверя и рыболовство? (1 балл)**

- 1) хакасы;
- 2) чукчи;
- 3) черкесы;
- 4) мордва.

15

**3. В каком из вариантов ответов перечислены исключительно неисчерпаемые природные ресурсы? (1 балл)**

- 1) Природный газ, солнечная энергия, морепродукты;
- 2) нефть, калийная соль, энергия ветра;
- 3) железные руды, бокситы, пресная вода;
- 4) энергия приливов и отливов, солнечная энергия, энергия ветра.

15

**4. В каком высказывании содержится информация об этническом составе России? (1 балл)**

1) Самая массовая религия – православие (66–67% опрошенных считают себя её приверженцами);

2) В 2021 г. русские составили 80,9% населения по результатам Всероссийской переписи населения, представители других национальностей – 19,1 %;

3) самый высокий отток из городов в сёла наблюдается в Ямало-Ненецком и Ханты-Мансийском автономных округах и в Самарской области;

4) на численность и долю детей в Дагестане значительное влияние оказывает более высокий по сравнению с другими регионами уровень рождаемости.

15

5. О каком субъект Российской Федерации идет речь в описании. Здесь начинается крупная река России, впадающая в бессточный бассейн, отсюда родом великий русский путешественник, первым из русских побывавший в Индии, здесь развито льноводство. (1 балл)

- 1) Тверская область;
- 2) Тульская область;
- 3) Смоленская область;
- 4) Республика Коми.

15

6. Назовите море, омывающее берега республики и автономного округа Российской Федерации. (1 балл)

- 1) Белое;
- 2) Баренцево;
- 3) Карское;
- 4) Восточно-Сибирское.

15

7. Установите соответствие между названием бассейна или месторождениями добываемыми в его пределах минеральным ресурсом (4 балла):

48

Бассейн или месторождение	Минеральный ресурс
1. Курская магнитная аномалия;	А. медь;
2. Кузнецкий бассейн;	Б. железная руда;
3. Удоканское месторождение;	В. каменный уголь;
4. Самотлорское месторождение.	Г. нефть и природный газ

Б-1  
В-2  
А-3  
Г-4

8. Самолёт вылетел из Сочи (II часовая зона) в Омск (V часовая зона) в 10 часов по московскому времени. Расчётное время полёта составляет 4 часа. Сколько времени будет в Омске, когда самолёт приземлится? (1 балл)

- 1) 11 часов;
- 2) 14 часов;
- 3) 16 часов;
- 4) 17 часов;

15

9. Витус Беринг – российский капитан-командор датского происхождения, в 1725–1730 гг. возглавил Первую Камчатскую экспедицию, а в 1733–1741 гг. принял участие в Великой Северной экспедиции. Какой из перечисленных географических объектов назван в честь В. Беринга? (1 балл)

- 1) вулкан;
- 2) полуостров;

3) пролив;

4) водопад.

10

10. Выберите верное соответствие: языковая семья—народ—преобладающее вероисповедание верующей части населения. (1 балл)

1) Северокавказская—калмыки —буддизм;

2) Алтайская—тувинцы—ислам;

3) Уральско-юкагирская—мордва— православие;

4) Чукотско-камчатская —чукчи —буддизм.

18

11. Как на Урале традиционно называют отдельные вершины или хребты? (1 балл)

1) гора;

2) камень;

3) голец;

4) пик.

12. Установите соответствие между природной зоной, типом почвы и субъектом РФ, в котором они расположены (4 балла):

Природная зона	Тип	Субъект
1. тундра	а) подзолы	I. Оренбургская область
2. тайга	б) бурые	II. Чукотский авт. округ
3. степь	в) глеевые	III. Республика Коми
4. полупустыни	г) чернозем	IV. Калмыкия

13. Какое из приведённых высказываний соответствует характеристике ГЭС? (1 балл)

1) Использует в качестве топлива уголь, нефть или газ;

2) Экологически безопасна при правильной эксплуатации;

3) Вырабатывает самую низкую по себестоимости энергию;

4) Использует в качестве топлива энергию термальных вод.

14. Какой из перечисленных городов России является крупным центром чёрной металлургии? (1 балл)

1) Астрахань;

2) Брянск;

3) Череповец;

4) Ярославль.

15. Вычислите в  $m^2$  истинную площадь взлётно-посадочной полосы прямоугольной формы, если на карте масштаба 1:25 000 её длина составляет 24 мм, а ширина — 1 мм.

(1 балл)

1)  $15000m^2$ ;

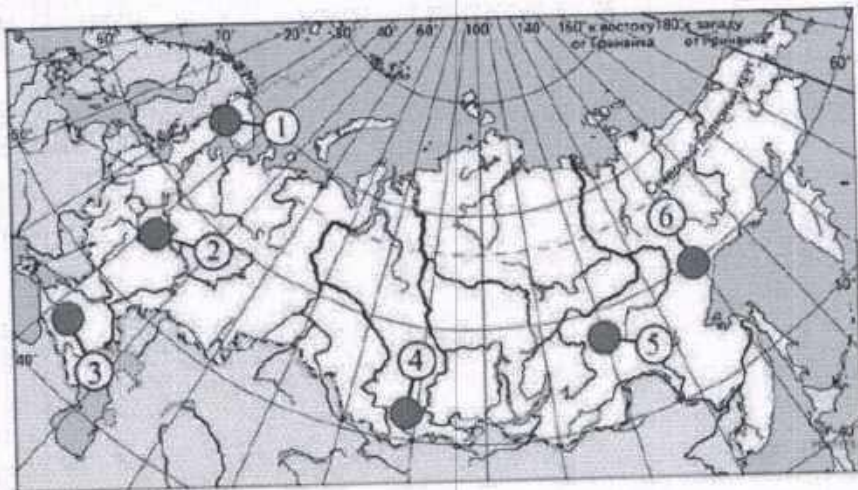
- 2)  $1500\text{м}^2$ ;
- 3)  $150000\text{м}^2$ ;
- 4)  $150\text{м}^2$ .

16. Наибольшую численность населения имеют три из перечисленных городов России (1 балл):

- 1) Ижевск, Пермь, Волгоград;
- 2) Новосибирск, Архангельск, Брянск;
- 3) Кемерово, Пермь, Екатеринбург;
- 4) Самара, Казань, Краснодар.

17. На карте России наибольшую среднюю плотность населения имеют территории, обозначенные цифрами (1 балл)

- 1) 1, 2, 5
- 2) 2, 3, 4
- 3) 4, 5, 6
- 4) 3, 5, 6



18. Что такое «колки»? (1 балл)

- 1) Необводненные участки в пойме реки;
- 2) Участки лиственного леса в тайге Западной Сибири;
- 3) Территории в лесном массиве покрытые сухими деревьями;
- 4) небольшие леса в лесостепи, образованные березой, осинкой или ивой, приуроченные к увлажненным местам.

19. Какие из перечисленных горных систем расположены к востоку от реки Енисей?

(1 балл)

- 1) Кузнецкий Алатау и Урал;
- 2) Верхоянский хребет и хребет Черского;
- 3) Алтай и Восточный Саян;
- 4) Сихотэ-Алинь и Кавказ.

### Теоретический тур

Максимальное количество баллов-75

Время выполнения заданий теоретического тура - 90 минут

#### Задание 1 (10 баллов)

Впишите вместо многоточия названия географических объектов.

№	Некоторые факты о географических объектах	Название объекта
1.	Море...названо в честь российских полярных исследователей. В него впадает могучая река...со громной речной дельтой, размерами уступающей только дельтам Ганга и Амазонки.	1) <i>Лантевий</i> 15 2) <i>Инда</i> 15
2.	Характерной особенностью ... моря является полное отсутствие жизни на глубинах более 150—200 м из-за насыщенности глубинных слоёв воды сероводородом. Крупнейшая река, впадающая в это море—....	3) <i>Черное</i> 15 4) <i>Цукотское</i> 15
3.	... море названо по народу, населяющему прилегающую часть материка. На островах...и Геральд расположен арктический заповедник, Являющийся основным местом размножения белых медведей и моржей.	5) <i>Охотское</i> 15 6) <i>Азовское</i> 15
4.	...море названо по имени реки. Высота приливов в ... этого моря достигает 12,9 м, что является наивысшим в России показателем.	7) <i>Охотское</i> 15 8) <i>Азовское</i> 15
5.	...море— самое мелкое на Земле. С соседним морем соединяется... проливом.	9) <i>Азовское</i> 15 10) <i>Азовское</i> 15

#### Задание 2 (13 баллов)







Определите по описанию республику.

Граничит с 3 государствами, 2 республиками, 1 краем и 1 областью. Доля титульного народа республики 33,9%. Основа всей экономики сельское хозяйство и туризм. Железных дорог нет, через территорию с севера на юг проходит федеральная автомобильная трасса Чуйский тракт.

1. Определите республику и ее столицу: *Тыва*
2. Определите титульный народ *не указано*
3. К какой языковой группе он относится? *не указано*
4. Какие религии и исповедует титульный народ? *не указано*
5. Назовите граничащие территории *не указаны*.

### Задание 3 (24 балла)

Определите по контурам субъекты Российской Федерации. Укажите их названия.  
Для каждого субъекта подберите соответствующую картинку и напишите, что изображено на картинке.

<p>125</p> <p>1.  Московская область</p>	<p>2.  Ямало-Ненецкий автономный округ</p>
<p>3.  Чукотская область</p>	<p>4. </p>
<p>5. </p>	<p>6.  Иркутская область</p>

А)



Б)



В)



Г)



Д)



Е)



**Задание 4 (13баллов) Работа с фрагментом топографической карты.**

1. Определите именованный и численный масштабы карты, если известно, что наибольший размер острова, расположенного на озере Чёрном, составляет 260 м. *в 1 см - 100 м* *15*   
 ход рассуждений запишите.

2. Определите абсолютную высоту центра населённого пункта Вороново.

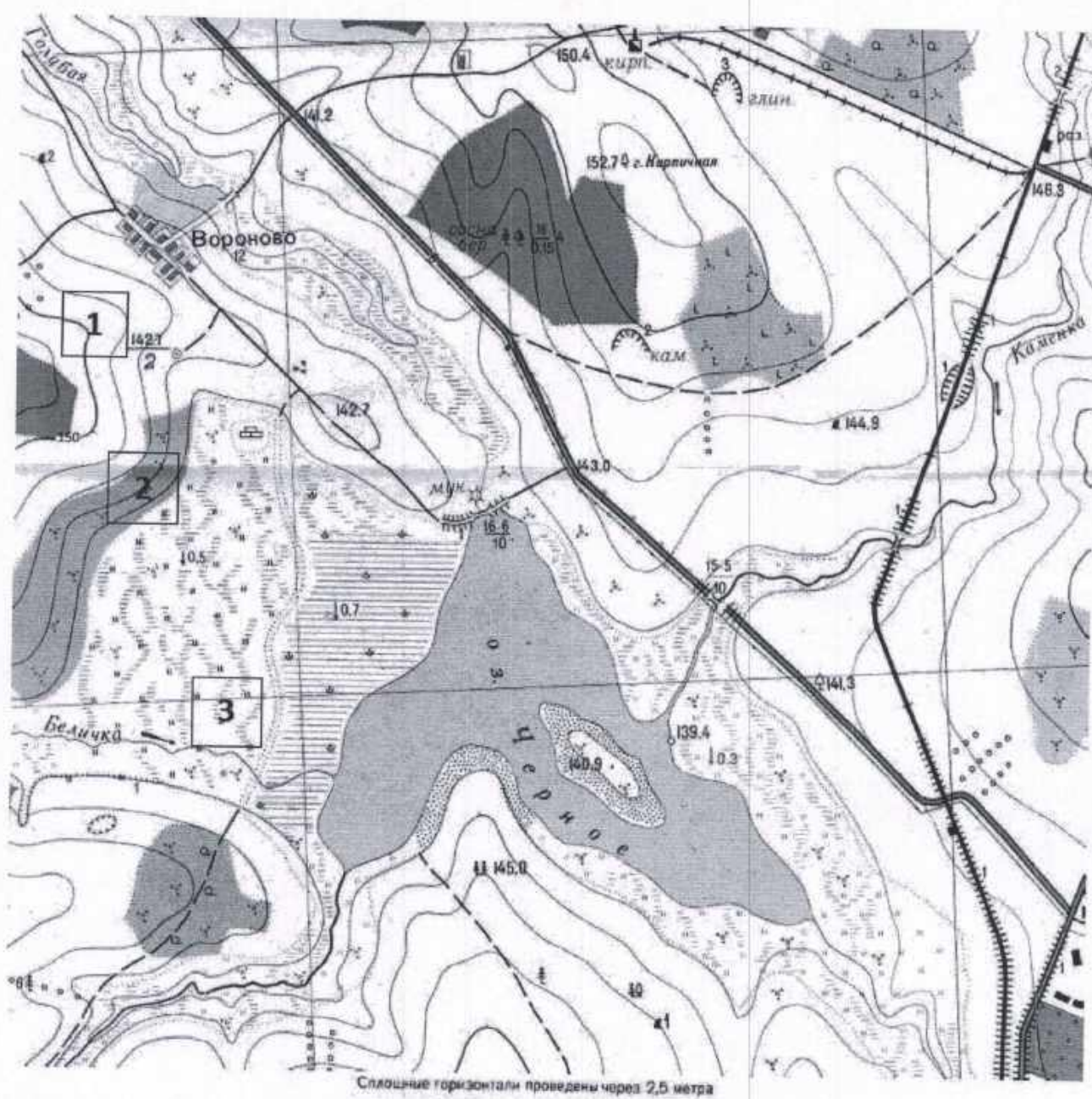
3. В каком направлении от населённого пункта Вороново находится устье реки Белички?

4. Определите азимут от центра населённого пункта Вороново на устье реки Белички.

5. Школьники выбирают место для катания на санках с крутой горки. Оцените, какой из участков, обозначенных на карте цифрами 1, 2 и 3, больше всего подходит для этого. Для обоснования своего ответа приведите два довода.

6. Можно ли с юго-восточной окраины населённого пункта Вороново увидеть мукомольную мельницу на северном берегу озера? Ответ обоснуйте.

7. Определите падение реки Каменки, если известно, что абсолютная высота её истока составляет 143 м. Ход рассуждений запишите.



**Задание 5. (15 баллов)**

16 ноября 2024 года исполнилось 150 лет со дня рождения русского государственного, политического и военного деятеля, учёного-океанографа, полярного исследователя, флотоводца, адмирала.



1. Назовите фамилию военного деятеля и ученого. *А.В. Котчак 35*
2. Природу какого крупного региона России изучал этот путешественник? *Арктика 35*
3. На каком крупном полуострове России ученый занимался гидрологическими и океанографическими работами? *Таймыр 35*
4. В каком городе находилась резиденция этого деятеля в годы Гражданской войны 1917–1922 годов, там же располагалось Российское правительство, которое он возглавлял. *Омск 35*
5. Какой географический объект России назван его именем? *Остров 35*

**Школьный этап ВсОШ по географии 10 кл.**  
**Время выполнения заданий – 135 минут**  
**Максимальное количество баллов – 100 баллов**

**Тестовый тур**

Максимальное количество баллов – 20

Время выполнения заданий тестового тура – 45 минут

1. Какое государство по форме правления является республикой?

- ☒ 1) Франция
- 2) Испания
- 3) Саудовская Аравия
- 4) Япония

15

2. Какая из стран «лишняя» в списке членов ОПЕК?

- 1) Венесуэла
- 2) Иран
- ☒ 3) Чили
- 4) Нигерия

15

3. Какой известный физико-географический объект объединяет такие страны как Россия, Туркмения, Иран, Казахстан, Азербайджан:

- 1) Уральские горы
- ☒ 2) Каспийское море
- 3) Кавказские горы
- 4) Прикаспийская низменность

15

4. Установите соответствие между названием и типом электростанции в России.

25

Название электростанции	Тип электростанции
1. Кислогубская В 0,55	А) тепловая электростанция (ТЭС)
2. Красноярская Г 0,55	Б) атомная электростанция (АЭС)
3. Билибинская Б 0,55	В) приливная электростанция (ПЭС)
4. Костромская А 0,55	Г) гидроэлектростанция (ГЭС)

5. Кандалакшский заповедник расположен:

- ☒ 1) в Мурманской области и Карелии
- 2) на Алтае
- 3) в Бурятии и Забайкальском крае
- 4) в Крыму

15

6. По особенностям административно-территориального устройства страны мира делятся на:

- 1) Метрополии и колонии  
 15 2) Федеративные и унитарные  
 3) Республики и монархии  
 4) Доминионы и протектораты

7. Территория или часть территории государства, полностью окружённая территорией другого государства – это анклав

8. Установите соответствие между столбцами: 25

Природная зона	Специализация сельского хозяйства
1) Тундра - А 0,55	А) оленеводство
2) Лесная зона - Б 0,55	Б) рожь, ячмень, лен
3) Лесостепи и степи - Г 0,55	В) овцеводство
4) Полупустыни и пустыни - Д 0,55	Г) пшеница, кукуруза, сахарная свекла

9. Если численный масштаб карты 1:50000, то именно такой будет равен:

- 1) в 1 см 50 км  
 2) в 1 см 5 км  
 15 3) в 1 см 500 м  
 4) в 1 см 500 км

10. «Отцом географии», первым определивший угловое расстояние от экватора до тропика и вычисливший размеры Земли, называют:

- 1) Птолема  
 2) Аристотеля  
 15 3) Геродота  
 4) Эратосфена

11. Назовите главный город Ямало-Ненецкого автономного округа.

- 1) Сыктывкар  
 2) Нарьян-Мар  
 15 3) Салехард  
 4) Анадырь

12. Какая из стран располагается на разных материках?

- 1) Турция  
 2) Египет  
 3) Россия  
 4) Казахстан

13. Выберите верное утверждение о динамике численности населения России.

1) В Москве, Дагестане, Тыве, Псковской области положительная динамика населения.

15 2) В областях Северо-Запада России наблюдается отрицательный естественный прирост.

3) Во всех национальных субъектах России – отрицательное сальдо миграции.

4) Демографическая политика направлена на снижение рождаемости.

14. Для какой из перечисленных стран характерен наибольший уровень урбанизации?

1) Вьетнам

2) Индия

15 3) Китай

4) Аргентина

15. В каком из городов 23 сентября (день осеннего равноденствия) солнце раньше всего по московскому времени поднимется над горизонтом?

1) Иркутск

2) Санкт -Петербург

3) Астрахань

4) Москва

16. Выберите вариант, где правильно указан народ, его языковая семья и религия.

1) Калмыки-Северокавказская семья–буддизм

2) Чуваша-Уральская семья–ислам

15 3) Тувинцы-Алтайская семья–ислам

4) Осетины-Индоевропейская семья– православие

17. Определите тип климата по следующим признакам.

Годовая амплитуда температур 50-60°C, небольшая (0,2-0,3м) высота снежного покрова, господство антициклональных типов погоды.

1) морской

15 2) резко континентальный

3) континентальный

4) умеренно континентальный

18. Ведущим фактором размещения предприятий по производству меди является:

1) сырьевой

15 2) энергетический

3) водных ресурсов

4) потребительский

**Теоретический тур**  
Максимальное количество баллов – 80  
Время выполнения заданий тестового тура – 90 минут

**Задание 1. (15 баллов)**

Указом президента Российской Федерации В.В. Путина 2024 год объявлен в России годом семьи.

1. В русской истории и культуре есть две ключевые фигуры, которые с незапамятных времён символизируют верность, любовь и семейные узы. Сегодня они почитаются как святые и покровители семейного счастья и верности. Назовите имена этой семейной четы, изображенной на фотографии. *Петр и Феврония Муромские 35*

2. В каком городе России воздвигнут этот памятник? *Новгород*

3. К какому субъекту РФ относится этот город? *Новгородская область*

4. Назовите федеральный округ, в который входит данный субъект РФ.

5. В каких городах-миллионерах России установлены памятники этим святым, покровителям семейного счастья и верности? Назовите три города.



**Задание 2. (18 баллов)**

10 лет назад, в 2014 году Совет Федерации ратифицировал договор о вступлении этой территории в состав России.

1. Определите новый субъект РФ (республика) *Крым 25*

2. Эта республика находится на полуострове, который в разное время имел разные названия. Как назывался этот полуостров до XIII века?

3. Как называется столица этой республики? *Симферополь 25*
4. Определите город федерального значения в этой республике. *Севастополь 25*
5. Какими двумя морями омывается эта республика? *Черный, Азовский. 25*
6. Назовите трех великих поэтов и писателей, в чьем творчестве отразились основные темы, мотивы и красоты этой республики.

**Задание 3. (11 баллов)**

Определите субъект федерации X и его соседей. О соседях субъекта федерации X известно следующее: *Омская область 35*

О первом	Территория этого государства находится в Европе и Центральной Азии, входит в СНГ. Священная книга –Коран. Национальное жилище –юрта. Здесь находится Байконур. Здесь в свое время жили И.Крылов, А. Пушкин, Т.Шевченко, Л.Толстой. Первый ученый этого государства -Чокан Валиханов, обучался в кадетском корпусе, а позже подружился с Ф. Достоевским в субъекте X <i>Казахстан 25</i>
О втором	В этом субъекте находится город, который сравнивают с Чикаго из-за быстрого роста населения. Здесь единственный в мире музей Солнца, самый большой в стране театр оперы и балета, самый удаленный от морей в мире дельфинарий. Здесь придумали «Тотальный диктант», здесь ежегодно проходит фестиваль байкеров «Обская волна».
О третьем	Город данного субъекта называют «Сибирскими Афинами». Здесь был запущен первый в РФ бизнес-инкубатор для студентов. Считается, что деревянные зелёные дома вдохновили писателя Александра Волкова написать цикл книг «Волшебник изумрудного города». Здесь останавливался А.П. Чехов, чтобы изучить «тюремную действительность». В. Я. Шишков здесь написал повесть «Тайга».
О четвертом	Область по площади третья в России. На гербе области слова Ломоносова: «Российское могущество прирастать будет Сибирью». Здесь родились: химик и основоположник нефтяного дела в России Д.И. Менделеев, композитор Алябьев, писатель Ершов, художник Перов. Здесь самый большой драматический театр России. В 1935-1944 годах область входила в состав субъекта X <i>Тюменская 25</i>

**Задание 4. (21 балл)**

В 2024 году исполнилось 50 лет со дня открытия железнодорожной магистрали в России, которая входит в число крупнейших железных дорог мира.

1. Как называется эта магистраль?
2. Какова ее протяженность?
3. Через территории каких шести субъектов РФ проходит эта железная дорога?
4. Зачем была построена эта магистраль?
5. В каких неблагоприятных природных условиях функционирует данная железная дорога? Назовите 4-5 неблагоприятных условий.
6. К какому океану обеспечивает выход России это сооружение?

**Задание 5. (15 баллов)**

16 ноября 2024 года исполнилось 150 лет со дня рождения русского государственного, политического и военного деятеля, учёного-океанографа, полярного исследователя, флотоводца, адмирала.



1. Назовите фамилию военного деятеля и ученого. *А.В. Кожак 35*
2. Природу какого крупного региона России изучал этот путешественник? *Арктика 35*
3. На каком крупном полуострове России ученый занимался гидрологическими и океанографическими работами? *Тамыр 35*
4. В каком городе находилась резиденция этого деятеля в годы Гражданской войны 1917–1922 годов, там же располагалось Российское правительство, которое он возглавлял. *г. Омск 35*
5. Какой географический объект России назван его именем? *Остров 35*

**Школьный этап ВсОШ по географии 10 кл.**  
**Время выполнения заданий – 135 минут**  
**Максимальное количество баллов – 100 баллов**

**Тестовый тур**

Максимальное количество баллов – 20

Время выполнения заданий тестового тура – 45 минут

1. Какое государство по форме правления является республикой?

- ① Франция
- 2) Испания
- 3) Саудовская Аравия
- 4) Япония

15

2. Какая из стран «лишняя» в списке членов ОПЕК?

- 1) Венесуэла
- 2) Иран
- ③ Чили
- 4) Нигерия

15

3. Какой известный физико-географический объект объединяет такие страны как Россия, Туркмения, Иран, Казахстан, Азербайджан:

- 1) Уральские горы
- ② Каспийское море
- 3) Кавказские горы
- 4) Прикаспийская низменность

15

4. Установите соответствие между названием и типом электростанции в России.

25

Название электростанции	Тип электростанции
1. Кислогубская – В 0,50	А) тепловая электростанция (ТЭС)
2. Красноярская – Г 0,50	Б) атомная электростанция (АЭС)
3. Билибинская – Б 0,50	В) приливная электростанция (ПЭС)
4. Костромская – А 0,50	Г) гидроэлектростанция (ГЭС)

5. Кандалакшский заповедник расположен:

- ① в Мурманской области и Карелии
- 2) на Алтае
- 3) в Бурятии и Забайкальском крае
- 4) в Крыму

15

6. По особенностям административно-территориального устройства страны мира делятся на:

- 1) Метрополии и колонии  
 15 2) Федеративные и унитарные  
 3) Республики и монархии  
 4) Доминионы и протектораты

15 7. Территория или часть территории государства, полностью окружённая территорией другого государства – это Анклава

8. Установите соответствие между столбцами: 25

Природная зона	Специализация сельского хозяйства
1) Тундра - А 0,5 6	А) оленеводство
2) Лесная зона - Б 0,5 6	Б) рожь, ячмень, лен
3) Лесостепи и степи - В 0,5 6	В) овцеводство
4) Полупустыни и пустыни - Г 0,5 6	Г) пшеница, кукуруза, сахарная свекла

9. Если численный масштаб карты 1:50000, то именно данный будет равен:

- 1) в 1 см 50 км  
 15 2) в 1 см 5 км  
 3) в 1 см 500 м  
 4) в 1 см 500 км

10. «Отцом географии», первым определивший угловое расстояние от экватора до тропика и вычисливший размеры Земли, называют:

- 1) Птолема  
 15 2) Аристотеля  
 3) Геродота  
 4) Эратосфена

11. Назовите главный город Ямало-Ненецкого автономного округа.

- 15 1) Сыктывкар  
 2) Нарьян-Мар  
 3) Салехард  
 4) Анадырь

12. Какая из стран располагается на разных материках?

- 15 1) Турция  
 2) Египет  
 3) Россия  
 4) Казахстан

13. Выберите верное утверждение о динамике численности населения России.

- 1) В Москве, Дагестане, Тыве, Псковской области положительная динамика населения.  
2) В областях Северо-Запада России наблюдается отрицательный естественный прирост.  
3) Во всех национальных субъектах России – отрицательное сальдо миграции.  
4) Демографическая политика направлена на снижение рождаемости.

14. Для какой из перечисленных стран характерен наибольший уровень урбанизации?

- 1) Вьетнам  
2) Индия  
3) Китай  
4) Аргентина

15. В каком из городов 23 сентября (день осеннего равноденствия) солнце раньше всего по московскому времени поднимется над горизонтом?

- 1) Иркутск  
2) Санкт -Петербург  
3) Астрахань  
4) Москва

16. Выберите вариант, где правильно указан народ, его языковая семья и религия.

- 1) Калмыки-Северокавказская семья–буддизм  
2) Чуваш-Уральская семья–ислам  
3) Тувинцы-Алтайская семья–ислам  
4) Осетины-Индоевропейская семья– православие

17. Определите тип климата по следующим признакам.

Годовая амплитуда температур 50-60°C, небольшая (0,2-0,3м) высота снежного покрова, господство антициклональных типов погоды.

- 1) морской  
2) резко континентальный  
3) континентальный  
4) умеренно континентальный

18. Ведущим фактором размещения предприятий по производству меди является:

- 1) сырьевой  
2) энергетический  
3) водных ресурсов  
4) потребительский

**Теоретический тур**  
Максимальное количество баллов – 80  
Время выполнения заданий тестового тура – 90 минут

**Задание 1. (15 баллов)**

Указом президента Российской Федерации В.В. Путина 2024 год объявлен в России годом семьи.

1. В русской истории и культуре есть две ключевые фигуры, которые с незапамятных времён символизируют верность, любовь и семейные узы. Сегодня они почитаются как святые и покровители семейного счастья и верности. Назовите имена этой семейной четы, изображенной на фотографии. *Петр и Феврония* 35

2. В каком городе России воздвигнут этот памятник? *Муром* 35

3. К какому субъекту РФ относится этот город?

4. Назовите федеральный округ, в который входит данный субъект РФ.

5. В каких городах-миллионерах России установлены памятники этим святым, покровителям семейного счастья и верности? Назовите три города. *Восток - на - Дону.*  
*Краснодар, Пермь* 35



**Задание 2. (18 баллов)**

10 лет назад, в 2014 году Совет Федерации ратифицировал договор о вступлении этой территории в состав России.

1. Определите новый субъект РФ (республика) *Крым* 25

2. Эта республика находится на полуострове, который в разное время имел разные названия. Как назывался этот полуостров до XIII века?

3. Как называется столица этой республики? *Симферополь 25*
4. Определите город федерального значения в этой республике. *Севастополь 25*
5. Какими двумя морями омывается эта республика?
6. Назовите трех великих поэтов и писателей, в чьем творчестве отразились основные темы, мотивы и красоты этой республики.

**Задание 3. (11 баллов)**

Определите субъект федерации X и его соседей. О соседях субъекта федерации X известно следующее: *115*  
*Субъект федерации X - Омская область. Соседи Омской области: Казахстан, Тюменская область, Новосибирская область.*

О первом	Территория этого государства находится в Европе и Центральной Азии, входит в СНГ. Священная книга – Коран. Национальное жилище – юрта. Здесь находится Байконур. Здесь в свое время жили И. Крылов, А. Пушкин, Т. Шевченко, Л. Толстой. Первый ученый этого государства – Чокан Валиханов, обучался в кадетском корпусе, а позже подружился с Ф. Достоевским в субъекте X
О втором	В этом субъекте находится город, который сравнивают с Чикаго из-за быстрого роста населения. Здесь единственный в мире музей Солнца, самый большой в стране театр оперы и балета, самый удаленный от морей в мире дельфинарий. Здесь придумали «Тотальный диктант», здесь ежегодно проходит фестиваль байкеров «Обская волна».
О третьем	Город данного субъекта называют «Сибирскими Афинами». Здесь был запущен первый в РФ бизнес-инкубатор для студентов. Считается, что деревянные зелёные дома вдохновили писателя Александра Волкова написать цикл книг «Волшебник изумрудного города». Здесь останавливался А.П. Чехов, чтобы изучить «тюремную действительность». В. Я. Шишков здесь написал повесть «Тайга».
О четвертом	Область по площади третья в России. На гербе области слова Ломоносова: «Российское могущество прирастать будет Сибирью». Здесь родились: химик и основоположник нефтяного дела в России Д.И. Менделеев, композитор Алябьев, писатель Ершов, художник Перов. Здесь самый большой драматический театр России. В 1935-1944 годах область входила в состав субъекта X

#### Задание 4. (21 балл)

В 2024 году исполнилось 50 лет со дня открытия железнодорожной магистрали в России, которая входит в число крупнейших железных дорог мира.

1. Как называется эта магистраль? *Байкало - Амурская магистраль* 35
2. Какова ее протяженность? *Протяженность магистрали составляет 4324 километра* 30
3. Через территории каких шести субъектов РФ проходит эта железная дорога?
4. Зачем была построена эта магистраль?
5. В каких неблагоприятных природных условиях функционирует данная железная дорога? Назовите 4 - 5 неблагоприятных условий.
6. К какому океану обеспечивает выход России это сооружение? *Тихому океану* 15

#### Задание 5. (15 баллов)

16 ноября 2024 года исполнилось 150 лет со дня рождения русского государственного, политического и военного деятеля, учёного-океанографа, полярного исследователя, флотоводца, адмирала.



1. Назовите фамилию военного деятеля и ученого. *Колчак* 35
2. Природу какого крупного региона России изучал этот путешественник? *Север России* 35
3. На каком крупном полуострове России ученый занимался гидрологическими и океанографическими работами? *Полуостров Таймыр* 35
4. В каком городе находилась резиденция этого деятеля в годы Гражданской войны 1917–1922 годов, там же располагалось Российское правительство, которое он возглавлял. *Омск* 35
5. Какой географический объект России назван его именем? *Море*

**Школьный этап ВсОШ по географии 11 кл.**  
**Время выполнения заданий – 135 минут**  
**Максимальное количество баллов – 100 баллов**

**Тестовый тур**

Максимальное количество баллов – 20

Время выполнения заданий тестового тура – 45 минут

1. Какое государство по форме правления является республикой?

- 1) Франция
- 2) Испания
- 3) Саудовская Аравия
- 4) Япония

15

2. Какая из стран «лишняя» в списке членов ОПЕК?

- 1) Венесуэла
- 2) Иран
- 3) Чили
- 4) Нигерия

15

3. Какой известный физико-географический объект объединяет такие страны как Россия, Туркменистан, Иран, Казахстан, Азербайджан:

- 1) Уральские горы
- 2) Каспийское море
- 3) Кавказские горы
- 4) Прикаспийская низменность

15

4. Установите соответствие между названием и типом электростанции в России.

25

Название электростанции	Тип электростанции
1. Кислогубская – В	А) тепловая электростанция (ТЭС)
2. Красноярская – Г	Б) атомная электростанция (АЭС)
3. Билибинская – Б	В) приливная электростанция (ПЭС)
4. Костромская – А	Г) гидроэлектростанция (ГЭС)

5. Кандалакшский заповедник расположен:

- 1) В Мурманской области и Карелии
- 2) на Алтае
- 3) в Бурятии и Забайкальском крае
- 4) в Крыму

15

6. По особенностям административно-территориального устройства страны мира делятся на:

- 1) Метрополии и колонии
  - 2) Федеративные и унитарные 15
  - 3) Республики и монархии
  - 4) Доминионы и протектораты
7. Территория или часть территории государства, полностью окружённая территорией другого государства – это Анкава 15
8. Установите соответствие между столбцами: 25

Природная зона	Специализация сельского хозяйства
1) Тундра - А <span style="color: red;">0,55</span>	А) оленеводство
2) Лесная зона - Б <span style="color: red;">0,55</span>	Б) рожь, ячмень, лен
3) Лесостепи и степи - В <span style="color: red;">0,55</span>	В) овцеводство
4) Полупустыни и пустыни - Г <span style="color: red;">0,55</span>	Г) пшеница, кукуруза, сахарная свекла

9. Если численный масштаб карты 1:50000, то именованный будет равен:
- 1) В 1 см 50 км
  - 2) В 1 см 5 км
  - 3) В 1 см 500 м 15
  - 4) В 1 см 500 км
10. «Отцом географии», первым определивший угловое расстояние от экватора до тропика и вычисливший размеры Земли, называют:
- 1) Птолемея
  - 2) Аристотеля
  - 3) Геродота
  - 4) Эратосфена 15
11. Назовите главный город Ямало-Ненецкого автономного округа.
- 1) Сыктывкар
  - 2) Нарьян-Мар
  - 3) Салехард 15
  - 4) Анадырь
12. Какая из стран располагается на разных материках?
- 1) Турция
  - 2) Египет 15
  - 3) Россия
  - 4) Казахстан
13. Выберите верное утверждение о динамике численности населения России.

- 1) В Москве, Дагестане, Тыве, Псковской области положительная динамика населения.  
15 2) В областях Северо-Запада России наблюдается отрицательный естественный прирост.  
3) Во всех национальных субъектах России – отрицательное сальдо миграции.  
4) Демографическая политика направлена на снижение рождаемости.

14. Для какой из перечисленных стран характерен наибольший уровень урбанизации?

- 1) Вьетнам  
2) Индия  
15 3) Китай  
4) Аргентина

15. В каком из городов 23 сентября (день осеннего равноденствия) солнце раньше всего по московскому времени поднимется над горизонтом?

- 15 1) Иркутск  
2) Санкт -Петербург  
3) Астрахань  
4) Москва

16. Выберите вариант, где правильно указан народ, его языковая семья и религия.

- 1) Калмыки-Северокавказская семья–буддизм  
2) Чуваши-Уральская семья–ислам  
15 3) Тувинцы-Алтайская семья–ислам  
4) Осетины-Индоевропейская семья– православие

17. Определите тип климата по следующим признакам.

Годовая амплитуда температур 50-60°C, небольшая (0,2-0,3м) высота снежного покрова, господство антициклональных типов погоды.

- 1) морской  
15 2) резко континентальный  
3) континентальный  
4) умеренно континентальный

18. Ведущим фактором размещения предприятий по производству меди является:

- 15 1) сырьевой  
2) энергетический  
3) водных ресурсов  
4) потребительский

### Теоретический тур

Максимальное количество баллов—80

Время выполнения заданий тестового тура -90 минут

#### Задание 1. (15 баллов)

Указом президента Российской Федерации В.В. Путина 2024 год объявлен в России годом семьи.

1. В русской истории и культуре есть две ключевые фигуры, которые с незапамятных времён символизируют верность, любовь и семейные узы. Сегодня они почитаются как святые и покровители семейного счастья и верности. Назовите имена этой семейной четы, изображенной на фотографии.

*Петр и Феврония* 35

2. В каком городе России воздвигнут этот памятник? *Муром* 35

3. К какому субъекту РФ относится этот город? *Владимирская об-сть* 35

4. Назовите федеральный округ, в который входит данный субъект РФ. *Центральный* 35

5. В каких городах-миллионерах России установлены памятники этим святым, покровителям семейного счастья и верности? Назовите три города.

*Краснодар, Пермь, Омск* 35



#### Задание 2. (18 баллов)

10 лет назад, в 2014 году Совет Федерации ратифицировал договор о вступлении этой территории в состав России.

1. Определите новый субъект РФ (республика) *Крым* 25

2. Эта республика находится на полуострове, который в разное время имел разные названия. Как назывался этот полуостров до XIII века? *Таврика* 25

3. Как называется столица этой республики? *Симферополь 25*
4. Определите город федерального значения в этой республике. *Севастополь 25*
5. Какими двумя морями омывается эта республика? *Черное, Азовское 45*
6. Назовите трех великих поэтов и писателей, в чьем творчестве отразились основные темы, мотивы и красоты этой республики. *А.С. Пушкин 25*

**Задание 3. (11 баллов)**

Определите субъект федерации X и его соседей. О соседях субъекта федерации X известно следующее: *Омская область 35*

О первом	Территория этого государства находится в Европе и Центральной Азии, входит в СНГ. Священная книга – Коран. Национальное жилище – юрта. Здесь находится Байконур. Здесь в свое время жили И. Крылов, А. Пушкин, Т. Шевченко, Л. Толстой. Первый ученый этого государства – Чокан Валиханов, обучался в кадетском корпусе, а позже подружился с Ф. Достоевским в субъекте X <i>Казахстан 25</i>
О втором	В этом субъекте находится город, который сравнивают с Чикаго из-за быстрого роста населения. Здесь единственный в мире музей Солнца, самый большой в стране театр оперы и балета, самый удаленный от морей в мире дельфинарий. Здесь придумали «Тотальный диктант», здесь ежегодно проходит фестиваль байкеров «Обская волна».
О третьем	Город данного субъекта называют «Сибирскими Афинами». Здесь был запущен первый в РФ бизнес-инкубатор для студентов. Считается, что деревянные зелёные дома вдохновили писателя Александра Волкова написать цикл книг «Волшебник изумрудного города». Здесь останавливался А.П. Чехов, чтобы изучить «тюремную действительность». В. Я. Шишков здесь написал повесть «Тайга».
О четвертом	Область по площади третья в России. На гербе области слова Ломоносова: «Российское могущество прирастать будет Сибирью». Здесь родились: химик и основоположник нефтяного дела в России Д.И. Менделеев, композитор Алябьев, писатель Ершов, художник Перов. Здесь самый большой драматический театр России. В 1935-1944 годах область входила в состав субъекта X <i>Томская область 25</i>

**Задание 4. (21 балл)**

В 2024 году исполнилось 50 лет со дня открытия железнодорожной магистрали в России, которая входит в число крупнейших железных дорог мира.

1. Как называется эта магистраль? *Байкало - Амурская.* 35
2. Какова ее протяженность? *4324 км.* 35
3. Через территории каких шести субъектов РФ проходит эта железная дорога? 35
4. Зачем была построена эта магистраль? *Освоение природных ресурсов, развитие*
5. В каких неблагоприятных природных условиях функционирует данная железная дорога? Назовите 4-5 неблагоприятных условий.
6. К какому океану обеспечивает выход России это сооружение?

**Задание 5. (15 баллов)**

16 ноября 2024 года исполнилось 150 лет со дня рождения русского государственного, политического и военного деятеля, учёного-океанографа, полярного исследователя, флотоводца, адмирала.



1. Назовите фамилию военного деятеля и ученого. *А. В. Космак* 35
2. Природу какого крупного региона России изучал этот путешественник? *Аляска* 35
3. На каком крупном полуострове России ученый занимался гидрологическими и океанографическими работами? *Файер* 35
4. В каком городе находилась резиденция этого деятеля в годы Гражданской войны 1917–1922 годов, там же располагалось Российское правительство, которое он возглавлял. *Омск* 35
5. Какой географический объект России назван его именем? *Остров* 35