

LD 070011

ШКОЛЬНЫЙ ЭТАП ВСЕРОССИЙСКОЙ ОЛИМПИАДЫ ШКОЛЬНИКОВ ПО ГЕОГРАФИИ

7 класс

365

Теоретический тур- 60 мин. Тестовый – 30 мин.

Теоретический тур

Задание 1.

Австралия считается самым маленьким материком. Из-за отдалённого расположения она открыта позднее других материков. Её открытие вместе с ближайшими к ней островами связывают с именами голландских и английских путешественников.

Укажите крайние точки материка и кому принадлежит первенство открытия крайних точек материка. Из перечня координат этих точек выберите соответствующие каждому мысу. Ответ занесите в таблицу.

Определите протяженность материка с севера на юг в градусах и километрах по меридиану 142° в. д.

Перечень координат крайних точек материка:

1041° ю. ш., 14232° в. д.; 3911° ю. ш., 14625° в. д.

2609° ю. ш., 11309° в. д.; 2840° ю. ш., 15334° в. д.

Мыс	Кем открыт мыс	Координаты мыса
Крайняя восточная точка	1041 ю. ш.,	15334
Крайняя западная точка		
Крайняя южная точка		
Крайняя северная точка		

Задание 2.

Определите страны по их кратким характеристикам

1. Островная часть этого государства во много раз больше самой страны. Столица находится на острове Зеландия

2. Название страны переводится как «малый город». Одна из монархий Европы, является федерацией. Второе место в мире по уровню доходов на душу населения.

Задание 3.

Это озеро дало имя расположенной в субъекте РФ равнине высотой 200–500 м, являющейся водоразделом между двумя морями и областью внутреннего стока. Название озера отразилось в собственном имени одного из этапов природного процесса, повлиявшего на образование котловин описываемых озёр, и других форм рельефа аналогичного происхождения, которые широко распространены в этой части нашей страны. Озеро расположено в пределах особо охраняемой природной территории, специализирующейся на экологическом туризме и также получившей своё название благодаря этому водоёму. А ещё «озёрное имя» получил ударный музыкальный инструмент, ставший символом этого края.

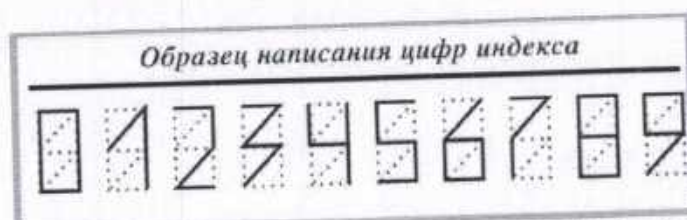
Определите:

- 1) Название озера *Валдай* 50
- 2) Тип равнины по высоте *возвышенность* 20
- 3) Море, к бассейну которого относится озеро *Балтийское* 20
- 4) Природный процесс, один из этапов которого получил собственное имя от названия озера
- 5) Вид(статус) особоохраняемой природной территории
- 6) Ударный инструмент

Тестовый тур

Блок 1. Выберите правильный ответ

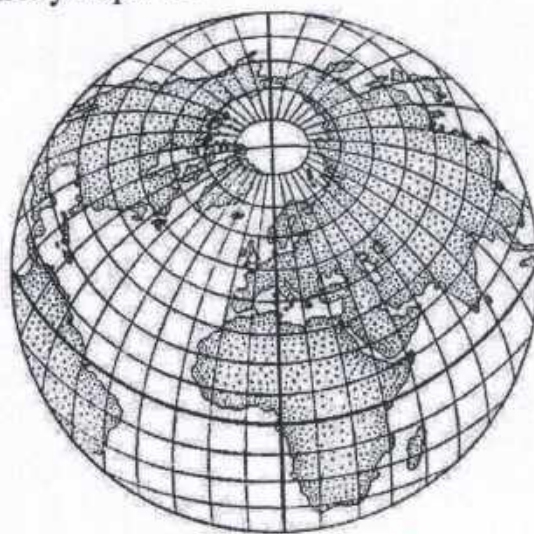
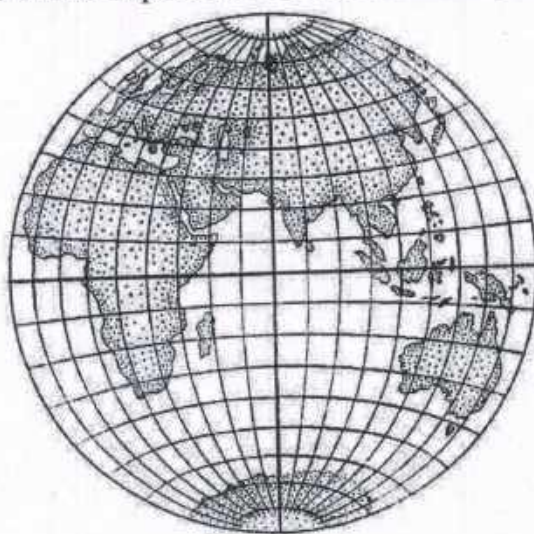
1. Перед вами написание цифр почтового индекса. Выстраивание линий по азимутам даст возможность начертить цифру **семь**, если воспользоваться следующей последовательностью азимутальных направлений:



А. 90; 225; 180 Б. 90; 180; 270 В. 45; 180; 270 Г. 180; 90; 225

2. Какие моря относятся к бассейну Атлантического океана?:
- А. Белое море и море Лаптевых
 - Б. Черное море и Карибское море
 - В. Балтийское море и Охотское море
 - Г. Средиземное море и Аравийское море

3. В какой проекции выполнена карта полушарий?:



- А. Коническая
- Б. Цилиндрическая
- В. Азимутальная
- Г. Меридиональная

4. Кто из перечисленных путешественников открыл морской путь в Индию вокруг Африки?:

- А. Фернан Магелан Б. Христофор Колумб
В. Джеймс Кук Г. Васко да Гама

15

5. 21 марта, это:

- А. День весеннего солнцестояния
Б. День, когда все параллели северного и южного полушария освещены одинаково
В. День начала астрономической весны в южном полушарии Москвы
Г. День весеннего равноденствия

15

6. Какое выражение верно:

- А. Бризы - ветры, участвующие в общей циркуляции атмосферы
Б. Циркуляция атмосферы - это система крупномасштабных воздушных течений над земным шаром
В. Воздушные массы при перемещении сохраняют свои свойства
Г. Свойства воздушных масс зависят от погоды.

15

7. В рельефе этого материка преобладают равнины, на северо-западе расположены молодые горы, на востоке проходит крупный разлом земной коры. Это материк:

- А. Австралия Б. Евразия В. Антарктида Г. Африка

15

8. Какая река дважды пересекает экватор?

- А. Амазонка Б. Нил В. Конго Г. Меконг

15

9. Высокослоистые облака относятся к:...

- А. Облакам нижнего яруса
Б. Облакам среднего яруса
В. Облакам верхнего яруса
Г. Облакам вертикального развития

15

10. Самое большое по площади акватории пресное озеро мира. Его северо-восточная часть находится в Канаде, западная и южная - в США. Оно входит в систему Великих озёр. Сток воды осуществляется по р. Сент-Мэрис в оз. Гурон. Котловина озера имеет тектоническое происхождение. В четвертичное время она подвергалась воздействию ледниковой эрозии.

- А. Гурон Б. Большое Невольничье В. Онтарио Г. Верхнее

15

11. Шелк, фарфор, монеты были изобретены в:

- А. Египте Б. Дамаске В. Индии Г. Китае

15

12. Какова будет температура на горе Роман-Кош (Крымские горы, высота 1500м), если у подножия температура была 20°C:
А. 11°С Б. 13°С В. 10°С Г. 16°С
13. Группа народов, считающаяся самой низкорослой на Земле.
А. Бушмены Б. Готтентоты В. Пигмеи Г. Зулусы 10
14. Аляскинское течение проходит у берегов острова:
А. Кадьяк Б. Сокотра В. Сахалин Г. Новая Гвинея
15. Это крайняя точка материка имеет несколько названий: мыс Бланко, Бен-Секка, Рас-Энгела, Эль-Абъяд. Это точка:
А. Крайняя южная точка материка Евразия
Б. Крайняя северная точка материка Африка 10
В. Крайняя западная точка материка Австралия
Г. Крайняя восточная точка материка Южная Америка

2 блок. Выделите несколько правильных ответов

1. Город Курск находится на 51 градусе северной широты. Какие города мира, из ниже приведенного списка находятся на этой же широте.
А. Лондон Б. Берлин В. Дрезден Г. Антверпен
Д. Варшава
2. Разместите географические пояса в порядке возрастания количества природных зон, которые сформировались в пределах каждого пояса:
А. Экваториальный Б. Антарктический
В. Умеренный Г. Тропический 5 А Г В 40
3. Какие три из перечисленных государственных заповедников находятся в азиатской части России?:
А. Большой Арктический заповедник
Б. Баргузинский заповедник 30
В. Заповедник Галичья гора
Г. Приокский заповедник
Д. Алтайский заповедник
4. Большинство рек Евразии несут свои воды в океаны, но есть реки лишенные такой возможности, к ним относятся:
А. Волга
Б. Хуанхе
В. Сырдарья 30
Г. Ганг
Д. Амударья

3 блок. Установите соответствие

1. Установите соответствие между представителем органического мира и материком, для которого он характерен.

1.	Северная Америка	А.	Лемур
2.	Австралия	Б.	Секвойя
3.	Африка	В.	Ехидна
4.	Южная Америка	Г.	Капибара

Ответ:

1 - Б
2 - В
3 - А
4 - Г

25

2. Кочевые народы перемещаются вслед за стадами на дальние расстояния, останавливаясь лишь на короткое время. Поэтому и жилища скотоводов-кочевников приспособлены под их образ жизни. Установите соответствие между формой жилища и народом.

1.	чум	А.	Бедуины
2.	яранга	Б.	Эскимосы
3.	иглу	В.	Чукчи
4.	Шерстяной дом	Г.	Ханты, ненцы, коми

Ответ:

1 - А
2 - В
3 - Б
4 - Г

25

10 070010
415

**ШКОЛЬНЫЙ ЭТАП ВСЕРОССИЙСКОЙ ОЛИМПИАДЫ
ШКОЛЬНИКОВ ПО ГЕОГРАФИИ
7 класс**

Теоретический тур- 60 мин. Тестовый – 30 мин.

Теоретический тур

Задание 1.

Австралия считается самым маленьким материком. Из-за отдалённого расположения она открыта позднее других материков. Её открытие вместе с ближайшими к ней островами связывают с именами голландских и английских путешественников.

Укажите крайние точки материка и кому принадлежит первенство открытия крайних точек материка. Из перечня координат этих точек выберите соответствующие каждому мысу. Ответ занесите в таблицу.

Определите протяженность материка с севера на юг в градусах и километрах по меридиану 142° в. д.

Перечень координат крайних точек материка:

1041° ю. ш., $14232'$ в. д.; 3911° ю. ш., $14625'$ в. д;

2609° ю. ш., $11309'$ в. д.; 2840° ю. ш., $15334'$ в. д.

Мыс	Кем открыт мыс	Координаты мыса
Крайняя восточная точка		
Крайняя западная точка		
Крайняя южная точка		
Крайняя северная точка		

Задание 2.

Определите страны по их кратким характеристикам

1. Островная часть этого государства во много раз больше самой страны. Столица находится на острове Зеландия *Данция 25*

2. Название страны переводится как «малый город». Одна из монархий Европы, является федерацией. Второе место в мире по уровню доходов на душу населения. *Люксембург 25*

Задание 3.

Это озеро дало имя расположенной в субъекте РФ равнине высотой 200–500 м, являющейся водоразделом между двумя морями и областью внутреннего стока. Название озера отразилось в собственном имени одного из этапов природного процесса, повлиявшего на образование котловин описываемых озёр, и других форм рельефа аналогичного происхождения, которые широко распространены в этой части нашей страны. Озеро расположено в пределах особо охраняемой природной территории, специализирующейся на экологическом туризме и также получившей своё название благодаря этому водоёму. А ещё «озёрное имя» получил ударный музыкальный инструмент, ставший символом этого края.

Определите:

- 1) Название озера *Валдай 55*
 2) Тип равнины по высоте *возвышенность 25*
 3) Море, к бассейну которого относится озеро *Балтийское 25*
 4) Природный процесс, один из этапов которого получил собственное имя от названия озера
 5) Вид(статус) особоохраняемой природной территории
 6) Ударный инструмент

Тестовый тур

Блок 1. Выберите правильный ответ

1. Перед вами написание цифр почтового индекса. Выстраивание линий по азимутам даст возможность начертить цифру **семь**, если воспользоваться следующей последовательностью азимутальных направлений:

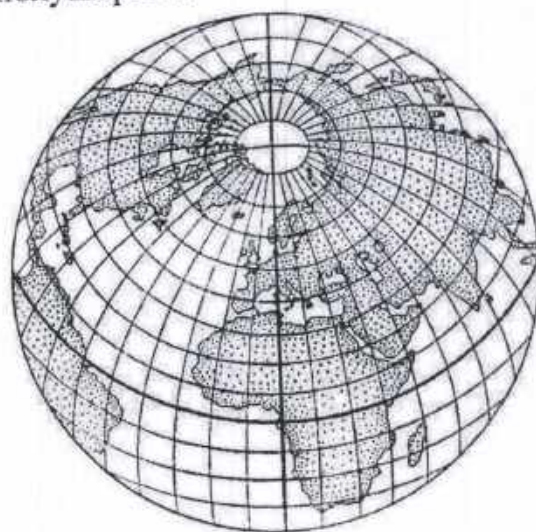


А. 90; 225; 180 Б. 90; 180; 270 В. 45; 180; 270 Г. 180; 90; 225

2. Какие моря относятся к бассейну Атлантического океана?:

- ☒ А. Белое море и море Лаптевых
☒ Б. Черное море и Карибское море *15*
 В. Балтийское море и Охотское море
 Г. Средиземное море и Аравийское море

3. В какой проекции выполнена карта полушарий?:



- А. Коническая Б. Цилиндрическая
☒ В. Азимутальная Г. Меридиональная *15*

4. Кто из перечисленных путешественников открыл морской путь в Индию вокруг Африки?:

- А. Фернан Магелан Б. Христофор Колумб
В. Джеймс Кук Г. Васко да Гама

15

5. 21 марта, это:

- А. День весеннего солнцестояния
Б. День, когда все параллели северного и южного полушария освещены одинаково
В. День начала астрономической весны в южном полушарии Москвы

Г. День весеннего равноденствия

15

6. Какое выражение верно:

- А. Бризы - ветры, участвующие в общей циркуляции атмосферы
Б. Циркуляция атмосферы - это система крупномасштабных Воздушных течений над земным шаром
В. Воздушные массы при перемещении сохраняют свои свойства
Г. Свойства воздушных масс зависят от погоды.

15

7. В рельефе этого материка преобладают равнины, на северо-западе расположены молодые горы, на востоке проходит крупный разлом земной коры. Это материк:

- А. Австралия Б. Евразия В. Антарктида Г. Африка

15

8. Какая река дважды пересекает экватор?

- А. Амазонка Б. Нил В. Конго Г. Меконг

15

9. Высокослоистые облака относятся к:...

- А. Облакам нижнего яруса
Б. Облакам среднего яруса
В. Облакам верхнего яруса
Г. Облакам вертикального развития

15

10. Самое большое по площади акватории пресное озеро мира. Его северо-восточная часть находится в Канаде, западная и южная - в США. Оно входит в систему Великих озёр. Сток воды осуществляется по р. Сент-Мэрис в оз. Гурон. Котловина озера имеет тектоническое происхождение. В четвертичное время она подвергалась воздействию ледниковой эрозии.

- А. Гурон Б. Большое Невольничье В. Онтарио Г. Верхнее

15

11. Шелк, фарфор, монеты были изобретены в:

- А. Египте Б. Дамаске В. Индии Г. Китае

15

12. Какова будет температура на горе Роман-Кош (Крымские горы, высота 1500м), если у подножия температура была 20°C:

- А. 11°С Б. 13°С В. 10°С Г. 16°С

13. Группа народов, считающаяся самой низкорослой на Земле.

- А. Бушмены Б. Готтентоты В. Пигмеи Г. Зулусы

14. Аляскинское течение проходит у берегов острова:

- А. Кадьяк Б. Сокотра В. Сахалин Г. Новая Гвинея

15. Это крайняя точка материка имеет несколько названий: мыс Бланко, Бен-Секка, Рас-Энгела, Эль-Абъяд. Это точка:

- А. Крайняя южная точка материка Евразия
Б. Крайняя северная точка материка Африка
В. Крайняя западная точка материка Австралия
Г. Крайняя восточная точка материка Южная Америка

2 блок. Выделите несколько правильных ответов

1. Город Курск находится на 51 градусе северной широты. Какие города мира, из ниже приведенного списка находятся на этой же широте.

- А. Лондон Б. Берлин В. Дрезден Г. Антверпен
Д. Варшава

2. Разместите географические пояса в порядке возрастания количества природных зон, которые сформировались в пределах каждого пояса:

- А. Экваториальный Б. Антарктический
В. Умеренный Г. Тропический

3. Какие три из перечисленных государственных заповедников находятся в азиатской части России?:

- А. Большой Арктический заповедник
Б. Баргузинский заповедник
В. Заповедник Галичья гора
Г. Приокский заповедник
Д. Алтайский заповедник

4. Большинство рек Евразии несут свои воды в океаны, но есть реки лишенные такой возможности, к ним относятся:

- А. Волга
Б. Хуанхэ
В. Сырдарья
Г. Ганг
Д. Амударья

3 блок. Установите соответствие

1. Установите соответствие между представителем органического мира и материком, для которого он характерен.

1.	Северная Америка	А.	Лемур
2.	Австралия	Б.	Секвойя
3.	Африка	В.	Ехидна
4.	Южная Америка	Г.	Капибара

Ответ:

- 1 - б
2 - В
3 - а
4 - Г

25

2. Кочевые народы перемещаются вслед за стадами на дальние расстояния, останавливаясь лишь на короткое время. Поэтому и жилища скотоводов-кочевников приспособлены под их образ жизни. Установите соответствие между формой жилища и народом.

1.	чум	А.	Бедуины
2.	яранга	Б.	Эскимосы
3.	иглу	В.	Чукчи
4.	Шерстяной дом	Г.	Ханты, ненцы, коми

Ответ:

- 1 - Г
2 - б
3 - Б
4 - А

25

ШКОЛЬНЫЙ ЭТАП ВСЕРОССИЙСКОЙ ОЛИМПИАДЫ ШКОЛЬНИКОВ ПО ГЕОГРАФИИ

6 класс

Теоретический тур-45 мин.

Задание 1.

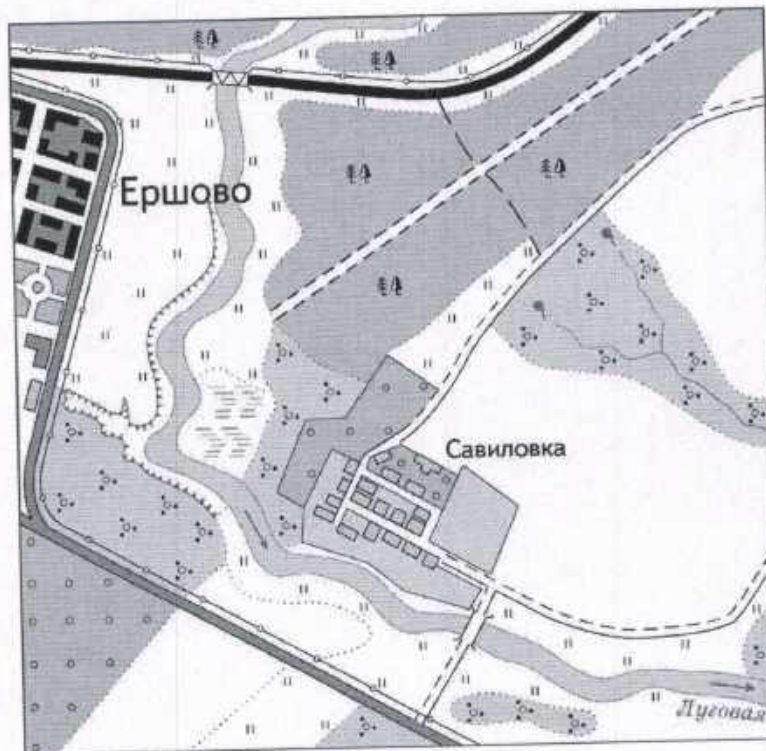
Прочитайте текст, вставьте пропущенные в нем слова и ответьте на вопросы.

Особая карта, на которой изображена очень маленькая территория, называется (1. план местности). Для построения такой карты используют (2. масштаб) 1:5000 (в 1 см 50 м) и крупнее. Для изображения объектов используют (3. символические знаки) с их помощью можно ответить на многие вопросы, относительно изображенной там территории.

1. Какой берег реки Луговая между населенными пунктами Ершово и Савилровка крутой, а какой пологий?

2. Как расположен лес относительно села Савилровка? Как называется такой тип леса? Выберите породы деревьев, которые там могут произрастать.

- (A) Сосна
- (B) Ель
- (C) Дуб
- (D) Берёза
- Е. Пихта
- Ф. Граб



Задание 2.

Выберите, какой будет режим освещенности и смена времен года на планете Земля, если угол наклона земной оси станет 90 градусов.

- ☒ А. День и ночь по 12 ч 25
 - ☐ В. Полгода день 24 ч
 - ☐ С. Полгода ночь 24ч 25
-
- ☒ А. Времен года не будет
 - ☐ В. Сезоны будут сменяться каждые три месяца
 - ☐ С. Сезоны будут сменяться каждые полгода

Задание 3.

Самые высокие горные вершины в разных странах являются их визитной карточкой. Определите вершины по ниже приведенным характеристикам:

1. Гора находится на границе Китая и Непала. Это самая высокая точка Гималаев.
2. Двуглавая гора находится в России, в пределах Бокового хребта севернее Главного Кавказского хребта. Эльбрус 35
3. Гора находится в Аргентине в национальном парке «Аконкагуа». Это высочайшая гора Анд, расположена в их центральной части

Тестовый тур - 30 мин.

Блок 1. Выберите один правильный ответ

1. Кто из древнегреческих учёных доказал, что Земля имеет форму шара?
А. Геродот Б. Эратосфен ☒ В. Аристотель Г. Пифагор 15
2. Линия, которая делит земной шар на два полушария: северное и южное, называется:
☒ А. Экватор Б. Начальный меридиан 15
В. Тропик Г. Полярный круг
3. Какой материк лежит сразу в трех полушариях?
А. Африка ☒ Б. Евразия В. Южная Америка Г. Австралия 15

4. Ясная звёздная ночь, но полярной звезды не видно. В каком полушарии мы находимся?
А. Северном ☒ Б. Южном В. Западном Г. Восточном 15
5. Выберите правильное утверждение
А. Солнце вращается вокруг Земли.
☒ Б. День и ночь наступают потому, что Земля вращается вокруг своей оси и по-разному освещается Солнцем.
В. Ночь наступает, потому что на небе появляется Луна
Г. Длина светового дня зимой и летом одинакова 15
6. Самая высокая гора в России, это:
А. Белуха Б. Ключевская сопка ☒ В. Эльбрус Г. Народная 15
7. Наиболее подробно территория изображена на карте масштаба:
☒ А. 1: 2500 Б. 1: 25000 В. 1:250000 Г. 1:2500000 15
8. Как называется полезное ископаемое, добычу которого производят в пределах месторождения «Курская магнитная аномалия»
А. Известняк Б. Огнеупорная глина ☒ В. Железная руда Г. Каменный уголь 15
9. Как называется равнина к западу от Уральских гор?
А. Западно-Сибирская равнина
Б. Западно-Уральская равнина
В. Восточно-Сибирская равнина.
☒ Г. Восточно-Европейская (Русская) равнина 15
10. Как называется самое «толстое» дерево на Земле?
А. Секвойя Б. Дуб В. Платан ☒ Г. Баобаб 15

Блок 2. Выберите правильные ответы на вопросы

1. Кто из ниже приведенных руководителей экспедиций совершил кругосветные путешествия?:
А. Христофор Колумб
☒ Б. Фернан Магеллан 35
В. Марко Поло
☒ Г. Михаил Лазарев и Фадеев Беллинсгаузен
☒ Д. Джеймс Кук
2. Какие из перечисленных равнин будут находиться на высоте над уровнем моря более, чем 200 метров?:
☒ А. Среднерусская возвышенность
Б. Прикаспийская низменность

В. Великие Американские равнины
 Г. Окско-Донская низменность
 Д. Плато Путорана

3. В эмблемах, каких из перечисленных государственных заповедников есть изображение медведя?:

- А. Васюганский
 Б. Саяно-Шушенский
 В. Буреинский
 Г. Кроноцкий
 Д. Шайтан-Тау

35



4. Какие из этих растений обитают в естественной среде на территории природной зоны лесостепь



- А. Клен татарский
 Б. Дуб черешчатый
 В. Лиственница европейская
 Г. Барбарис обыкновенный
 Д. Каштан съедобный

35

Блок 3. Установите соответствие

Какие из этих животных обитающие в естественной среде (не в зоопарке) соответствуют природным зонам: тайга, тундра, степь, пустыня

1.	Тундра	А.	 <p>кулан</p>
2	Тайга	Б.	 <p>ЛисицаФенёк</p>

3	Степь	В.	 <p>Росомаха</p>
4	Пустыня	Г.	 <p>Песец</p>

Ответ:

- 1 –
- 2 –
- 3 –
- 4 –

ШКОЛЬНЫЙ ЭТАП ВСЕРОССИЙСКОЙ ОЛИМПИАДЫ ШКОЛЬНИКОВ ПО ГЕОГРАФИИ

6 класс

Теоретический тур – 45 мин.

Задание 1.

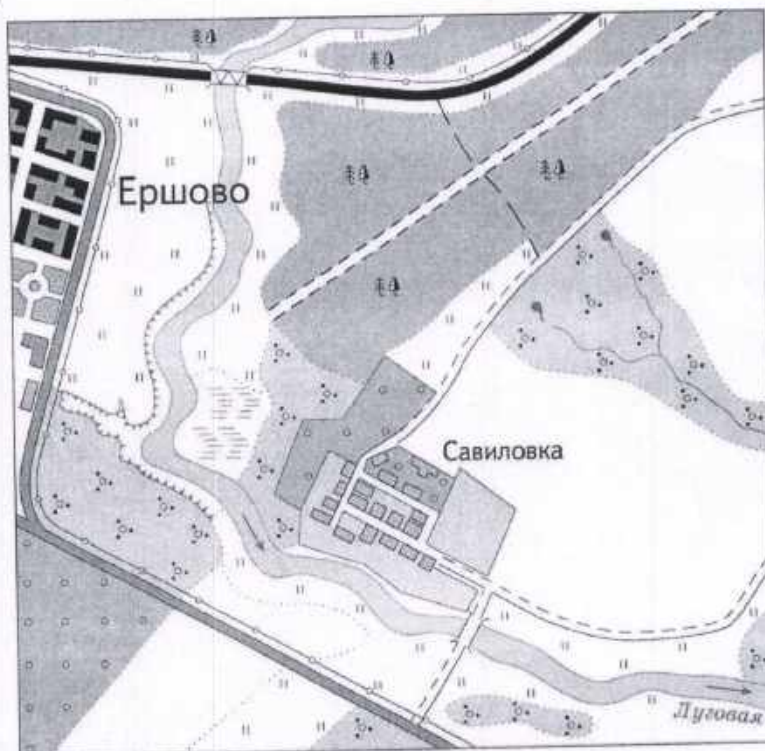
Прочитайте текст, вставьте пропущенные в нем слова и ответьте на вопросы.

Особая карта, на которой изображена очень маленькая территория, называется (1. Ланг-Тун). Для построения такой карты используют (2. масштаб) 1:5000 (в 1 см 50 м) и крупнее. Для изображения объектов используют (3. условные знаки), с их помощью можно ответить на многие вопросы, относительно изображенной там территории.

1. Какой берег реки Луговая между населенными пунктами Ершово и Савилровка крутой, а какой пологий?

2. Как расположен лес относительно села Савилровка? Как называется такой тип леса? Выберите породы деревьев, которые там могут произрастать. смешанный 10

- А. Сосна
- В. Ель
- С. Дуб
- Д. Берёза
- Е. Пихта
- Ф. Граб



Задание 2.

Выберите, какой будет режим освещенности и смена времен года на планете Земля, если угол наклона земной оси станет 90 градусов.

- 25 ☒ А. День и ночь по 12 ч
В. Полгода день 24 ч
С. Полгода ночь 24ч
- 25 ☒ А. Времен года не будет
В. Сезоны будут сменяться каждые три месяца
С. Сезоны будут сменяться каждые полгода

Задание 3.

Самые высокие горные вершины в разных странах являются их визитной карточкой. Определите вершины по ниже приведенным характеристикам:

1. Гора находится на границе Китая и Непала. Это самая высокая точка Гималаев.
2. Двуглавая гора находится в России, в пределах Бокового хребта севернее Главного Кавказского хребта.
3. Гора находится в Аргентине в национальном парке «Аконкагуа». Это высочайшая гора Анд, расположена в их центральной части

Тестовый тур- 30 мин.

Блок 1. Выберите один правильный ответ

1. Кто из древнегреческих учёных доказал, что Земля имеет форму шара?
15 А. Геродот Б. Эратосфен ☒ В. Аристотель Г. Пифагор
2. Линия, которая делит земной шар на два полушария: северное и южное, называется:
15 ☒ А. Экватор Б. Начальный меридиан
В. Тропик Г. Полярный круг
3. Какой материк лежит сразу в трех полушариях?
15 А. Африка ☒ Б. Евразия В. Южная Америка Г. Австралия

4. Ясная звёздная ночь, но полярной звезды не видно. В каком полушарии мы находимся?
А. Северном Б. Южном В. Западном Г. Восточном
5. Выберите правильное утверждение
А. Солнце вращается вокруг Земли.
15 Б. День и ночь наступают потому, что Земля вращается вокруг своей оси и по-разному освещается Солнцем.
В. Ночь наступает, потому что на небе появляется Луна
Г. Длина светового дня зимой и летом одинакова
6. Самая высокая гора в России, это:
15 А. Белуха Б. Ключевская сопка В. Эльбрус Г. Народная
7. Наиболее подробно территория изображена на карте масштаба:
15 А. 1: 2500 Б. 1: 25000 В. 1:250000 Г. 1:2500000
8. Как называется полезное ископаемое, добычу которого производят в пределах месторождения «Курская магнитная аномалия»
15 А. Известняк Б. Огнеупорная глина В. Железная руда Г. Каменный уголь
9. Как называется равнина к западу от Уральских гор?
15 А. Западно-Сибирская равнина
Б. Западно-Уральская равнина
В. Восточно-Сибирская равнина.
Г. Восточно-Европейская (Русская) равнина
10. Как называется самое «толстое» дерево на Земле?
А. Секвойя Б. Дуб В. Платан Г. Баобаб

Блок 2. Выберите правильные ответы на вопросы

1. Кто из ниже приведенных руководителей экспедиций совершил кругосветные путешествия?:
25 А. Христофор Колумб
Б. Фернан Магеллан
В. Марко Поло
Г. Михаил Лазарев и Фадей Беллинсгаузен
Д. Джеймс Кук
2. Какие из перечисленных равнин будут находиться на высоте над уровнем моря более, чем 200 метров?:
35 А. Среднерусская возвышенность
Б. Прикаспийская низменность

- ☒ В. Великие Американские равнины
☐ Г. Окско-Донская низменность
☒ Д. Плато Путорана

3. В эмблемах, каких из перечисленных государственных заповедников есть изображение медведя?:



- ☐ А. Васюганский
☐ Б. Саяно-Шушенский
☒ В. Буреинский
☒ Г. Кроноцкий
☒ Д. Шайтан-Тау



4. Какие из этих растений обитают в естественной среде на территории природной зоны лесостепь

- ☒ А. Клен татарский
☒ Б. Дуб черешчатый
☐ В. Лиственница европейская
☒ Г. Барбарис обыкновенный
☐ Д. Каштан съедобный

Блок 3. Установите соответствие

Какие из этих животных обитающие в естественной среде (не в зоопарке) соответствуют природным зонам: тайга, тундра, степь, пустыня

1.	Тундра	А.	
			кулан
2	Тайга	Б.	
			ЛисицаФенёк

3	Степь	В.	 <p>Росомаха</p>
4	Пустыня	Г.	 <p>Песец</p>

Ответ:

- 1 - А
2 - В
3 - А
4 - Б

45

ШКОЛЬНЫЙ ЭТАП ВСЕРОССИЙСКОЙ ОЛИМПИАДЫ ШКОЛЬНИКОВ ПО ГЕОГРАФИИ

6 класс

Теоретический тур – 45 мин.

Задание 1.

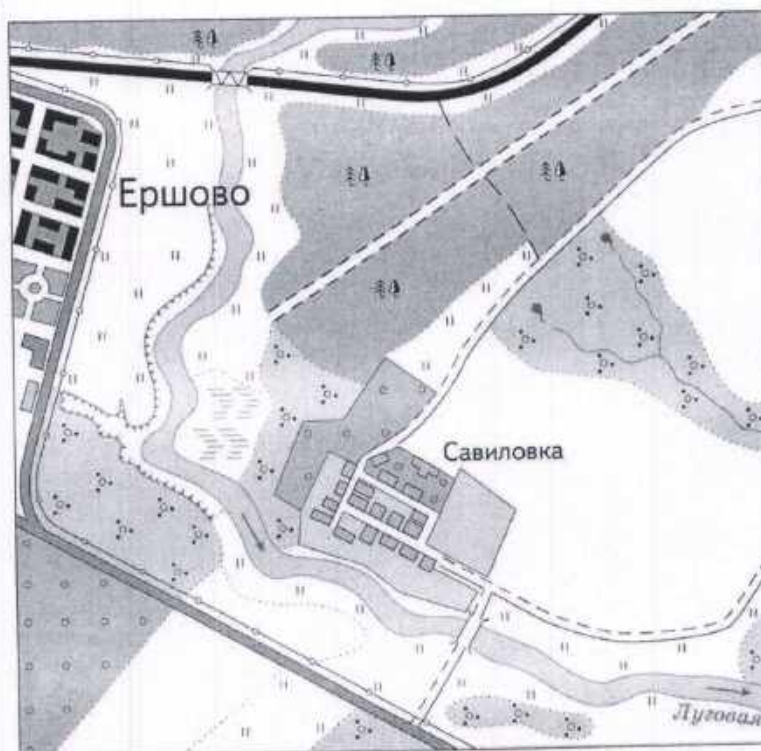
Прочитайте текст, вставьте пропущенные в нем слова и ответьте на вопросы.

Особая карта, на которой изображена очень маленькая территория, называется (1. план местности). Для построения такой карты используют (2. масштаб) 1:5000 (в 1 см 50 м) и крупнее. Для изображения объектов используют (3. символические знаки), с их помощью можно ответить на многие вопросы, относительно изображенной там территории.

1. Какой берег реки Луговая между населенными пунктами Ершово и Савилровка крутой, а какой пологий?

2. Как расположен лес относительно села Савилровка? Как называется такой тип леса? Выберите породы деревьев, которые там могут произрастать. смешанный 1 б

- ☒ А. Сосна
- ☒ В. Ель
- ☒ С. Дуб
- ☒ D. Берёза
- ☒ E. Пихта
- ☒ F. Граб



Задание 2.

Выберите, какой будет режим освещенности и смена времен года на планете Земля, если угол наклона земной оси станет 90 градусов.

- 25 ☒ А. День и ночь по 12 ч
В. Полгода день 24 ч
С. Полгода ночь 24ч
- 25 ☒ А. Времен года не будет
В. Сезоны будут сменяться каждые три месяца
С. Сезоны будут сменяться каждые полгода

Задание 3.

Самые высокие горные вершины в разных странах являются их визитной карточкой. Определите вершины по ниже приведенным характеристикам:

1. Гора находится на границе Китая и Непала. Это самая высокая точка Гималаев. *Эверест (Джомолунгма).* 35
2. Двуглавая гора находится в России, в пределах Бокового хребта севернее Главного Кавказского хребта. *Эльбрус.* 35
3. Гора находится в Аргентине в национальном парке «Аконкагуа». Это высочайшая гора Анд, расположена в их центральной части. *Аконкагуа.* 35

Тестовый тур- 30 мин.

Блок 1. Выберите один правильный ответ

1. Кто из древнегреческих учёных доказал, что Земля имеет форму шара?
А. Геродот Б. Эратосфен ☒ В. Аристотель Г. Пифагор 15
2. Линия, которая делит земной шар на два полушария: северное и южное, называется:
☒ А. Экватор Б. Начальный меридиан
В. Тропик Г. Полярный круг 15
3. Какой материк лежит сразу в трех полушариях?
А. Африка ☒ Б. Евразия В. Южная Америка Г. Австралия 15

4. Ясная звёздная ночь, но полярной звезды не видно. В каком полушарии мы находимся?
А. Северном Б. Южном В. Западном Г. Восточном 15
5. Выберите правильное утверждение
А. Солнце вращается вокруг Земли.
Б. День и ночь наступают потому, что Земля вращается вокруг своей оси и по-разному освещается Солнцем. 15
В. Ночь наступает, потому что на небе появляется Луна
Г. Длина светового дня зимой и летом одинакова
6. Самая высокая гора в России, это:
А. Белуха Б. Ключевская сопка В. Эльбрус Г. Народная 15
7. Наиболее подробно территория изображена на карте масштаба:
А. 1:2500 Б. 1:25000 В. 1:250000 Г. 1:2500000 15
8. Как называется полезное ископаемое, добычу которого производят в пределах месторождения «Курская магнитная аномалия»
А. Известняк Б. Огнеупорная глина В. Железная руда Г. Каменный уголь 15
9. Как называется равнина к западу от Уральских гор?
А. Западно-Сибирская равнина
Б. Западно-Уральская равнина
В. Восточно-Сибирская равнина.
Г. Восточно-Европейская (Русская) равнина 15
10. Как называется самое «толстое» дерево на Земле?
А. Секвойя Б. Дуб В. Платан Г. Баобаб 15

Блок 2. Выберите правильные ответы на вопросы

1. Кто из ниже приведенных руководителей экспедиций совершил кругосветные путешествия?:
А. Христофор Колумб
Б. Фернан Магеллан
В. Марко Поло 35
Г. Михаил Лазарев и Фадей Беллинсгаузен
Д. Джеймс Кук
2. Какие из перечисленных равнин будут находиться на высоте над уровнем моря более, чем 200 метров?:
А. Среднерусская возвышенность
Б. Прикаспийская низменность 35

- В. Великие Американские равнины
Г. Окско-Донская низменность
Д. Плато Путорана

3. В эмблемах, каких из перечисленных государственных заповедников есть изображение медведя?:

- А. Васюганский
Б. Саяно-Шушенский
В. Буреинский
Г. Кроноцкий
Д. Шайтан-Тау

35



4. Какие из этих растений обитают в естественной среде на территории природной зоны лесостепь



- А. Клен татарский
Б. Дуб черешчатый
В. Лиственница европейская
Г. Барбарис обыкновенный
Д. Каштан съедобный

35

Блок 3. Установите соответствие

Какие из этих животных обитающие в естественной среде (не в зоопарке) соответствуют природным зонам: тайга, тундра, степь, пустыня

1.	Тундра	А.	
			кулан
2	Тайга	Б.	
			Лисица Фенёк

3	Степь	В.	
4	Пустыня	Г.	

Ответ:

- 1 - 2
- 2 - B
- 3 - a
- 4 - 5

45

ШКОЛЬНЫЙ ЭТАП ВСЕРОССИЙСКОЙ ОЛИМПИАДЫ ШКОЛЬНИКОВ ПО ГЕОГРАФИИ

5 класс

Теоретический тур-45 мин.

Задание 1.

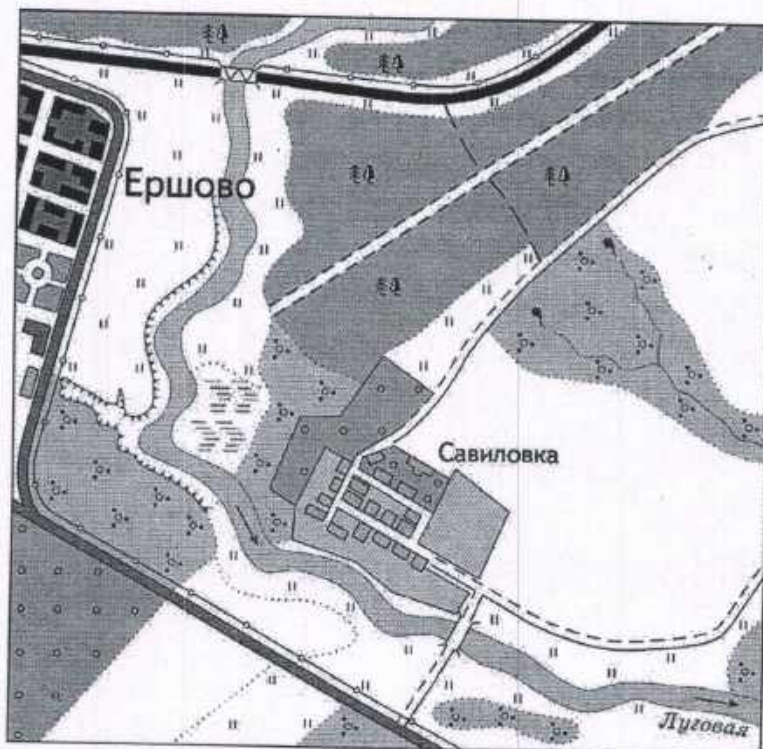
Прочитайте текст, вставьте пропущенные в нем слова и ответьте на вопросы.

Особая карта, на которой изображена очень маленькая территория, называется (1. План местности). Для построения такой карты используют (2. Масштаб) 1:5000 (в 1 см 50 м) и крупнее. Для изображения объектов используют (3. знаки), с их помощью можно ответить на многие вопросы, относительно изображенной там территории.

1. Какой берег реки Луговая между населенными пунктами Ершово и Савилровка крутой, а какой пологий?

2. Как расположен лес относительно села Савилровка? Как называется такой тип леса? Выберите породы деревьев, которые там могут произрастать.

- ☒ А. Сосна
- ☒ В. Ель
- ☒ С. Дуб
- ☒ Д. Берёза
- Е. Пихта
- Ф. Граб



Задание 2.

Выберите, какой будет режим освещенности и смена времен года на планете Земля, если угол наклона земной оси станет 90 градусов.

- ☒ А. День и ночь по 12 ч · 25
- В. Полгода день 24 ч
- С. Полгода ночь 24ч

- А. Времен года не будет
- ☒ В. Сезоны будут сменяться каждые три месяца
- С. Сезоны будут сменяться каждые полгода

Задание 3.

Самые высокие горные вершины в разных странах являются их визитной карточкой. Определите вершины по ниже приведенным характеристикам:

- ☒ 1. Гора находится на границе Китая и Непала. Это самая высокая точка Гималаев.
- 2. Двуглавая гора находится в России, в пределах Бокового хребта севернее Главного Кавказского хребта. Эльбурс 38
- 3. Гора находится в Аргентине в национальном парке «Аконкагуа». Это высочайшая гора Анд, расположена в их центральной части

Тестовый тур- 30 мин.

Блок 1. Выберите один правильный ответ

- 1. Кто из древнегреческих учёных доказал, что Земля имеет форму шара?
А. Геродот Б. Эратосфен ☒ В. Аристотель Г. Пифагор 15
- 2. Линия, которая делит земной шар на два полушария: северное и южное, называется:
☒ А. Экватор Б. Начальный меридиан 15
В. Тропик Г. Полярный круг
- 3. Какой материк лежит сразу в трех полушариях?
☒ А. Африка ☒ Б. Евразия В. Южная Америка Г. Австралия 15

4. Ясная звёздная ночь, но полярной звезды не видно. В каком полушарии мы находимся?
А. Северном ☒ Б. Южном В. Западном Г. Восточном 15
5. Выберите правильное утверждение
А. Солнце вращается вокруг Земли. 15
☒ Б. День и ночь наступают потому, что Земля вращается вокруг своей оси и по-разному освещается Солнцем.
В. Ночь наступает, потому что на небе появляется Луна
Г. Длина светового дня зимой и летом одинакова
6. Самая высокая гора в России, это: 15
А. Белуха ☒ Б. Ключевская сопка В. Эльбрус Г. Народная
7. Наиболее подробно территория изображена на карте масштаба:
☒ А. 1: 2500 Б. 1: 25000 В. 1:250000 Г. 1:2500000 15
8. Как называется полезное ископаемое, добычу которого производят в пределах месторождения «Курская магнитная аномалия»
А. Известняк Б. Огнеупорная глина ☒ В. Железная руда Г. Каменный уголь 15
9. Как называется равнина к западу от Уральских гор?
☒ А. Западно-Сибирская равнина
Б. Западно-Уральская равнина
В. Восточно-Сибирская равнина.
Г. Восточно-Европейская (Русская) равнина
10. Как называется самое «толстое» дерево на Земле?
А. Секвойя Б. Дуб В. Платан ☒ Г. Баобаб 15

Блок 2. Выберите правильные ответы на вопросы

1. Кто из ниже приведенных руководителей экспедиций совершил кругосветные путешествия?: 35
☒ А. Христофор Колумб
☒ Б. Фернан Магеллан
В. Марко Поло
☒ Г. Михаил Лазарев и Фадей Беллинсгаузен
☒ Д. Джеймс Кук
2. Какие из перечисленных равнин будут находиться на высоте над уровнем моря более, чем 200 метров?:
☒ А. Среднерусская возвышенность
Б. Прикаспийская низменность

- ☒ В. Великие Американские равнины
 Г. Окско-Донская низменность
☒ Д. Плато Путорана

95

3. В эмблемах, каких из перечисленных государственных заповедников есть изображение медведя?:

- А. Васюганский
☒ Б. Саяно-Шушенский
 В. Буреинский
 Г. Кроноцкий
 Д. Шайтан-Тау



4. Какие из этих растений обитают в естественной среде на территории природной зоны лесостепь



- ☒ А. Клен татарский
☒ Б. Дуб черешчатый
 В. Лиственница европейская
☒ Г. Барбарис обыкновенный
 Д. Каштан съедобный

95

Блок 3. Установите соответствие

Какие из этих животных обитающие в естественной среде (не в зоопарке) соответствуют природным зонам: тайга, тундра, степь, пустыня

1.	Тундра	А.	
			кулан
2	Тайга	Б.	
			ЛисицаФенёк

3	Степь	В.	
4	Пустыня	Г.	

Ответ:

- 1 - Г
- 2 - В
- 3 - А
- 4 - Б

48