

ВСЕРОССИЙСКАЯ ОЛИМПИАДА ШКОЛЬНИКОВ. ТЕХНОЛОГИЯ.

5 класс

Шифр 01

Заполните таблицу ответов

Сверху указан номер тестового вопроса, под ним – место для ответа

| 1 | 2 | 3 | 4 | 5 | 6 | 7 |
|---|---|-------|----------------------------------|---------------------------|------------------------------------------------------------------------|----------------|
| 8 | 9 | свирь | 1 - 8 2 - 6 3 - 2 4 - 4 | а) свирь б) крылатость | 1. 650 2. Ветка 3. Глина 4. Гренок 5. Горюшка 6. Собака | 1, 4, 7, 9, 11 |
| 1 | 1 | 1 | 1 | 1 | 3 | 1 |

| 8 | 9 | 10 | 11 | 12 | 13 | 14 |
|-------------------------|----|---------|--------|-----------------------------|----------------------|----|
| 1 - 8 2 - 6 3 - 4 | 60 | в, г, д | конусы | Борис Григор Соловьев | 1. 8 2. 2 3. 6 | 3 |
| 1 | 1 | 2 | 1 | 2 | 1 | 1 |

Оценка за тест (количество правильных ответов) 18 5

Оценка за творческое задание 5 5

Итого 23 5

ВСЕРОССИЙСКАЯ ОЛИМПИАДА ШКОЛЬНИКОВ. ТЕХНОЛОГИЯ.

5 класс

Шифр 02

Заполните таблицу ответов

Сверху указан номер тестового вопроса, под ним – место для ответа

| 1 | 2 | 3 | 4 | 5 | 6 | 7 |
|---|---|---------|----------------------------------|------------------|------------------------------------------------------------------------------------|----------------|
| 8 | 9 | Сварщик | 1 - 8 2 - 6 3 - 2 4 - 4 | а) циркуль б) | 1. 2. Ветка 3. 4. ива 5. песок 6. мажоран 7. арбузика 8. вода | 1, 4, 7, 9, 11 |
| 1 | 1 | 1 | 1 | 1 | 3 | 1 |

| 8 | 9 | 10 | 11 | 12 | 13 | 14 |
|-------------------------|----|------------|----|--------------|----------------------|----|
| 1 - 8 2 - 6 3 - 4 | 60 | 6, 1, 2, 8 | | иже Тирон | 1. 2 2. 6 3. 6 | 4 |
| 1 | 1 | 2 | - | 1 | 1 | 1 |

Оценка за тест (количество правильных ответов) 165

Оценка за творческое задание 3

Итого 195.

ВСЕРОССИЙСКАЯ ОЛИМПИАДА ШКОЛЬНИКОВ. ТЕХНОЛОГИЯ.

5 класс

Шифр 03

Заполните таблицу ответов

Сверху указан номер тестового вопроса, под ним – место для ответа

| 1 | 2 | 3 | 4 | 5 | 6 | 7 |
|---|---|---------|--------------------------|------------------|--------------------------------------------------------------------------------------|-----------------|
| 8 | 9 | сварщик | 1-8 2-6 3-а 4-г | а) цыркунь б) | 1. 2. Ветка 3. 4. Лина 5. песок 6. маляр 7. паровозик 8. собака | 1, 4, 7, 11, 13 |
| 1 | 1 | 1 | 1 | 1 | 3 | 1 |

| 8 | 9 | 10 | 11 | 12 | 13 | 14 |
|-------------------|---|------------|---------|-------|----------------------|----|
| 1-8 2-6 3-а | | 2. б. г. е | капуста | сорня | 1. б 2. 8 3. а | 4 |
| 1 | - | 2 | 1 | 1 | 1 | - |

Оценка за тест (количество правильных ответов) 15 5

Оценка за творческое задание 3 5

Итого 18 5

ВСЕРОССИЙСКАЯ ОЛИМПИАДА ШКОЛЬНИКОВ. ТЕХНОЛОГИЯ.

5 класс

Шифр 04

Заполните таблицу ответов

Сверху указан номер тестового вопроса, под ним – место для ответа

| 1 | 2 | 3 | 4 | 5 | 6 | 7 |
|---|---|--------|----------------------------------|----------------------------------------|-----------------------------------------------------------------------------------------|----------------|
| 8 | 2 | сварка | 1 - б 2 - в 3 - г 4 - а | а) мигуль б) сержит в) крушность | 1. 650 2. 3. Глина 4. песок 5. малыш 6. кармаш 7. собою 8. собою 3 | 1, 4, 7, 9, 11 |
| 1 | 1 | 1 | 1 | 1 | | 1 |

| 8 | 9 | 10 | 11 | 12 | 13 | 14 |
|-------------------------|----|------------|--------|-------------------------|----------------------|----|
| 1 - б 2 - в 3 - а | 60 | б, г, д, е | кожура | Фониз Гора Солнце | 1. б 2. а 3. в | 4 |
| 2 | 1 | 2 | 1 | | 2 | 1 |

Оценка за тест (количество правильных ответов) 205

Оценка за творческое задание 45

Итого 245

ВСЕРОССИЙСКАЯ ОЛИМПИАДА ШКОЛЬНИКОВ. ТЕХНОЛОГИЯ.

5 класс

Шифр 05

Заполните таблицу ответов

Сверху указан номер тестового вопроса, под ним – место для ответа

| 1 | 2 | 3 | 4 | 5 | 6 | 7 |
|---|---|---------|--------------------------|-------------------------------|--------------------------------------------------------------------------------------------|-------------------|
| С | g | Солнечн | 1-8 2-В 3-т 4-2 | а) мрица б) герметь иру | 1. 680 2. Ретина 3. 4. Глина 5. Грессок 6. 7. Гирисонина 8. Соборка 2 | 1, 4, 7, 9 11. |
| 1 | 1 | 1 | 1 | 1 | | 1 |

| 8 | 9 | 10 | 11 | 12 | 13 | 14 |
|-------------------|----|---------|--------|------------------------|----------------------|----|
| 1-8 2-2 3-8 | 60 | В, г, е | кашует | име, салат, боду | 1. g 2. g 3. B | 4. |
| 1 | 1 | 2 | 1 | 2 | 2 | 1 |

Оценка за тест (количество правильных ответов) 185

Оценка за творческое задание 35

Итого 215

ВСЕРОССИЙСКАЯ ОЛИМПИАДА ШКОЛЬНИКОВ. ТЕХНОЛОГИЯ.

5 класс

Шифр 06

Заполните таблицу ответов

Сверху указан номер тестового вопроса, под ним – место для ответа

| 1 | 2 | 3 | 4 | 5 | 6 | 7 |
|---|---|---|----------------------------------|--------------------------|-------------------------------------------------------------------------------------------------------|----------------|
| 8 | a | | 1 - 5 2 - 6 3 - a 4 - r | a) <i>тридцать</i> б) | 1. 2. 3. <i>Глиня</i> 4. <i>кесок</i> 5. 6. 7. <i>горюшка</i> 8. <i>собака</i> 2 | 1, 4, 7, 9, 11 |
| 1 | 1 | 1 | 1 | 1 | | 1 |

| 8 | 9 | 10 | 11 | 12 | 13 | 14 |
|-------------------------|----|---------|---------|-------|----------------------|----|
| 1 - 5 2 - a 3 - 6 | 60 | 6, 2, 9 | каждого | Ворис | 1. 5 2. 2 3. 8 | 3. |
| 1 | 1 | 2 | 1 | 1 | 2 | 1 |

Оценка за тест (количество правильных ответов) 175

Оценка за творческое задание 95

Итого 270

Номинация «Культура дома, дизайн и технологии»

6 класс

Шифр 10 006

Заполните таблицу ответов

Сверху указан номер тестового вопроса, под ним – место для ответа

| 1 | 2 | 3 | 4 | 5 | 6 | 7 |
|---|----|----|------------|-----------------------------------------------|----------------------------------------------|--------|
| | В | А | 8,2, е. | $6000 \text{ г см}^3 =$ 6 д см^3 | 1. 2. 3. 4. 5. 6. 7. 8. | 4,5,11 |
| | 18 | 18 | 18 | | | |

| 8 | 9 | 10 | 11 | 12 | 13 | 14 |
|------------------------|-----|-----|----|---------------------------------|----------------------|--------------------|
| стиральная рабочая. | 2,8 | иша | 8. | 1.8 2.а 3.8 4.8 5.2 | 1. 2. 3. 4. | 1.8 2.8 3.а. |
| 18 | 18 | 18 | 18 | | | |

Оценка за тест (количество правильных ответов) 78

Оценка за творческое задание 18

Итого 88

Уважаемый участник!

Вам предложено 15 заданий, из которых 14 включают вопросы и задачи.

Задание 15 – творческое (кейс-задание).

Задача участника - внимательно ознакомиться с предложенными заданиями и выполнить их в строгом соответствии с формулировкой.

Каждый правильный ответ в заданиях с 1 по 14 оценивается в 1 или несколько баллов (смотри количество баллов перед каждым заданием).

Задание 15 (кейс-задание) оценивается в 6 баллов.

Всего за теоретический тур максимальное количество баллов, которое может набрать участник, составляет 25 баллов.

Длительность теоретического тура составляет 2 академических часа (90 минут).

Номинация «Культура дома, дизайн и технологии»

6 класс







Тестовые задания

Впишите правильный ответ (1 балл)

1. 13 февраля 2023 года исполнилось 150 лет со дня рождения этого самого известного русского оперного и камерного певца (высокий бас). В разное время он был солистом Большого и Мариинского театров, а также театра Метрополитен Опера. Его предки по отцовской и материнской линии были родом из Вятской губернии. В сквере, на Театральной площади города Кирова, рядом с Драматическим театром, находится памятник этому знаменитому человеку. Назовите его имя (запишите в бланк ответов).

Выберите правильный ответ (1 балл)

2. Среди предложенных изображений выберите то, на котором приведена маркировка с упаковки изделия, указывающая на то, что коробки с такой продукцией можно ставить рядом и поверх упаковок с продуктами питания

| | | |
|----------------------------------------------------------------------------------------|----------------------------------------------------------------------------------------|------------------------------------------------------------------------------------------|
| А)  | Б)  | В)  |
| Г)  | Д)  | Е)  |

Впишите правильный ответ (1 балл)

3. Выберите, к какому виду художественной росписи относится изделие, изображённое на рисунке.



- а) гжельская роспись
- б) мезенская роспись
- в) городецкая роспись
- г) жостовская роспись
- д) хохломская роспись

Выберите правильный ответ (1 балл)

4. Техносфера – это часть природной среды, преобразованная человеком. Из предложенных вариантов ответов, выберите те, которые НЕ относятся к техносфере
- а) корабль
 - б) море
 - в) фабрика
 - г) горы
 - д) мост
 - е) солнце

Впишите правильный ответ (2 балла)

5. Деревянный брус имеет форму прямоугольного параллелепипеда. Длина бруса равна 50 см, ширина 10 см, высота 120 мм. Определите объём данного бруса. Ответ выразите в кубических сантиметрах.

Справочная информация: чтобы найти объём параллелепипеда, надо перемножить длину, ширину и высоту фигуры

Вставьте пропущенные слова (3 балла)

6. Внимательно прочитайте текст, вставьте пропущенные слова, запишите в таблицу ответов.
- В 2024 году наш город отмечает юбилей, ему исполнилось 1 лет. В XV веке город назывался Хлынов, а 11 сентября 1780 года указом Екатерины II город получил название 2. Одним из символов нашего края является дымковская игрушка. Промысел возник в слободе 3. Для производства игрушки используется местная ярко-красная 4, смешанная с мелким речным 5. В 2010 году в центре города Кирова, у Театра кукол, установлена скульптурная группа «Семья», выполненная по канонам дымковской игрушки и представляющая собой группу из барыни с 6, мужичка с 7, ребенка со свистулькой, кошки и 8.



Выберите правильный ответ(2 балла)

7. Внимательно рассмотрите рисунки, на них представлены дымковская, филимоновская, каргопольская народные игрушки. Все игрушки изготавливают из глины и расписывают красками. У каждого вида свои характерные особенности. Выберите все варианты дымковской игрушки



Впишите правильный ответ (1 балл)

8. Эта бытовая техника широко использовалась в середине XX века. Что изображено на рисунке? Ответ запишите в бланк ответов



Выберите правильный ответ(1 балл)

9. Из предложенного списка выберите блюдо, в рецепт которого входят только пищевые продукты растительного происхождения.

- а) омлет
- б) какао
- в) суп харчо
- г) винегрет

Впишите правильный ответ (1 балл)

10. Используя шифр, отгадайте, какое слово задумано. Ответ впишите в бланк ответов

Слово:

◆ ? → =

Шифр

| | | | |
|-----|-----|-----|-----|
| А = | Б % | В № | Г ? |
| Д * | Е + | Ё) | Ж ☎ |
| З / | И ◆ | Й П | К ← |
| Л → | М ☒ | Н □ | О ∪ |
| П ⊙ | Р ☆ | С ∞ | Т ∂ |
| У ☆ | Ф ↗ | Х ☒ | Ц ☒ |
| Ч ∩ | Ш ◆ | Щ ∩ | Ъ ☒ |
| Ы ⊙ | Ь ∞ | Э ☒ | Ю ☒ |
| Я № | , ♣ | . ✂ | ! ☒ |

Выберите правильный ответ(1 балл)

11. Чем является решение ребуса в предыдущем вопросе?

- а) материалом
- б) инструментом
- в) элементом декора





Установите соответствие(2 балла)

12. Установите соответствие между названиями ручных швов и образцами их выполнения

| 1. Стебельчатый шов | 2. Шов вперед иголкой | 3. Тамбурный шов | 4. Крестообразный шов (козлик) | 5. Петельный шов |
|---------------------|-----------------------|------------------|--------------------------------|------------------|
| а) | б) | в) | г) | д) |

Установите соответствие (1 балл)

13. Установите соответствие между названием машинного шва и его условным изображением

| | | | |
|-----------------------------------------------------------------------------------------|-----------------------------------------------------------------------------------------|-----------------------------------------------------------------------------------------|-------------------------------------------------------------------------------------------|
| 1.  | 2.  | 3.  | 4.  |
| а) шов вподгибку с открытым срезом | б) шов вподгибку с закрытым срезом | в) шов стачной взаутюжку | г) шов стачной вразутюжку |

Установите соответствие, расставив буквы против цифр (1 балл)

14. Установите соответствие

| | |
|------------|--------------------------------------------------------------------------------------------------------------------|
| 1)печворк | а) искусство изготовления плоских или объёмных композиций из скрученных в спиральки длинных и узких полосок бумаги |
| 2)макrame | б) вид рукоделия, в котором по принципу мозаики сшивается цельное изделие из кусочков ткани |
| 3)квиллинг | в) техника узелкового плетения |


15. Кейс-задание (творческое) 6 баллов

Девочка решила на день рождения своего младшего брата изготовить мягкую игрушку – зайчика, но у нее есть только выкройка медвежонка.

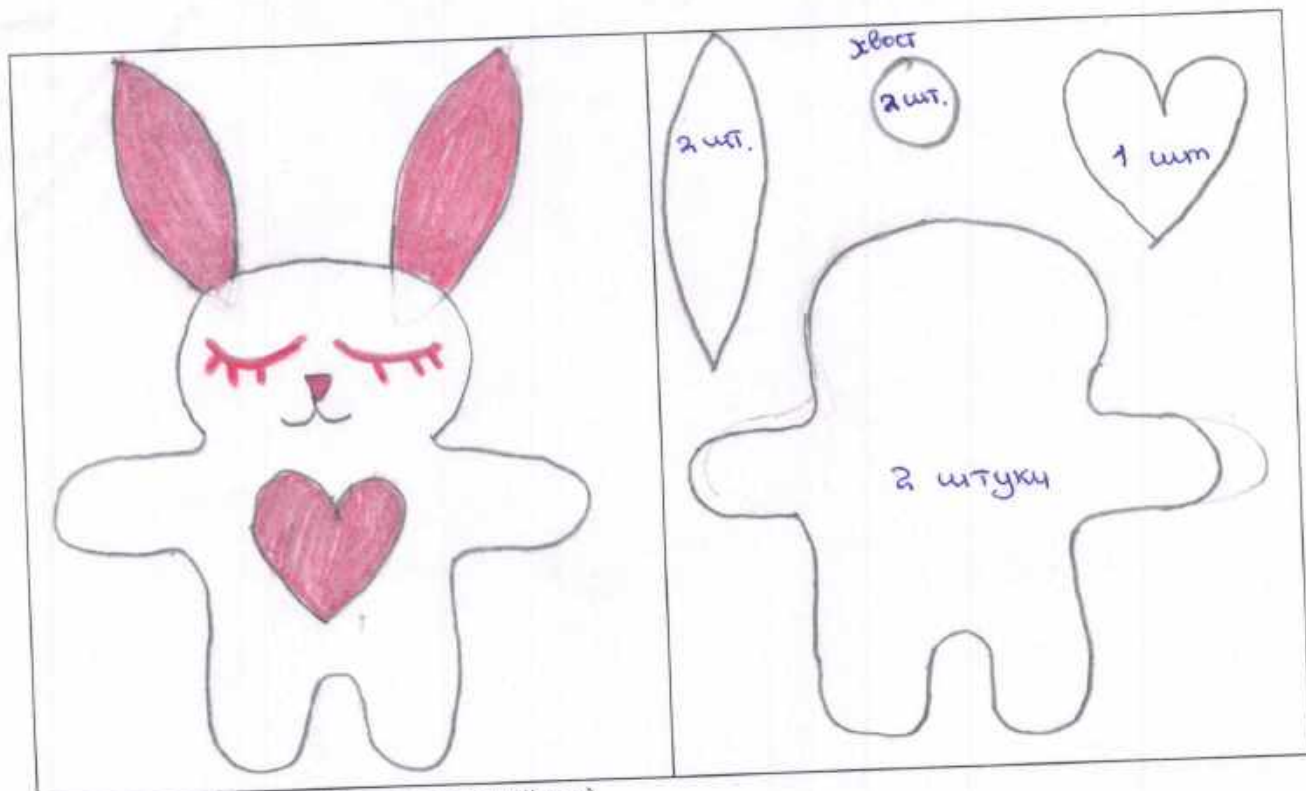
Помогите ей сделать

- эскиз мягкой игрушки зайца
- выкройку (на основе выкройки медвежонка), которая будет состоять из четырех деталей:
 - а) туловище – 2 детали, б) мордочка – 1 деталь, в) хвостик – 1 деталь
- подобрать материалы и инструменты, необходимые для работы

Пример работы:



| | |
|------------------------------------------------------------------------------|-----------------------------------------|
| Эскиз зайца (продумай цветовое решение, раскрась цветными карандашами) | Шаблон выкройки (простым карандашом) |
|------------------------------------------------------------------------------|-----------------------------------------|



Материалы (из чего будет сшит зайчик)

Ткань трикотаж

Наполнитель синтипон

Отделка (глаза, нос) из каких материалов нитками

Инструменты, необходимые для работы

иголки, нитки, наперсток

Оценка творческого задания

| № п/п | Критерии оценивания | Количество баллов |
|-------|-----------------------------------------------------------------------------------------|-------------------|
| 1. | Выполнение эскиза, цветовое решение | 2 |
| 2. | Полный комплект выкройки (туловище – 2 детали, мордочка – 1 деталь, хвостик – 1 деталь) | 2 |
| 3. | Материалы, необходимые для работы | 1 |
| 4. | Инструменты, необходимые для работы | 1 |
| | Итого: | 6 |

Номинация «Культура дома, дизайн и технологии»

6 класс

Шифр 10005

Заполните таблицу ответов

Сверху указан номер тестового вопроса, под ним – место для ответа

| 1 | 2 | 3 | 4 | 5 | 6 | 7 |
|---|----|----|-------------|----------------------------------------------------------------------------|----------------------------------------------|---------------|
| | в | г | б 2 в | $120 = 12 \text{ см}$ $50 \cdot 10 \cdot 12 =$ $= 6000 \text{ см}^3$ | 1. 2. 3. 4. 5. 6. 7. 8. | 1, 4, 8, 11 |
| — | 10 | 10 | 10 | 20 | — | 20 |

| 8 | 9 | 10 | 11 | 12 | 13 | 14 |
|----------------------|----|----|---------------|--------------------------------------|----------------------|----------------------|
| стиральная машина | г | ш | б, 2 | 1. а 2. б 3. в 4. г 5. в | 1. 2. 3. 4. | 1. б 2. б 3. а |
| 10 | 10 | 10 | 10 | — | — | 10 |

Оценка за тест (количество правильных ответов) 100

Оценка за творческое задание —

Итого 100

Уважаемый участник!

Вам предложено 15 заданий, из которых 14 включают вопросы и задачи.

Задание 15 – творческое (кейс-задание).

Задача участника - внимательно ознакомиться с предложенными заданиями и выполнить их в строгом соответствии с формулировкой.

Каждый правильный ответ в заданиях с 1 по 14 оценивается в 1 или несколько баллов (смотри количество баллов перед каждым заданием).

Задание 15 (кейс-задание) оценивается в 6 баллов.

Всего за теоретический тур максимальное количество баллов, которое может набрать участник, составляет 25 баллов.

Длительность теоретического тура составляет 2 академических часа (90 минут).

Номинация «Культура дома, дизайн и технологии»

6 класс

Тестовые задания

Впишите правильный ответ (1 балл)

1. 13 февраля 2023 года исполнилось 150 лет со дня рождения этого самого известного русского оперного и камерного певца (высокий бас). В разное время он был солистом Большого и Мариинского театров, а также театра Метрополитен Опера. Его предки по отцовской и материнской линии были родом из Вятской губернии. В сквере, на Театральной площади города Кирова, рядом с Драматическим театром, находится памятник этому знаменитому человеку. Назовите его имя (запишите в бланк ответов).

Выберите правильный ответ (1 балл)

2. Среди предложенных изображений выберите то, на котором приведена маркировка с упаковки изделия, указывающая на то, что коробки с такой продукцией можно ставить рядом и поверх упаковок с продуктами питания

| | | |
|----------------------------------------------------------------------------------------|----------------------------------------------------------------------------------------|------------------------------------------------------------------------------------------|
| А)  | Б)  | В)  |
| Г)  | Д)  | Е)  |

Впишите правильный ответ (1 балл)

3. Выберите, к какому виду художественной росписи относится изделие, изображённое на рисунке.



- а) гжельская роспись
- б) мезенская роспись
- в) городецкая роспись
- г) жостовская роспись
- д) хохломская роспись

Выберите правильный ответ (1 балл)

4. Техносфера – это часть природной среды, преобразованная человеком. Из предложенных вариантов ответов, выберите те, которые НЕ относятся к техносфере

- а) корабль
- б) море
- в) фабрика
- г) горы
- д) мост
- е) солнце

Впишите правильный ответ (2 балла)

5. Деревянный брус имеет форму прямоугольного параллелепипеда. Длина бруса равна 50 см, ширина 10 см, высота 120 мм. Определите объём данного бруса. Ответ выразите в кубических сантиметрах.

Справочная информация: чтобы найти объём параллелепипеда, надо перемножить длину, ширину и высоту фигуры

Вставьте пропущенные слова (3 балла)

6. Внимательно прочитайте текст, вставьте пропущенные слова, запишите в таблицу ответов.

В 2024 году наш город отмечает юбилей, ему исполнилось 1 лет. В XV веке город назывался Хлынов, а 11 сентября 1780 года указом Екатерины II город получил название 2. Одним из символов нашего края является дымковская игрушка. Промысел возник в слободе 3. Для производства игрушки используется местная ярко-красная 4, смешанная с мелким речным 5. В 2010 году в центре города Кирова, у Театра кукол, установлена скульптурная группа «Семья», выполненная по канонам дымковской игрушки и представляющая собой группу из барыни с 6, мужичка с 7, ребенка со свистулькой, кошки и 8.



Выберите правильный ответ (2 балла)

7. Внимательно рассмотрите рисунки, на них представлены дымковская, филимоновская, каргопольская народные игрушки. Все игрушки изготавливают из глины и расписывают красками. У каждого вида свои характерные особенности. Выберите все варианты дымковской игрушки



Впишите правильный ответ (1 балл)

8. Эта бытовая техника широко использовалась в середине XX века. Что изображено на рисунке? Ответ запишите в бланк ответов



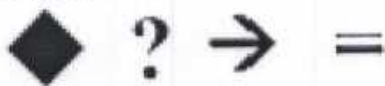
Выберите правильный ответ (1 балл)

9. Из предложенного списка выберите блюдо, в рецепт которого входят только пищевые продукты растительного происхождения.

- а) омлет
- б) какао
- в) суп харчо
- г) винегрет

Впишите правильный ответ (1 балл)

10. Используя шифр, отгадайте, какое слово задумано. Ответ впишите в бланк ответов
Слово:



Шифр

| | | | |
|-----|-----|-----|-----|
| А = | Б % | В № | Г ? |
| Д * | Е + | Ё) | Ж ☞ |
| З / | И ◆ | Й Ц | К ← |
| Л → | М ☒ | Н ☐ | О ∪ |
| П ⦿ | Р ☆ | С ∞ | Т ∂ |
| У ☆ | Ф ✕ | Х ☒ | Ц ☒ |
| Ч ∟ | Ш ◆ | Щ ∟ | Ъ ☐ |
| Ы ∪ | Ь ∞ | Э ☐ | Ю ☐ |
| Я ☞ | , ♣ | . ✕ | ! ⦿ |

Выберите правильный ответ (1 балл)

11. Чем является решение ребуса в предыдущем вопросе?

- а) материалом
- б) инструментом
- в) элементом декора





Установите соответствие (2 балла)

12. Установите соответствие между названиями ручных швов и образцами их выполнения

| 1. Стебельчатый шов | 2. Шов вперед иголкой | 3. Тамбурный шов | 4. Крестообразный шов (козлик) | 5. Петельный шов |
|---------------------|-----------------------|------------------|--------------------------------|------------------|
| а) | б) | в) | г) | д) |

Установите соответствие (1 балл)

13. Установите соответствие между названием машинного шва и его условным изображением

| | | | |
|-----------------------------------------------------------------------------------------|-----------------------------------------------------------------------------------------|-----------------------------------------------------------------------------------------|-------------------------------------------------------------------------------------------|
| 1.  | 2.  | 3.  | 4.  |
| а) шов вподгибку с открытым срезом | б) шов вподгибку с закрытым срезом | в) шов стачной взаутюжку | г) шов стачной вразутюжку |

Установите соответствие, расставив буквы против цифр (1 балл)

14. Установите соответствие

| | |
|------------|--------------------------------------------------------------------------------------------------------------------|
| 1)печворк | а) искусство изготовления плоских или объёмных композиций из скрученных в спиральки длинных и узких полосок бумаги |
| 2)макраме | б) вид рукоделия, в котором по принципу мозаики сшивается цельное изделие из кусочков ткани |
| 3)квиллинг | в) техника узелкового плетения |


15. Кейс-задание (творческое) 6 баллов

Девочка решила на день рождения своего младшего брата изготовить мягкую игрушку – зайчика, но у нее есть только выкройка медвежонка.

Помогите ей сделать

- эскиз мягкой игрушки зайца
- выкройку (на основе выкройки медвежонка), которая будет состоять из четырех деталей:
 - а) туловище – 2 детали, б) мордочка – 1 деталь, в) хвостик – 1 деталь
- подобрать материалы и инструменты, необходимые для работы

Пример работы:



| | |
|------------------------------------------------------------------------------|-----------------------------------------|
| Эскиз зайца (продумай цветовое решение, раскрась цветными карандашами) | Шаблон выкройки (простым карандашом) |
|------------------------------------------------------------------------------|-----------------------------------------|

| | |
|--|--|
| | |
|--|--|

Материалы (из чего будет сшит зайчик)

Ткань _____

Наполнитель _____

Отделка (глаза, нос) из каких материалов _____

Инструменты, необходимые для работы

иголка, ножницы, нитки

Оценка творческого задания

| № п/п | Критерии оценивания | Количество баллов |
|-------|-----------------------------------------------------------------------------------------|-------------------|
| 1. | Выполнение эскиза, цветовое решение | 2 |
| 2. | Полный комплект выкройки (туловище – 2 детали, мордочка – 1 деталь, хвостик – 1 деталь) | 2 |
| 3. | Материалы, необходимые для работы | 1 |
| 4. | Инструменты, необходимые для работы | 1 |
| | Итого: | 6 |

Номинация «Культура дома, дизайн и технологии»

6 класс

Шифр 12 004

Заполните таблицу ответов

Сверху указан номер тестового вопроса, под ним – место для ответа

| 1 | 2 | 3 | 4 | 5 | 6 | 7 |
|---------------------|---|---|-------------|---|----------------------------------------------|----------------------|
| Рейдер маленький | В | Д | Б Г И | | 1. 2. 3. 4. 5. 6. 7. 8. | 1, 4, 7. 8, 3, 6. |

| 8 | 9 | 10 | 11 | 12 | 13 | 14 |
|-----------------------|--------|-----|----|--------------------------------------|-------------------------------|----------------|
| стиральная машинка | Б Г | Има | Б | 1. В 2. А 3. О 4. 8 5. 2 | 1. Г 2. В 3. а 4. 5. | 1. 2. 3. |

Оценка за тест (количество правильных ответов) 110

Оценка за творческое задание 25

Итого 13

Уважаемый участник!

Вам предложено 15 заданий, из которых 14 включают вопросы и задачи.

Задание 15 – творческое (кейс-задание).

Задача участника - внимательно ознакомиться с предложенными заданиями и выполнить их в строгом соответствии с формулировкой.

Каждый правильный ответ в заданиях с 1 по 14 оценивается в 1 или несколько баллов (смотри количество баллов перед каждым заданием).

Задание 15 (кейс-задание) оценивается в 6 баллов.

Всего за теоретический тур максимальное количество баллов, которое может набрать участник, составляет 25 баллов.

Длительность теоретического тура составляет 2 академических часа (90 минут).

Номинация «Культура дома, дизайн и технологии»

6 класс

Тестовые задания

Впишите правильный ответ (1 балл)

1. 13 февраля 2023 года исполнилось 150 лет со дня рождения этого самого известного русского оперного и камерного певца (высокий бас). В разное время он был солистом Большого и Мариинского театров, а также театра Метрополитен Опера. Его предки по отцовской и материнской линии были родом из Вятской губернии. В сквере, на Театральной площади города Кирова, рядом с Драматическим театром, находится памятник этому знаменитому человеку. Назовите его имя (запишите в бланк ответов).

Выберите правильный ответ (1 балл)

2. Среди предложенных изображений выберите то, на котором приведена маркировка с упаковки изделия, указывающая на то, что коробки с такой продукцией можно ставить рядом и поверх упаковок с продуктами питания

| | | |
|----------------------------------------------------------------------------------------|----------------------------------------------------------------------------------------|------------------------------------------------------------------------------------------|
| А)  | Б)  | В)  |
| Г)  | Д)  | Е)  |

Впишите правильный ответ (1 балл)

3. Выберите, к какому виду художественной росписи относится изделие, изображённое на рисунке.



- а) гжельская роспись
- б) мезенская роспись
- в) городецкая роспись
- г) жостовская роспись
- д) хохломская роспись

Выберите правильный ответ (1 балл)

4. Техносфера – это часть природной среды, преобразованная человеком. Из предложенных вариантов ответов, выберите те, которые НЕ относятся к техносфере

- а) корабль
- б) море
- в) фабрика
- г) горы
- д) мост
- е) солнце

Впишите правильный ответ (2 балла)

5. Деревянный брус имеет форму прямоугольного параллелепипеда. Длина бруса равна 50 см, ширина 10 см, высота 120 мм. Определите объем данного бруса. Ответ выразите в кубических сантиметрах.

Справочная информация: чтобы найти объем параллелепипеда, надо перемножить длину, ширину и высоту фигуры

Вставьте пропущенные слова (3 балла)

6. Внимательно прочитайте текст, вставьте пропущенные слова, запишите в таблицу ответов.
 В 2024 году наш город отмечает юбилей, ему исполнилось 1 лет. В XV веке город назывался Хлынов, а 11 сентября 1780 года указом Екатерины II город получил название 2. Одним из символов нашего края является дымковская игрушка. Промысел возник в слободе 3. Для производства игрушки используется местная ярко-красная 4, смешанная с мелким речным 5. В 2010 году в центре города Кирова, у Театра кукол, установлена скульптурная группа «Семья», выполненная по канонам дымковской игрушки и представляющая собой группу из барыни с 6, мужичка с 7, ребенка со свистулькой, кошки и 8.



Выберите правильный ответ (2 балла)

7. Внимательно рассмотрите рисунки, на них представлены дымковская, филимоновская, каргопольская народные игрушки. Все игрушки изготавливают из глины и расписывают красками. У каждого вида свои характерные особенности. Выберите все варианты дымковской игрушки



Впишите правильный ответ (1 балл)

8. Эта бытовая техника широко использовалась в середине XX века. Что изображено на рисунке? Ответ запишите в бланк ответов



Выберите правильный ответ (1 балл)

9. Из предложенного списка выберите блюдо, в рецепт которого входят только пищевые продукты растительного происхождения.

- а) омлет
- б) какао
- в) суп харчо
- г) винегрет

Впишите правильный ответ (1 балл)

10. Используя шифр, отгадайте, какое слово задумано. Ответ впишите в бланк ответов

Слово:

◆ ? → =

Шифр

| | | | |
|-----|-----|-----|-----|
| А = | Б % | В № | Г ? |
| Д * | Е + | Ё) | Ж ☞ |
| З / | И ◆ | Й Ц | К ← |
| Л → | М ☒ | Н ☐ | О ∪ |
| П ☉ | Р ☆ | С ☞ | Т ∂ |
| У ☆ | Ф ↗ | Х ☒ | Ц ☒ |
| Ч ∟ | Ш ◆ | Щ ∟ | Ь ☐ |
| Ы ☉ | Ъ ☞ | Э ☐ | Ю ☐ |
| Я ☞ | , ♣ | . ✂ | ! ☉ |

Выберите правильный ответ (1 балл)

11. Чем является решение ребуса в предыдущем вопросе?

- а) материалом
- б) инструментом
- в) элементом декора





Установите соответствие (2 балла)

12. Установите соответствие между названиями ручных швов и образцами их выполнения

| 1. Стебельчатый шов | 2. Шов вперед иголкой | 3. Тамбурный шов | 4. Крестообразный шов (козлик) | 5. Петельный шов |
|---------------------|-----------------------|------------------|--------------------------------|------------------|
| а) | б) | в) | г) | д) |

Установите соответствие (1 балл)

13. Установите соответствие между названием машинного шва и его условным изображением

| | | | |
|-----------------------------------------------------------------------------------------|-----------------------------------------------------------------------------------------|-----------------------------------------------------------------------------------------|-------------------------------------------------------------------------------------------|
| 1.  | 2.  | 3.  | 4.  |
| а) шов вподгибку с открытым срезом | б) шов вподгибку с закрытым срезом | в) шов стачной взаутюжку | г) шов стачной вразутюжку |

Установите соответствие, расставив буквы против цифр (1 балл)

14. Установите соответствие

| | |
|------------|--------------------------------------------------------------------------------------------------------------------|
| 1)печворк | а) искусство изготовления плоских или объёмных композиций из скрученных в спиральки длинных и узких полосок бумаги |
| 2)макраме | б) вид рукоделия, в котором по принципу мозаики сшивается цельное изделие из кусочков ткани |
| 3)квиллинг | в) техника узелкового плетения |


15. Кейс-задание (творческое) 6 баллов

Девочка решила на день рождения своего младшего брата изготовить мягкую игрушку – зайчика, но у нее есть только выкройка медвежонка.


Помогите ей сделать

- эскиз мягкой игрушки зайца
- выкройку (на основе выкройки медвежонка), которая будет состоять из четырех деталей:
 - а) туловище – 2 детали, б) мордочка – 1 деталь, в) хвостик – 1 деталь
- подобрать материалы и инструменты, необходимые для работы

Пример работы:



| | |
|------------------------------------------------------------------------------|-----------------------------------------|
| Эскиз зайца (продумай цветовое решение, раскрась цветными карандашами) | Шаблон выкройки (простым карандашом) |
|------------------------------------------------------------------------------|-----------------------------------------|



Материалы (из чего будет сшит зайчик)

Ткань Трикотаж

Наполнитель синтепон

Отделка (глаза, нос) из каких материалов бусины

Инструменты, необходимые для работы

Игла, ножницы, нитка

Оценка творческого задания

| № п/п | Критерии оценивания | Количество баллов |
|-------|-----------------------------------------------------------------------------------------|-------------------|
| 1. | Выполнение эскиза, цветовое решение | 2 |
| 2. | Полный комплект выкройки (туловище – 2 детали, мордочка – 1 деталь, хвостик – 1 деталь) | 2 |
| 3. | Материалы, необходимые для работы | 1 |
| 4. | Инструменты, необходимые для работы | 1 |
| | Итого: | 6 |

Номинация «Культура дома, дизайн и технологии»

6 класс

Шифр 003

Заполните таблицу ответов

Сверху указан номер тестового вопроса, под ним – место для ответа

| 1 | 2 | 3 | 4 | 5 | 6 | 7 |
|----------------------------|-------------|-------------|-----------------|------------------------|----------------------------------------------------------------------------------------------------------|------------------------------|
| Федор Шалыгин 15 | В 15 | В 15 | б,г,е 15 | 6000 куб. см 25 | 1. 650 2. вятка 3. дышло 4. глина 5. песок 6. младенец 7. тарелочка 8. собака 35 | 1, 4, 7, 9, 11. 15 |

| 8 | 9 | 10 | 11 | 12 | 13 | 14 |
|----------------------------|------------|-----------|---------|-------------------------------------------|-----------------------------------|----------------------|
| стиральная машина 15 | г, д 15 | шля 15 | д 15 | 1. в 2. б 3. а 4. г 5. ж — | 1. з 2. б 3. а 4. д — | 1. б 2. в 3. а |

Оценка за тест (количество правильных ответов)

145

Оценка за творческое задание

25

Итого

165

Уважаемый участник!

Вам предложено 15 заданий, из которых 14 включают вопросы и задачи.

Задание 15 – творческое (кейс-задание).

Задача участника - внимательно ознакомиться с предложенными заданиями и выполнить их в строгом соответствии с формулировкой.

Каждый правильный ответ в заданиях с 1 по 14 оценивается в 1 или несколько баллов (смотри количество баллов перед каждым заданием).

Задание 15 (кейс-задание) оценивается в 6 баллов.

Всего за теоретический тур максимальное количество баллов, которое может набрать участник, составляет 25 баллов.

Длительность теоретического тура составляет 2 академических часа (90 минут).

Номинация «Культура дома, дизайн и технологии»

6 класс







Тестовые задания

Впишите правильный ответ (1 балл)

1. 13 февраля 2023 года исполнилось 150 лет со дня рождения этого самого известного русского оперного и камерного певца (высокий бас). В разное время он был солистом Большого и Мариинского театров, а также театра Метрополитен Опера. Его предки по отцовской и материнской линии были родом из Вятской губернии. В сквере, на Театральной площади города Кирова, рядом с Драматическим театром, находится памятник этому знаменитому человеку. Назовите его имя (запишите в бланк ответов).

Выберите правильный ответ (1 балл)

2. Среди предложенных изображений выберите то, на котором приведена маркировка с упаковки изделия, указывающая на то, что коробки с такой продукцией можно ставить рядом и поверх упаковок с продуктами питания

| | | |
|----------------------------------------------------------------------------------------|----------------------------------------------------------------------------------------|------------------------------------------------------------------------------------------|
| А)  | Б)  | В)  |
| Г)  | Д)  | Е)  |

Впишите правильный ответ (1 балл)

3. Выберите, к какому виду художественной росписи относится изделие, изображённое на рисунке.



- а) гжельская роспись
- б) мезенская роспись
- в) городецкая роспись
- г) жостовская роспись
- д) хохломская роспись

Выберите правильный ответ(1 балл)

4. Техносфера – это часть природной среды, преобразованная человеком. Из предложенных вариантов ответов, выберите те, которые НЕ относятся к техносфере
- а) корабль
 - б) море
 - в) фабрика
 - г) горы
 - д) мост
 - е) солнце

Впишите правильный ответ (2 балла)

5. Деревянный брус имеет форму прямоугольного параллелепипеда. Длина бруса равна 50 см, ширина 10 см, высота 120 мм. Определите объём данного бруса. Ответ выразите в кубических сантиметрах.
Справочная информация: чтобы найти объём параллелепипеда, надо перемножить длину, ширину и высоту фигуры

Вставьте пропущенные слова (3 балла)

6. Внимательно прочитайте текст, вставьте пропущенные слова, запишите в таблицу ответов.
 В 2024 году наш город отмечает юбилей, ему исполнилось 1 лет. В XV веке город назывался Хлынов, а 11 сентября 1780 года указом Екатерины II город получил название 2. Одним из символов нашего края является дымковская игрушка. Промысел возник в слободе 3. Для производства игрушки используется местная ярко-красная 4, смешанная с мелким речным 5. В 2010 году в центре города Кирова, у Театра кукол, установлена скульптурная группа «Семья», выполненная по канонам дымковской игрушки и представляющая собой группу из барыни с 6, мужичка с 7, ребенка со свистулькой, кошки и 8.



Выберите правильный ответ(2 балла)

7. Внимательно рассмотрите рисунки, на них представлены дымковская, филимоновская, каргопольская народные игрушки. Все игрушки изготавливают из глины и расписывают красками. У каждого вида свои характерные особенности. Выберите все варианты дымковской игрушки



Впишите правильный ответ (1 балл)

8. Эта бытовая техника широко использовалась в середине XX века. Что изображено на рисунке? Ответ запишите в бланк ответов



Выберите правильный ответ (1 балл)

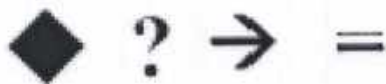
9. Из предложенного списка выберите блюдо, в рецепт которого входят только пищевые продукты растительного происхождения.

- а) омлет
- б) какао
- в) суп харчо
- г) винегрет

Впишите правильный ответ (1 балл)

10. Используя шифр, отгадайте, какое слово задумано. Ответ впишите в бланк ответов

Слово:



Шифр

| | | | |
|-----|-----|-----|-----|
| А = | Б % | В № | Г ? |
| Д * | Е + | Ё) | Ж ☎ |
| З ✂ | И ♦ | Й П | К ← |
| Л → | М ☒ | Н ☐ | О ∪ |
| П ⦿ | Р ☆ | С ∞ | Т Ω |
| У ☆ | Ф ✂ | Х ☒ | Ц ☒ |
| Ч ∩ | Ш ♦ | Щ ∩ | Ъ ☒ |
| Ы ∪ | Ь ∞ | Э ☐ | Ю ☐ |
| Я ☎ | , ♣ | . ✂ | ! ⦿ |

Выберите правильный ответ (1 балл)

11. Чем является решение ребуса в предыдущем вопросе?

- а) материалом
- б) инструментом
- в) элементом декора





Установите соответствие (2 балла)

12. Установите соответствие между названиями ручных швов и образцами их выполнения

| 1. Стебельчатый шов | 2. Шов вперед иголкой | 3. Тамбурный шов | 4. Крестообразный шов (козлик) | 5. Петельный шов |
|---------------------|-----------------------|------------------|--------------------------------|------------------|
| а) | б) | в) | г) | д) |

Установите соответствие (1 балл)

13. Установите соответствие между названием машинного шва и его условным изображением

| | | | |
|-----------------------------------------------------------------------------------------|-----------------------------------------------------------------------------------------|-----------------------------------------------------------------------------------------|-------------------------------------------------------------------------------------------|
| 1.  | 2.  | 3.  | 4.  |
| а) шов вподгибку с открытым срезом | б) шов вподгибку с закрытым срезом | в) шов стачной вразутюжку | г) шов стачной вразутюжку |

Установите соответствие, расставив буквы против цифр (1 балл)

14. Установите соответствие

| | |
|------------|--------------------------------------------------------------------------------------------------------------------|
| 1)печворк | а) искусство изготовления плоских или объёмных композиций из скрученных в спиральки длинных и узких полосок бумаги |
| 2)макrame | б) вид рукоделия, в котором по принципу мозаики сшивается цельное изделие из кусочков ткани |
| 3)квиллинг | в) техника узелкового плетения |


15. Кейс-задание (творческое) 6 баллов

Девочка решила на день рождения своего младшего брата изготовить мягкую игрушку – зайчика, но у нее есть только выкройка медвежонка.


Помогите ей сделать

- эскиз мягкой игрушки зайца
- выкройку (на основе выкройки медвежонка), которая будет состоять из четырех деталей:
 - а) туловище – 2 детали, б) мордочка – 1 деталь, в) хвостик – 1 деталь
- подобрать материалы и инструменты, необходимые для работы

Пример работы:



| | |
|------------------------------------------------------------------------------|-----------------------------------------|
| Эскиз зайца (продумай цветовое решение, раскрась цветными карандашами) | Шаблон выкройки (простым карандашом) |
|------------------------------------------------------------------------------|-----------------------------------------|



Материалы (из чего будет сшит зайчик)

Ткань трикотаж

Наполнитель синтипон

Отделка (глаза, нос) из каких материалов чёрные бусины

Инструменты, необходимые для работы

иголка, ножницы, нитки

Оценка творческого задания

| № п/п | Критерии оценивания | Количество баллов |
|-------|-----------------------------------------------------------------------------------------|-------------------|
| 1. | Выполнение эскиза, цветовое решение | 2 |
| 2. | Полный комплект выкройки (туловище – 2 детали, мордочка – 1 деталь, хвостик – 1 деталь) | 2 |
| 3. | Материалы, необходимые для работы | 1 |
| 4. | Инструменты, необходимые для работы | 1 |
| | Итого: | 6 |

Номинация «Культура дома, дизайн и технологии»

6 класс

Шифр 10 001

Заполните таблицу ответов

Сверху указан номер тестового вопроса, под ним – место для ответа

| 1 | 2 | 3 | 4 | 5 | 6 | 7 |
|------------------------------|----|---------------------------------|------|--------------------------------------------------------------------------------------------------|------------------------------------------------------------------------------------------------------|---------------------------|
| Федор Иванович Малыгин | в. | г. технич- ская роетка | б, в | в 1 см - 10 см 120 см - 12 см $12 \cdot 50 \cdot 10 = 6000$ Ответ: 6000 см ³ | 1. 850 2. ватка 3. джутовый 4. шина 5. песок 6. младенец 7. торшонка 8. юбка 30 | 1, 4, 7, 9, 11. 20 |
| 10 | 10 | 10 | 10 | 20 | | |

| 8 | 9 | 10 | 11 | 12 | 13 | 14 |
|-----------------------|------|----|------------------------|-----------------------------------------|---------------------------------|-------------------------|
| стиральная машинка | б, в | ша | б. инстру- менты | 1. в 2. а 3. б 4. г 5. д 20 | 1. з 2. в 3. а 4. б 10 | 1. в 2. в 3. а 10 |
| 10 | 10 | 10 | 10 | | | |

Оценка за тест (количество правильных ответов) 190

Оценка за творческое задание 40

Итого 230

Уважаемый участник!

Вам предложено 15 заданий, из которых 14 включают вопросы и задачи.

Задание 15 – творческое (кейс-задание).

Задача участника - внимательно ознакомиться с предложенными заданиями и выполнить их в строгом соответствии с формулировкой.

Каждый правильный ответ в заданиях с 1 по 14 оценивается в 1 или несколько баллов (смотри количество баллов перед каждым заданием).

Задание 15 (кейс-задание) оценивается в 6 баллов.

Всего за теоретический тур максимальное количество баллов, которое может набрать участник, составляет 25 баллов.

Длительность теоретического тура составляет 2 академических часа (90 минут).

Номинация «Культура дома, дизайн и технологии»

6 класс







Тестовые задания

Впишите правильный ответ (1 балл)

1. 13 февраля 2023 года исполнилось 150 лет со дня рождения этого самого известного русского оперного и камерного певца (высокий бас). В разное время он был солистом Большого и Мариинского театров, а также театра Метрополитен Опера. Его предки по отцовской и материнской линии были родом из Вятской губернии. В сквере, на Театральной площади города Кирова, рядом с Драматическим театром, находится памятник этому знаменитому человеку. Назовите его имя (запишите в бланк ответов).

Выберите правильный ответ (1 балл)

2. Среди предложенных изображений выберите то, на котором приведена маркировка с упаковки изделия, указывающая на то, что коробки с такой продукцией можно ставить рядом и поверх упаковок с продуктами питания

| | | |
|----------------------------------------------------------------------------------------|----------------------------------------------------------------------------------------|------------------------------------------------------------------------------------------|
| А)  | Б)  | В)  |
| Г)  | Д)  | Е)  |

Впишите правильный ответ (1 балл)

3. Выберите, к какому виду художественной росписи относится изделие, изображённое на рисунке.



- а) гжельская роспись
- б) мезенская роспись
- в) городецкая роспись
- г) жостовская роспись
- д) хохломская роспись

Выберите правильный ответ(1 балл)

4. Техносфера – это часть природной среды, преобразованная человеком. Из предложенных вариантов ответов, выберите те, которые НЕ относятся к техносфере
- а) корабль
 - б) море
 - в) фабрика
 - г) горы
 - д) мост
 - е) солнце

Впишите правильный ответ (2 балла)

5. Деревянный брус имеет форму прямоугольного параллелепипеда. Длина бруса равна 50 см, ширина 10 см, высота 120 мм. Определите объём данного бруса. Ответ выразите в кубических сантиметрах.

Справочная информация: чтобы найти объём параллелепипеда, надо перемножить длину, ширину и высоту фигуры

Вставьте пропущенные слова (3 балла)

6. Внимательно прочитайте текст, вставьте пропущенные слова, запишите в таблицу ответов.
- В 2024 году наш город отмечает юбилей, ему исполнилось 1 лет. В XV веке город назывался Хлынов, а 11 сентября 1780 года указом Екатерины II город получил название 2 . Одним из символов нашего края является дымковская игрушка. Промысел возник в слободе 3 . Для производства игрушки используется местная ярко-красная 4 , смешанная с мелким речным 5 . В 2010 году в центре города Кирова, у Театра кукол, установлена скульптурная группа «Семья», выполненная по канонам дымковской игрушки и представляющая собой группу из барыни с 6 , мужичка с 7 , ребенка со свистулькой, кошки и 8 .



Выберите правильный ответ(2 балла)

7. Внимательно рассмотрите рисунки, на них представлены дымковская, филимоновская, каргопольская народные игрушки. Все игрушки изготавливают из глины и расписывают красками. У каждого вида свои характерные особенности. Выберите все варианты дымковской игрушки



Впишите правильный ответ (1 балл)

8. Эта бытовая техника широко использовалась в середине XX века. Что изображено на рисунке? Ответ запишите в бланк ответов



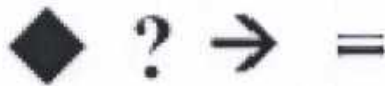
Выберите правильный ответ(1 балл)

9. Из предложенного списка выберите блюдо, в рецепт которого входят только пищевые продукты растительного происхождения.

- а) омлет
- б) какао
- в) суп харчо
- г) винегрет

Впишите правильный ответ (1 балл)

10. Используя шифр, отгадайте, какое слово задумано. Ответ впишите в бланк ответов
Слово:



Шифр

| | | | |
|-----|-----|-----|-----|
| А = | Б % | В № | Г ? |
| Д * | Е + | Ё) | Ж ☞ |
| З / | И ◆ | Й Ц | К ← |
| Л → | М ☒ | Н ☐ | О ∪ |
| П ⊙ | Р ☆ | С ∞ | Т ∂ |
| У ☆ | Ф ↗ | Х ☒ | Ц ☒ |
| Ч ∩ | Ш ◆ | Щ ∩ | Ъ ☒ |
| Ы ⊙ | Ь ∞ | Э ☐ | Ю ☐ |
| Я ☞ | , ♣ | . ✂ | ! ⊗ |

Выберите правильный ответ(1 балл)

11. Чем является решение ребуса в предыдущем вопросе?

- а) материалом
- б) инструментом
- в) элементом декора





Установите соответствие(2 балла)

12. Установите соответствие между названиями ручных швов и образцами их выполнения

| 1. Стебельчатый шов | 2. Шов вперед иголкой | 3. Тамбурный шов | 4. Крестообразный шов (козлик) | 5. Петельный шов |
|---------------------|-----------------------|------------------|--------------------------------|------------------|
| а) | б) | в) | г) | д) |

Установите соответствие (1 балл)

13. Установите соответствие между названием машинного шва и его условным изображением

| | | | |
|-----------------------------------------------------------------------------------------|-----------------------------------------------------------------------------------------|-----------------------------------------------------------------------------------------|-------------------------------------------------------------------------------------------|
| 1.  | 2.  | 3.  | 4.  |
| а) шов вподгибку с открытым срезом | б) шов вподгибку с закрытым срезом | в) шов стачной вразутюжку | г) шов стачной вразутюжку |

Установите соответствие, расставив буквы против цифр (1 балл)

14. Установите соответствие

| | |
|------------|--------------------------------------------------------------------------------------------------------------------|
| 1)печворк | а) искусство изготовления плоских или объёмных композиций из скрученных в спиральки длинных и узких полосок бумаги |
| 2)макраме | б) вид рукоделия, в котором по принципу мозаики сшивается цельное изделие из кусочков ткани |
| 3)квиллинг | в) техника узелкового плетения |


15. Кейс-задание (творческое) 6 баллов

Девочка решила на день рождения своего младшего брата изготовить мягкую игрушку – зайчика, но у нее есть только выкройка медвежонка.


Помогите ей сделать

- эскиз мягкой игрушки зайца
- выкройку (на основе выкройки медвежонка), которая будет состоять из четырех деталей:
 - а) туловище – 2 детали, б) мордочка – 1 деталь, в) хвостик – 1 деталь
- подобрать материалы и инструменты, необходимые для работы

Пример работы:



| | |
|---------------------------------------------------------------------------|-----------------------------------------|
| Эскиз зайца (продумай цветовое решение, раскрась цветными карандашами) | Шаблон выкройки (простым карандашом) |
|---------------------------------------------------------------------------|-----------------------------------------|



Материалы (из чего будет сшит зайчик)

Ткань фетр трикотаж

Наполнитель синтепон или пух

Отделка (глаза, нос) из каких материалов камушки, пластик

Инструменты, необходимые для работы

ножницы, игла, нитки

Оценка творческого задания

| № п/п | Критерии оценивания | Количество баллов |
|-------|-----------------------------------------------------------------------------------------|-------------------|
| 1. | Выполнение эскиза, цветовое решение | 2 |
| 2. | Полный комплект выкройки (туловище – 2 детали, мордочка – 1 деталь, хвостик – 1 деталь) | 2 |
| 3. | Материалы, необходимые для работы | 1 |
| 4. | Инструменты, необходимые для работы | 1 |
| | Итого: | 6 |