

Муниципальный этап всероссийской олимпиады школьников **Технология** (девушки)

За полностью выполненное задание дается 1 балл; если в задании допущена хотя бы одна ошибка или задание не выполнено – 0 баллов. За творческое задание дается 6 баллов. Максимальное количество баллов – 25.

7 класс

1. Какую посуду нельзя использовать для приготовления и хранения пищи?

- а) из нержавеющей стали
 б) из пластика
 в) из жаропрочного стекла
 г) с повреждённой эмалью

18+

2. Установите соответствие.

В каких овощах содержится наибольшее количество указанных веществ?

1. Свекла	А) Крахмал
2. Капуста	Б) Каротин
3. Картофель	В) Сахар
4. Морковь	Г) Витамин С

18+

Ответ 1 - А 2 - Г 3 - А 4 - Б

3. Продукты на фотографии богаты этим микроэлементом.

Назовите его Кальций

Он играет важную роль в питании человека. Какую?

- а) необходим для формирования костной ткани
 б) нужен для нормального функционирования нервной системы
 в) необходим для нормальной работы почек
 г) усиливает выделение жидкости из организма



4.

название столового прибора.

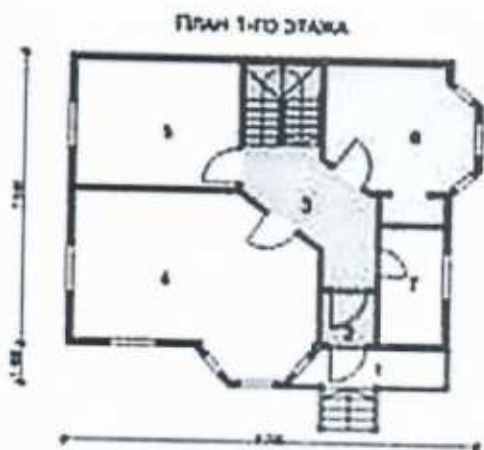
Вставьте

16 Прибор десертный (ложка, вилка и нож) по размеру несколько меньше закусочного, применяется при подаче сладких блюд, фруктов. Иногда вилка бывает с тремя зубцами, один из которых заострен и расширен.

5. Как называется процесс одноразового нагревания жидких продуктов или веществ до $60\text{ }^{\circ}\text{C}$ в течение 60 минут или при температуре $70\text{--}80\text{ }^{\circ}\text{C}$ в течение 30 минут?

- 16 + а) Консервирование
б) Пастеризация
в) Стерилизация

6. План 1-го этажа какого дома, представленного в таблице, изображён на схеме?



а)



б)



в)

16 Ответ б

7. Установите соответствие.

Виды волокон	Волокна
1. Натуральные животного происхождения	А) лен
2. Химические синтетические	Б) асбест
3. Натуральные растительного происхождения	В) вискоза
4. Натуральные минеральные	Г) шелк
5. Химические искусственные	Д) капрон

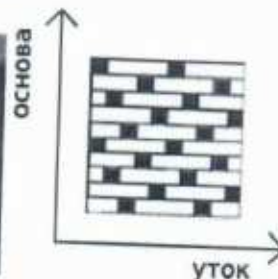
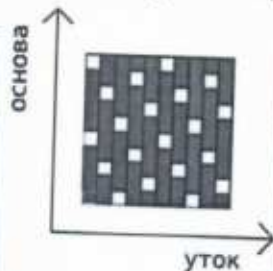
18 Ответ 1 - Г 2 - Д 3 - А 4 - Б 5 - В

8. Ткань обладает способностью изменять свои линейные размеры при стирке и влажно-тепловой обработке. Как называют это свойство?

15 Ответ Усадка

9. Вставьте пропущенные слова.

15 Ткани атласного (А) и саржевого (Б) переплетения имеют гладкую, блестящую лицевую поверхность.



А)

Б)

10. Какими свойствами, затрудняющими обработку изделий из них, обладают ткани из задания №9?

а) драпируемость

+ б) осыпаемость

15 + в) скольжение

г) сминаемость

д) пиллингуемость

11. Отметьте правильный ответ.

Номер машинной иглы должен соответствовать

а) цвету ткани

б) цвету ниток

+ в) виду ткани

15 + г) номеру ниток

д) размеру обрабатываемой детали

12. Установите соответствие.

1. Прокалывает ткань, проводит через неё нитку	А) зубчатая рейка
2. Перемещает ткань	Б) игла
3. Прижимает ткань к игольной пластине	В) челнок
4. Захватывает петлю иглы, осуществляя переплетение верхней и нижней нити	Г) лапка

15 Ответ 1 - Б 2 - А 3 - Г 4 - В

13. Узор, построенный на ритмическом чередовании изображаемых мотивов, называется:

- а) эскиз
- б) композиция
- + в) орнамент
- г) рисунок вышивки
- д) раппорт

14. Женскому рукоделию придавалось большое значение в мифологических сказаниях и других фольклорных материалах. Их содержание показывает, что люди в древности отождествляли с вьющейся нитью свою собственную жизнь и судьбу. Назовите вид рукоделия.


15 Ответ Прядение

15 15. Вставьте пропущенное слово.

Техника создания изделий из кусочков ткани, называется

Лоскутное шитье, пэчворк

16. На рисунке показана раскладка на ткани выкройки прямой юбки. Объясните, почему оба полотнища юбки направлены в одну сторону.



15 16 Ответ Оба полотнища юбки направлены в одну сторону, потому что ткань имеет направление нити рисунка.

17. Величина припуска на шов зависит от:

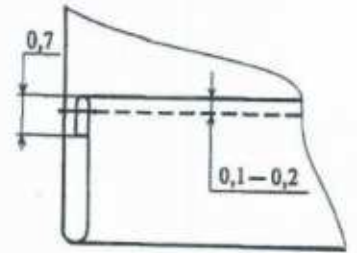
- а) характеристик швейной машины
- + б) вида шва
- + в) свойств ткани
- г) назначения швейного изделия

15 18. Из предложенных терминов выберите термины, соответствующие графическому изображению

1. Притачать
2. Настрочить
- + 3. Застрочить
4. Обтачать
- + 5. Стачать
6. Подшить



A)



Б)

18 Ответ А) 5 Б) 3
справа

19. При работе с утюгом нельзя (выберите несколько вариантов ответа):


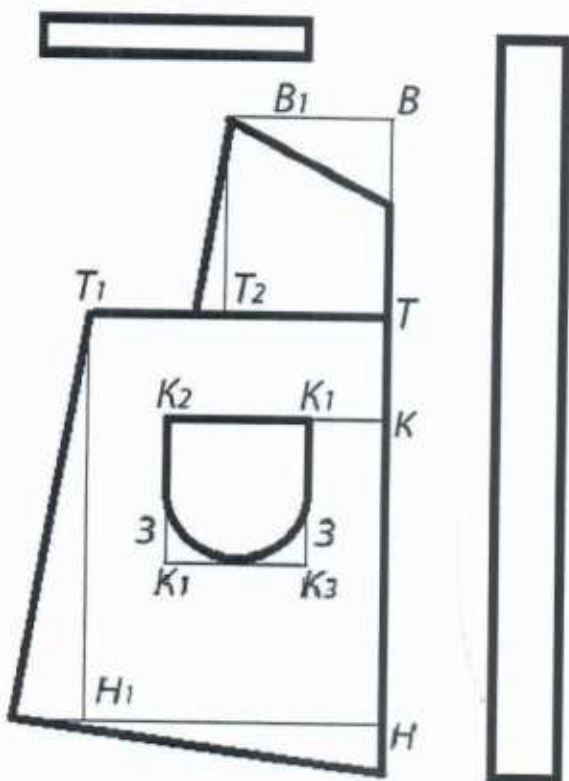
- а) ставить утюг на огнеупорную подставку
- б) утюжить влажную ткань
- + в) выключать утюг, дёргая за шнур
- + г) включать утюг мокрыми руками
- д) заливать воду из-под крана в ёмкость для воды утюга, включенного в сеть
- е) переключать температурные режимы

18

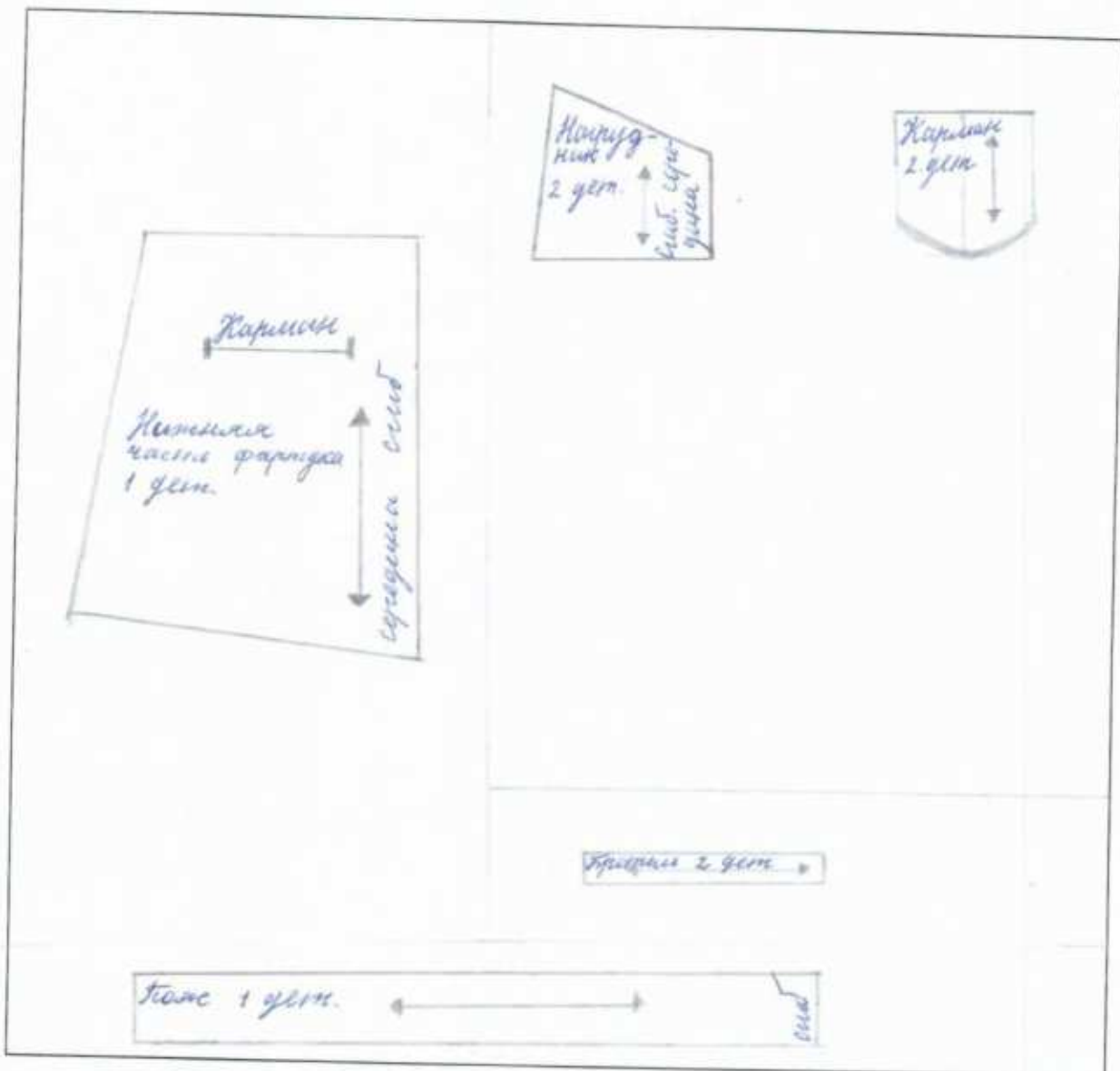
20. Творческое задание.

Вам предложен результат моделирования фартука.

58



1. Выполните эскиз фартука в цвете
2. Начертите детали края фартука.



15

3. Подпишите на деталях края названия и количество деталей, линии середины; сгиб, укажите направление долевой нити.

4. Укажите силуэт (конструкцию) фартука и его особенности.

Фартук определенной по ширине талии с нагрудником.
Конструкция и нижняя часть фартука трапециевидной
формы с увеличением расширением к низу. Верх нагрудника
и низ фартука фигурной формы; отделаны цветной тканью,
укрепленной с населенкой фартука. На нижней части фарту-
ка расположены бабочка по сторонам кармана, закрученные по низу.

5. Перечислите материалы, из которых можно выполнить такую модель.

Ситец, сатин, (б) бязь.

Муниципальный этап всероссийской олимпиады школьников **Технология** (девушки)

За полностью выполненное задание дается 1 балл; если в задании допущена хотя бы одна ошибка или задание не выполнено – 0 баллов. За творческое задание дается 6 баллов. Максимальное количество баллов – 25.

7 класс

1. Какую посуду нельзя использовать для приготовления и хранения пищи?

- 18
- а) из нержавеющей стали
 - ✓ б) из пластика
 - в) из жаропрочного стекла
 - ✓ с) с повреждённой эмалью

2. Установите соответствие.

В каких овощах содержится наибольшее количество указанных веществ?

1. Свекла	А) Крахмал
2. Капуста	Б) Каротин
3. Картофель	В) Сахар
4. Морковь	Г) Витамин С

18

Ответ 1 - А 2 - Г 3 - А 4 - Б

3. Продукты на фотографии богаты этим микроэлементом.

18

Назовите его Кальций

Он играет важную роль в питании человека. Какую?

- а) необходим для формирования костной ткани
- б) нужен для нормального функционирования нервной системы
- в) необходим для нормальной работы почек
- г) усиливает выделение жидкости из организма



4. *название столового прибора.*

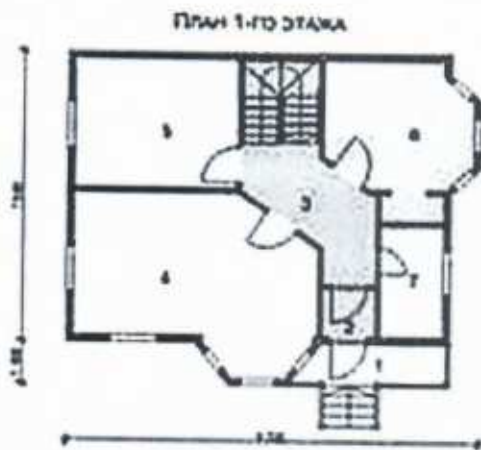
Вставьте

18 Прибор Десертный (ложка, вилка и нож) по размеру несколько меньше закусочного, применяется при подаче сладких блюд, фруктов. Иногда вилка бывает с тремя зубцами, один из которых заострен и расширен.

5. Как называется процесс одноразового нагревания жидких продуктов или веществ до $60\text{ }^{\circ}\text{C}$ в течение 60 минут или при температуре $70\text{--}80\text{ }^{\circ}\text{C}$ в течение 30 минут?

- 18
- а) Консервирование
 - ✓ б) Пастеризация
 - в) Стерилизация

6. План 1-го этажа какого дома, представленного в таблице, изображён на схеме?



а)



б)



в)

18 Ответ Б

7. Установите соответствие.

Виды волокон	Волокна
1. Натуральные животного происхождения	А) лен
2. Химические синтетические	Б) асбест
3. Натуральные растительного происхождения	В) вискоза
4. Натуральные минеральные	Г) шелк
5. Химические искусственные	Д) капрон

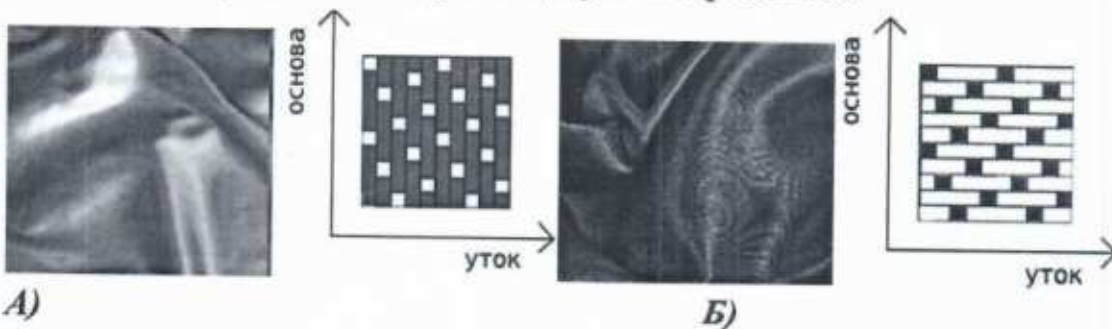
15 Ответ 1 - Г 2 - Д 3 - А 4 - В 5 - В

8. Ткань обладает способностью изменять свои линейные размеры при стирке и влажно-тепловой обработке. Как называют это свойство?

15 Ответ Усадка

9. Вставьте пропущенные слова.

15 Ткани атласного (А) и сатинового (Б) переплетения имеют гладкую, блестящую лицевую поверхность.



А)

Б)

10. Какими свойствами, затрудняющими обработку изделий из них, обладают ткани из задания №9?

- а) драпируемость
- ✓ б) осыпаемость
- ✓ в) скольжение
- г) сминаемость
- д) пиллингуемость

11. Отметьте правильный ответ.

Номер машинной иглы должен соответствовать

- а) цвету ткани
- б) цвету ниток
- ✓ в) виду ткани
- ✓ г) номеру ниток
- д) размеру обрабатываемой детали

12. Установите соответствие.

1. Прокалывает ткань, проводит через неё нитку	А) зубчатая рейка
2. Перемещает ткань	Б) игла
3. Прижимает ткань к игольной пластине	В) челнок
4. Захватывает петлю иглы, осуществляя переплетение верхней и нижней нити	Г) лапка

15 Ответ 1 - Б 2 - А 3 - Г 4 - В

13. Узор, построенный на ритмическом чередовании изображаемых мотивов, называется:

а) эскиз
б) композиция

✓ в) орнамент

г) рисунок вышивки

д) раппорт

14. Женскому рукоделию придавалось большое значение в мифологических сказаниях и других фольклорных материалах. Их содержание показывает, что люди в древности отождествляли с вьющейся нитью свою собственную жизнь и судьбу. Назовите вид рукоделия.

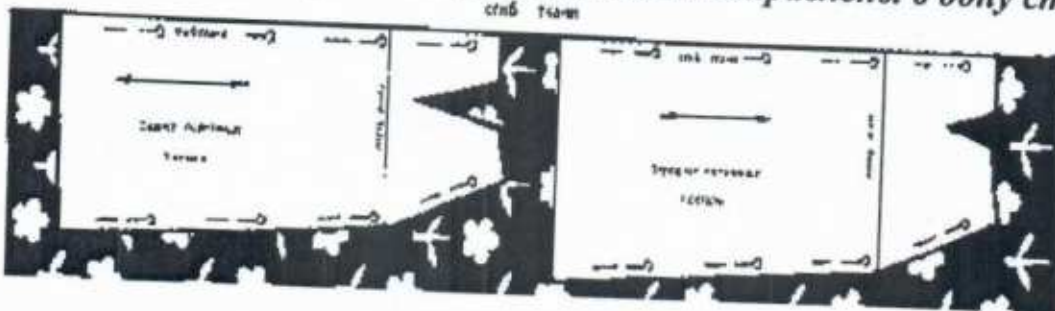
15 Ответ Прядение

15. Вставьте пропущенное слово.

Техника создания изделий из кусочков ткани, называется

15 Лоскутная шитье, пэчворк

16. На рисунке показана раскладка на ткани выкройки прямой юбки. Объясните, почему оба полотнища юбки направлены в одну сторону.



15 Ответ Оба полотнища юбки направлены в одну сторону, потому что ткань шьют направленной раскладкой.

17. Величина припуска на шов зависит от:

а) характеристик швейной машины

✓ б) вида шва

✓ в) свойств ткани

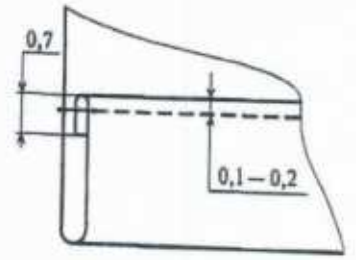
г) назначения швейного изделия

18. Из предложенных терминов выберите термины, соответствующие графическому изображению

1. Притачать
2. Настрочить
- ✓ 3. Застрочить
4. Обтачать
- ✓ 5. Стачать
6. Подшить



A)



Б)

18 Ответ А) 5 Б) 3


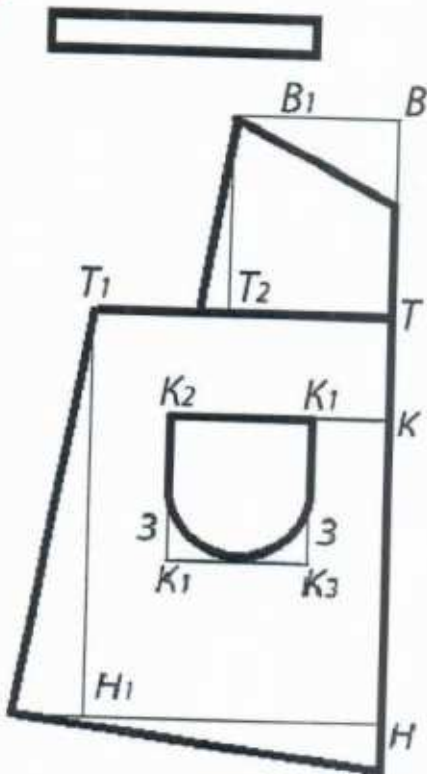
19. При работе с утюгом нельзя (выберите несколько вариантов ответа):

- а) ставить утюг на огнеупорную подставку
- б) утюжить влажную ткань
- ✓ в) выключать утюг, дёргая за шнур
- ✓ г) включать утюг мокрыми руками
- д) заливать воду из-под крана в ёмкость для воды утюга, включенного в сеть
- е) переключать температурные режимы

20. Творческое задание.

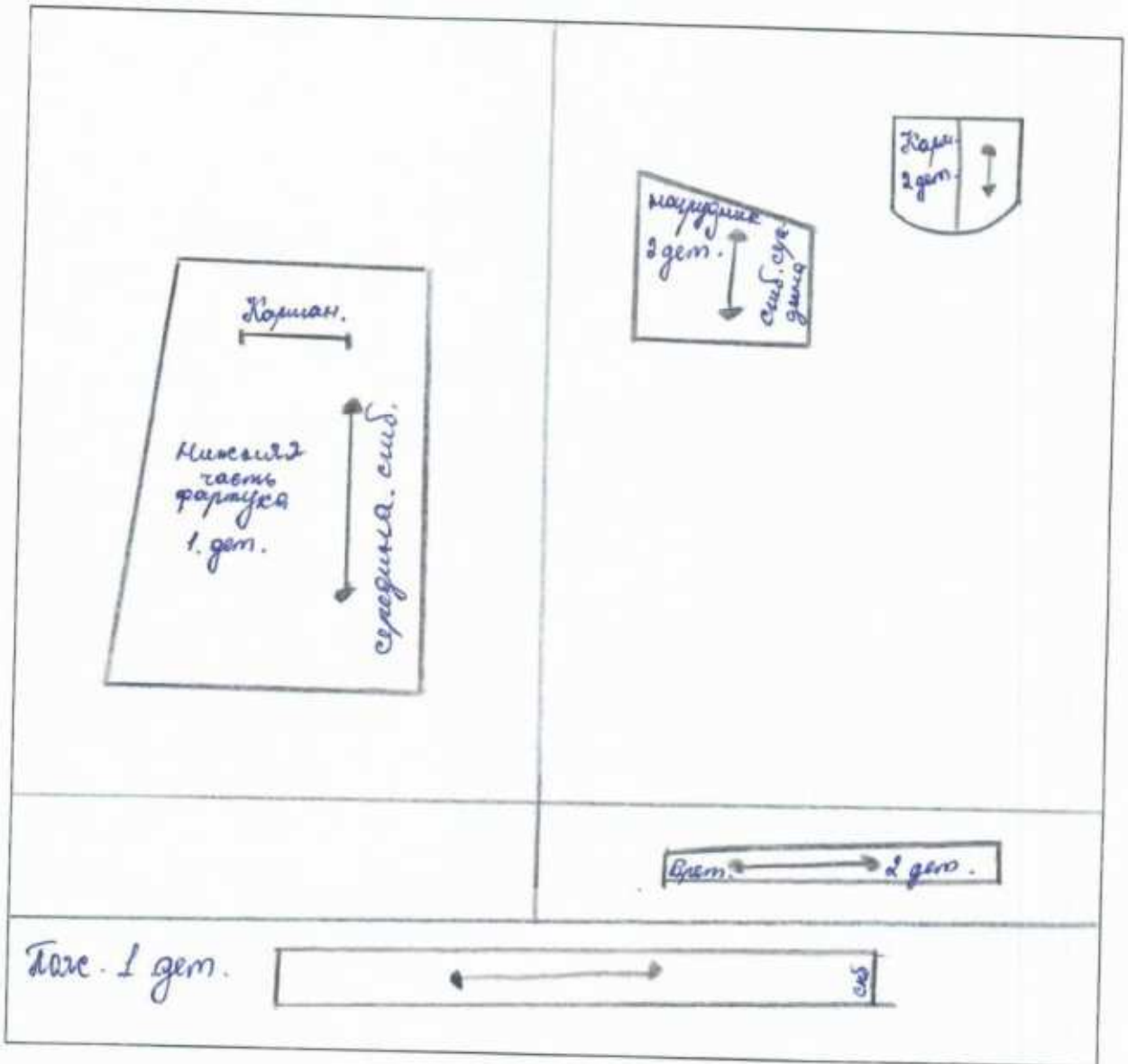
Вам предложен результат моделирования фартука.

58



1. Выполните эскиз фартука в цвете

2. Начертите детали кроя фартука.



3. Подпишите на деталях кроя названия и количество деталей, линии середины; сгиб, укажите направление долевой нити.

4. Укажите силуэт (конструкцию) фартука и его особенности.

Фартук ступенчатый по ширине талии с надувными.

5. Перечислите материалы, из которых можно выполнить такую модель.

Ситец, сатин (в)язь

Муниципальный этап всероссийской олимпиады школьников Технология (девочки)

За полностью выполненное задание дается 1 балл; если в задании допущена хотя бы одна ошибка или задание не выполнено – 0 баллов. За творческое задание дается 6 баллов. Максимальное количество баллов – 25.

7 класс

1. Какую посуду нельзя использовать для приготовления и хранения пищи?

- а) из нержавеющей стали
- + б) из пластика
- в) из жаропрочного стекла
- + с) с повреждённой эмалью

2. Установите соответствие.

В каких овощах содержится наибольшее количество указанных веществ?


1. Свекла	А) Крахмал
2. Капуста	Б) Каротин
3. Картофель	В) Сахар
4. Морковь	Г) Витамин С

16 Ответ 1 - А 2 - Г 3 - А 4 - Б

3. Продукты на фотографии богаты этим микроэлементом. Назовите его Кальций

Он играет важную роль в питании человека. Какую?

- а) необходим для формирования костной ткани
- б) нужен для нормального функционирования нервной системы
- в) необходим для нормальной работы почек
- г) усиливает выделение жидкости из организма



4. название столового прибора.

Вставьте

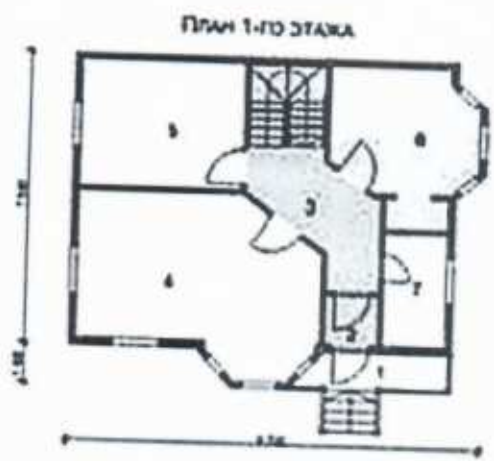
15 Прибор десертный (ложка, вилка и нож) по размеру несколько меньше закусочного, применяется при подаче сладких блюд, фруктов. Иногда вилка бывает с тремя зубцами, один из которых заострен и расширен.

5. Как называется процесс одноразового нагревания жидких продуктов или веществ до 60 °C в течение 60 минут или при температуре 70—80 °C в течение 30 минут?

- а) Консервирование
- + б) Пастеризация
- в) Стерилизация

15

6. План 1-го этажа какого дома, представленного в таблице, изображён на схеме?



а)



б)



в)

15 Ответ б

7. Установите соответствие.

Виды волокон	Волокна
1. Натуральные животного происхождения	А) лен
2. Химические синтетические	Б) асбест
3. Натуральные растительного происхождения	В) вискоза
4. Натуральные минеральные	Г) шелк
5. Химические искусственные	Д) капрон

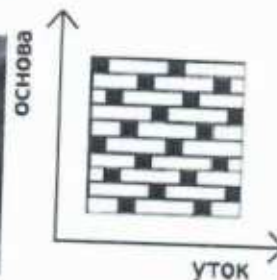
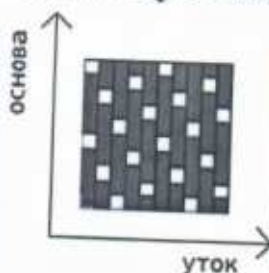
15 Ответ 1 - Г 2 - Д 3 - А 4 - Б 5 - В

15 8. Ткань обладает способностью изменять свои линейные размеры при стирке и влажно-тепловой обработке. Как называют это свойство?

Ответ Усадка

15 9. Вставьте пропущенные слова.

Ткани атласного (А) и сатинового (Б) переплетения имеют гладкую, блестящую лицевую поверхность.



А)

Б)

10. Какими свойствами, затрудняющими обработку изделий из них, обладают ткани из задания №9?

а) драпируемость

+ б) осыпаемость

+ в) скольжение

г) сминаемость

д) пиллингуемость

11. Отметьте правильный ответ.

Номер машинной иглы должен соответствовать

а) цвету ткани

б) цвету ниток

+ в) виду ткани

+ г) номеру ниток

д) размеру обрабатываемой детали

12. Установите соответствие.

1. Прокалывает ткань, проводит через неё нитку	А) зубчатая рейка
2. Перемещает ткань	Б) игла
3. Прижимает ткань к игольной пластине	В) челнок
4. Захватывает петлю иглы, осуществляя переплетение верхней и нижней нити	Г) лапка

15 Ответ 1 - Б 2 - А 3 - Г 4 - В

13. Узор, построенный на ритмическом чередовании изображаемых мотивов, называется:

- а) эскиз
- б) композиция
- 15 + в) орнамент
- г) рисунок вышивки
- д) раппорт

14. Женскому рукоделию придавалось большое значение в мифологических сказаниях и других фольклорных материалах. Их содержание показывает, что люди в древности отождествляли с вьющейся нитью свою собственную жизнь и судьбу. Назовите вид рукоделия.

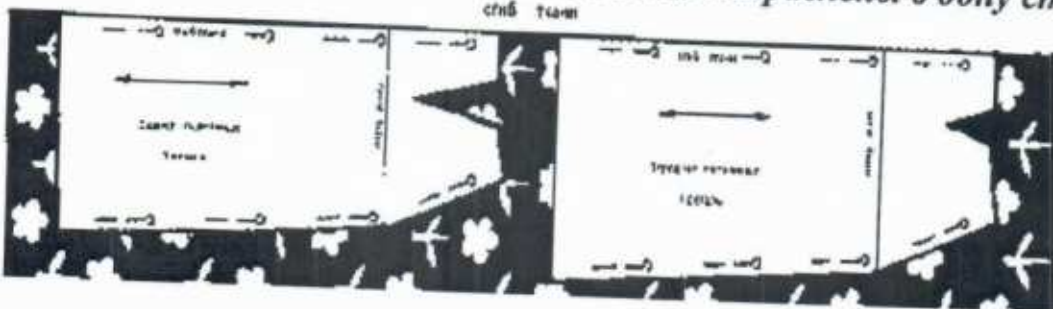
15 Ответ Прядение

15. Вставьте пропущенное слово.

Техника создания изделий из кусочков ткани, называется

15 лоскутное шитье, пэпверк

16. На рисунке показана раскладка на ткани выкройки прямой юбки. Объясните, почему оба полотнища юбки направлены в одну сторону.



15 Ответ _____

17. Величина припуска на шов зависит от:

- а) характеристик швейной машины
- б) вида шва
- 15 + в) свойств ткани
- г) назначения швейного изделия

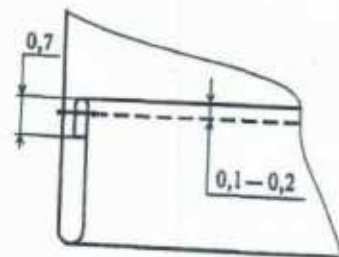
18. Из предложенных терминов выберите термины, соответствующие графическому изображению

1. Притачать
2. Настрочить
- + 3. Застрочить
4. Обтачать
- + 5. Стачать
6. Подшить

18



A)



B)

Ответ А) 5 Б) 3

19. При работе с утюгом нельзя (выберите несколько вариантов ответа):


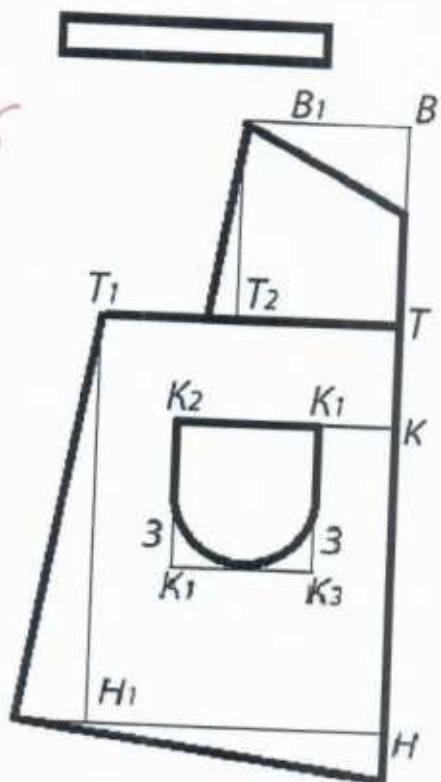
- а) ставить утюг на огнеупорную подставку
- б) утюжить влажную ткань
- + в) выключать утюг, дёргая за шнур
- + г) включать утюг мокрыми руками
- д) заливать воду из-под крана в ёмкость для воды утюга, включенного в сеть
- е) переключать температурные режимы

18

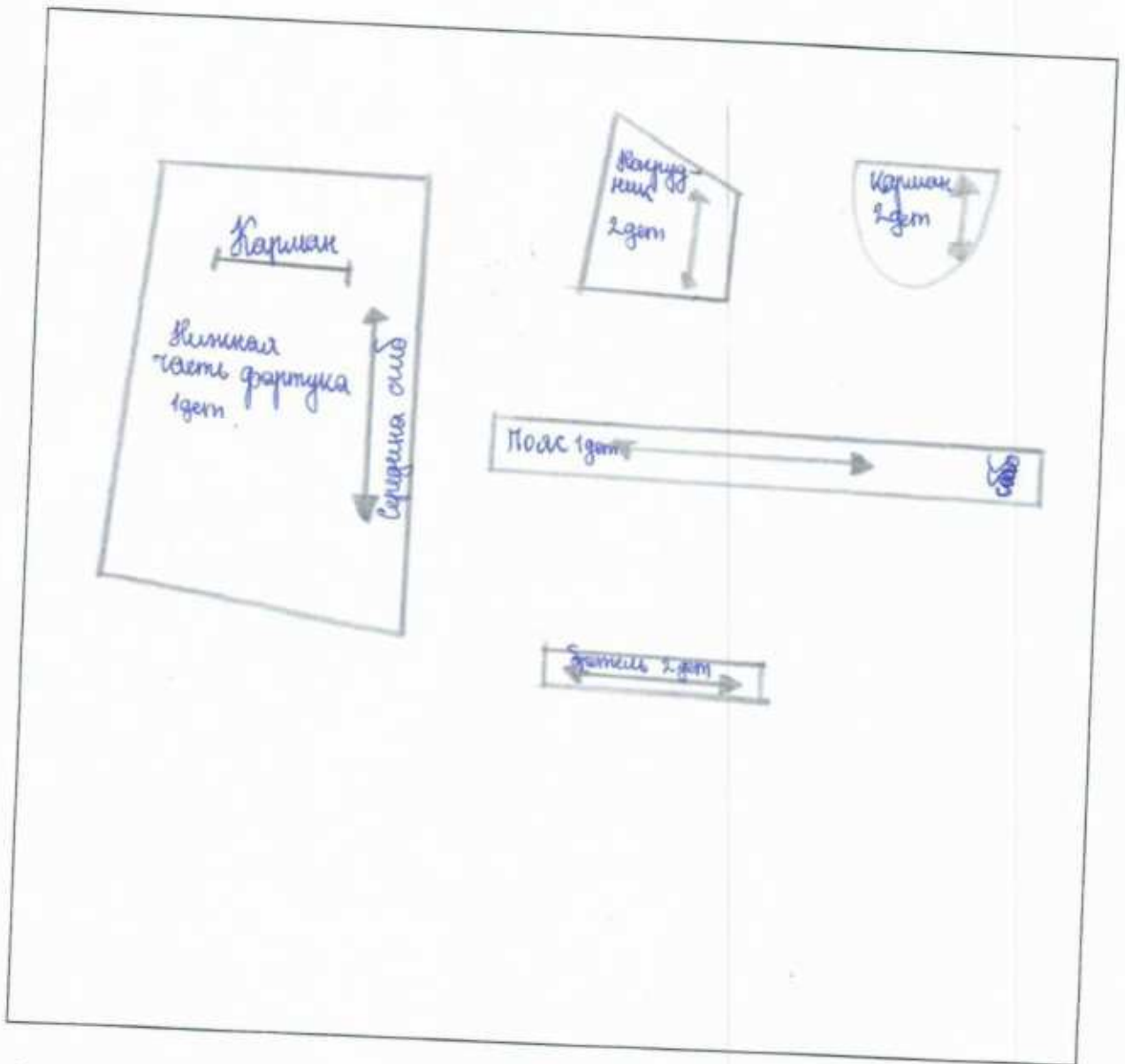
20. Творческое задание.

Вам предложен результат моделирования фартука.

38



1. Выполните эскиз фартука в цвете
2. Начертите детали кроя фартука.



16

3. Подпишите на деталях кроя названия и количество деталей, линии середины; сгиб, укажите направление долевой нити.
4. Укажите силуэт (конструкцию) фартука и его особенности.

5. Перечислите материалы, из которых можно выполнить такую модель.


Ситец, сатин, вель

Муниципальный этап всероссийской олимпиады школьников
Технология (девушки)

За полностью выполненное задание дается 1 балл; если в задании допущена хотя бы одна ошибка или задание не выполнено – 0 баллов. За творческое задание дается 11 баллов. Максимальное количество баллов – 35.

8-9 класс

1. В этом пищевом продукте содержится наибольшее количество:

	А) жиров Б) белков В) углеводов Г) витаминов
---	---

15

Ответ Б, белков

2. Отгадайте загадку:

«И зелен, и густ
На грядке вырос куст.
Покопай немножко:
Под кустом...»

15

В рецепт какого супа не входит этот продукт?

Ответ Картошки суп - жарко готовится без картошки

3. Какие основные ингредиенты необходимы для варки рассольника?



Г)

А)

Б)





В)

15

Ответ А, В, Г

4. Соотнесите вид теста с готовым изделиям.

1. Слоеное 2. Дрожжевое 3. Заварное 4. Песочное

 <p>A)</p>	 <p>Б)</p>	 <p>В)</p>
 <p>Г)</p>	<p>Ответ 1 - <u>Г</u> 2 - <u>В</u> 3 - <u>А</u> 4 - <u>Б</u></p>	

18

5. Данная сервировка уместна к ...

- A) Завтраку
- Б) Ужину
- В) Ланчу
- + Г) Обеду



18

6. Укажите правильную последовательность действий при термическом ожоге первой степени.

- A) Наложить стерильную повязку
- Б) Обработать противоожоговыми препаратами
- В) Обожженный участок кожи подставить под струю холодной воды
- Г) Обработать специальными антисептическими средствами

18

Ответ 1 - В 2 - Г 3 - Б 4 - А

7. Какое средство композиции использовано при оформлении интерьера данной комнаты?

Ответ Симметрия



15

8. Установите соответствие между представленными на рисунках историческими костюмами, интерьерами и названиями стилей/



A)



Б)



В)



I



II



III

Ответ:

1 Классицизм

Б-I

2 Античный стиль

А-III

3 Готика

В-II

15

9. Декоративная деталь из ткани в верхней части дверных и оконных проёмов называется:

- 15
- А) штора
 - Б) карниз
 - + В) ламбрекен
 - Г) занавеска
 - Д) ширма



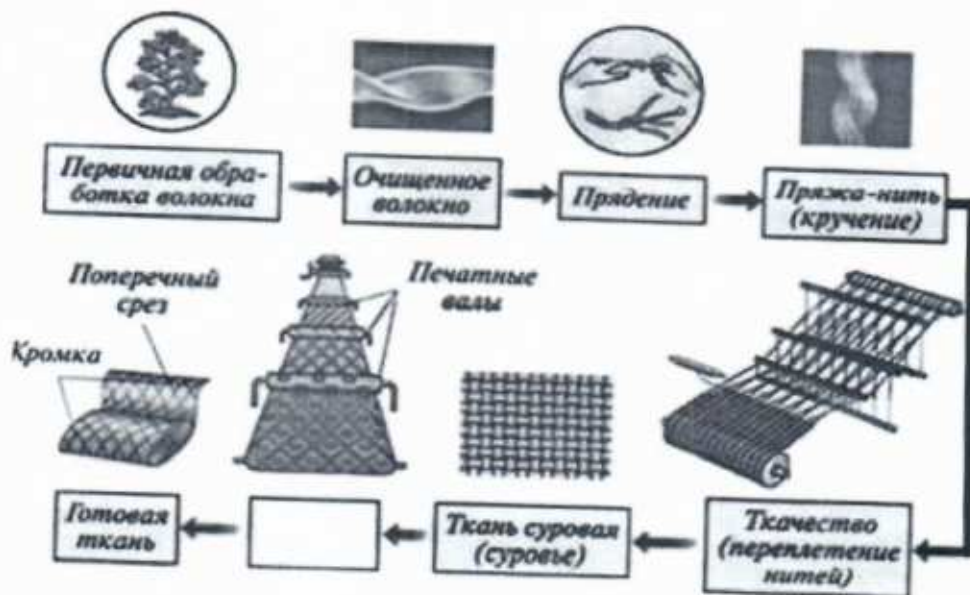
10. К элементам русского народного костюма относятся:

- 15
- + А) Рубаха
 - Б) Халат
 - В) Кюлоты
 - + Г) Сарафан
 - + Д) Шушпан
 - + Е) Кокошник

11. Современный стиль одежды с использованием элементов национального костюма):

- 15
- А) Милитари
 - Б) Кежуэл
 - + В) Кантри
 - Г) Ретро

12. На представленной схеме производства ткани отсутствует название одной операции. Назовите эту операцию.



15 Ответ Отделка

13. Расположите перечисленные ниже материалы в порядке увеличения прочности волокна:

- А) Хлопок Б) Лён В) Шерсть Г) Шёлк

15 Ответ 1 - Б 2 - А 3 - Г 4 - Б

14. Установите соответствие символов по уходу за тканями их значениям:

1. Только ручная стирка при температуре максимум 30, не тереть, не отжимать
2. Разрешено гладить при максимальной температуре 200°C
3. Разрешено отжимать в стиральной машине и высушивать электросушилкой
4. Сушить на горизонтальной поверхности
5. Сухая чистка с любым растворителем
6. Разрешена стирка с отбеливателями, содержащими хлор; использовать только холодную воду, следить за полным растворением порошка

А Б В Г Д Е



15 Ответ 1 - Е 2 - Г 3 - А 4 - Б 5 - Б 6 - Г

15 15. Вставьте пропущенное слово. Обработка ткани антистатиком уменьшает её Электризуемость

16. Для чего используется клеевой флизелин?

- А) Для предохранения деталей кроя швейных изделий от выгорания
Б) Для предохранения деталей кроя швейных изделий от усадки
15 + В) Для придания им жесткости и формоустойчивости

17. Выберите по рисунку качественно выполненную машинную строчку и назовите дефекты изображенных некачественных строчек.



А)

Б)

В)

15 Ответ Б - качественно сшитая строчка, А - затянута верхняя нить, В - затянута нижняя нить



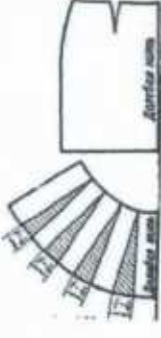
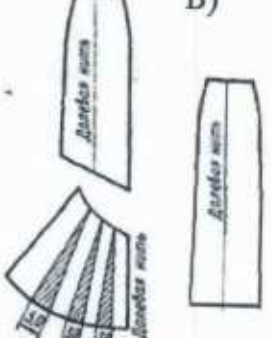
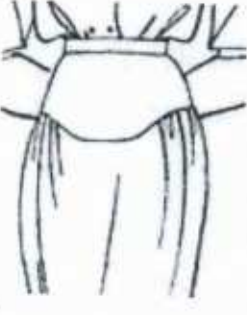

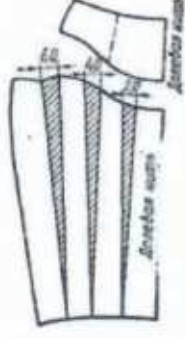
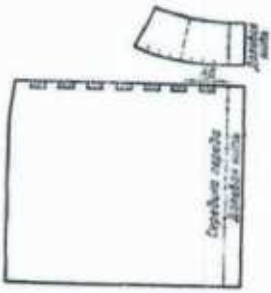
18. Соотнесите номер иглы и вид материала.

- | | |
|-------------------|----------|
| 1) Батист | А) № 110 |
| 2) Сукно | Б) № 100 |
| 3) Фланель, ситец | В) № 70 |
| 4) Драп | Г) № 90 |

15

Ответ 1 - В 2 - Б 3 - Г 4 - А

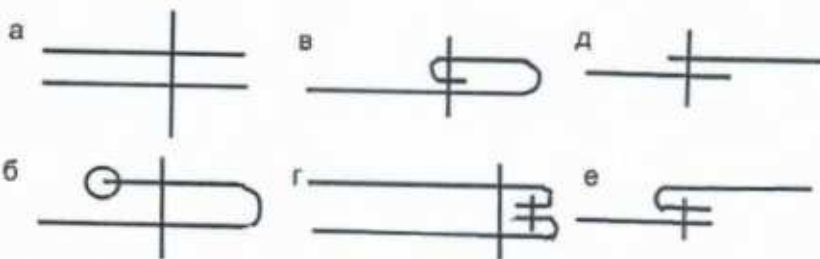
19. Установите соответствие между моделью юбки и её моделированием:

Модель		Моделирование	
1 	2 	A) 	Б) 
3 	4 	В) 	Г) 

15

Ответ 1 - Г 2 - А 3 - В 4 - Б

20. Выберите швы для обработки нижнего среза юбки. Напишите их названия.



15

Ответ в-шов втачивания с закрытым срезами, б-шов втачивания с открытым срезами

21. Какую мерку измеряют от седьмого шейного позвонка до линии талии? Напишите её условное обозначение.

- А) Длина спины до талии
- Б) Длина плеча
- В) Длина переда до талии
- Г) Длина изделия

18

Ответ А, Г

22. Какой шов, предназначенный для ручной вышивки, представлен на рисунке?

- А) Шов вперед иголку;
- + Б) Стебельчатый шов;
- В) Петельный шов;
- Г) Тамбурный шов.

18



23. Какие изделия выполнены в технике узелкового батика?



А)

Б)

+ В)

+ Г)

24. К непроизводственным сферам деятельности человека относятся:

- А) Машиностроение
- Б) Лесное хозяйство
- + В) Общественное питание
- + Г) Пассажирский транспорт
- Д) Сельское хозяйство

18

25. Творческое задание

Вам предложены 3 фигуры девушки.

1. Предложите по одной модели блузки

а) для спорта, б) для школы, в) для дискотеки

2. Выполните эскизы (в цвете) этих моделей.

3. Опишите внешний вид моделей по предложенной форме.

4. Рекомендуйте ткани (волокнистый состав) для каждой модели.

298



Модель блузки для спорта:

стиль Спортивный

силуэт Спортивной

покрой рукава

Шерстяной

воротник

Летачий

застежка

пуговицы

детали

отделка

цвет голубой

Рекомендуемая ткань

Модель блузки для школы:

стиль школьный

силуэт школьный

покрой рукава

хлопчатобумажный

воротник

стойкий

застежка

пуговицы

детали

отделка

цвет чёрный

Рекомендуемая ткань

Модель блузки для дискотеки:

стиль дискотечный

силуэт Туровичко

покрой рукава

воротник

нет

застежка

нет

детали

отделка

цвет красный


Рекомендуемая ткань

Муниципальный этап всероссийской олимпиады школьников
Технология (девушки)

За полностью выполненное задание дается 1 балл; если в задании допущена хотя бы одна ошибка или задание не выполнено – 0 баллов. За творческое задание дается 11 баллов. Максимальное количество баллов – 35.

8-9 класс

1. В этом пищевом продукте содержится наибольшее количество:

	А) жиров Б) белков В) углеводов Г) витаминов
---	---

10

Ответ Б) белков

2. Отгадайте загадку:

«И зелен, и густ
На грядке вырос куст.
Покопай немножко:
Под кустом...»

В рецепт какого супа не входит этот продукт?

Ответ Картошка, суп-харчо готовится без картошки

10

3. Какие основные ингредиенты необходимы для варки рассольника?



Г)

А)

Б)


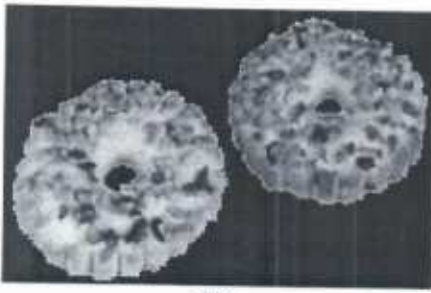


В)

10

Ответ А, В, Г.

4. Соотнесите вид теста с готовым изделиям.

1. Слоеное 2. Дрожжевое 3.Заварное 4.Песочное

 <p>A)</p>	 <p>Б)</p>	 <p>В)</p>
 <p>Г)</p>	<p>Ответ 1 - <u>Г</u> 2 - <u>В</u> 3 - <u>А</u> 4 - <u>Б</u></p>	

15

5. Данная сервировка уместна к ...

- А) Завтраку
- Б) Ужину
- В) Ланчу
- + Г) Обеду



15

6. Укажите правильную последовательность действий при термическом ожоге первой степени.

- А) Наложить стерильную повязку
- Б) Обработать противоожоговыми препаратами
- В) Обожженный участок кожи подставить под струю холодной воды
- Г) Обработать специальными антисептическими средствами

15

Ответ 1 - В 2 - Г 3 - Б 4 - А

7. Какое средство композиции использовано при оформлении интерьера данной комнаты?

Ответ Симметрия



8. Установите соответствие между представленными на рисунках историческими костюмами, интерьерами и названиями стилей/



А)



Б)



В)



I



II



III

Ответ:

1 Классицизм Б - I

2 Античный стиль А - III

3 Готика В - II

9. Декоративная деталь из ткани в верхней части дверных и оконных проёмов называется:

- А) штора
- Б) карниз
- 15 + В) ламбрекен
- Г) занавеска
- Д) ширма



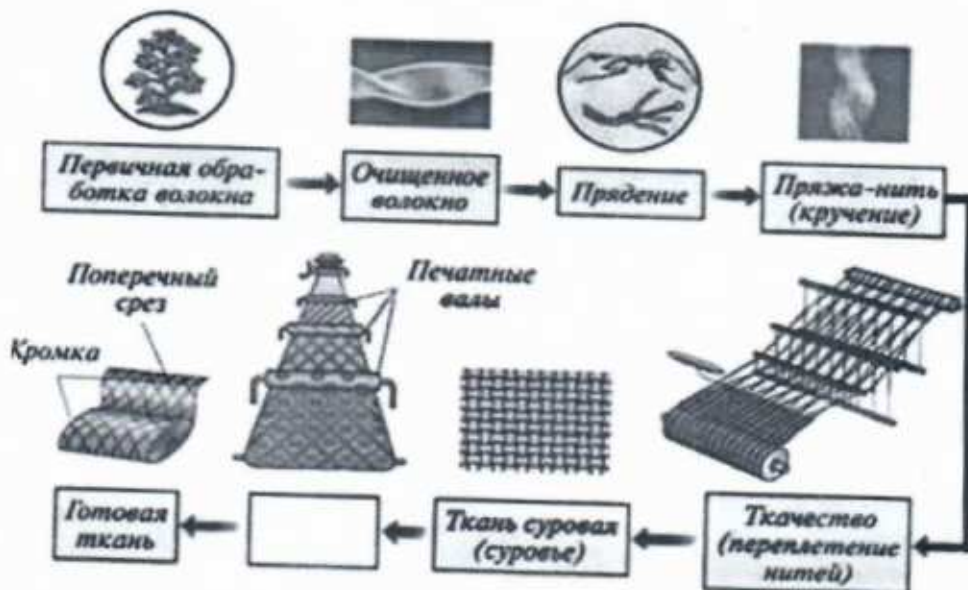
10. К элементам русского народного костюма относятся:

- 15 + А) Рубаха
- Б) Халат
- В) Кюлоты
- + Г) Сарафан
- + Д) Шушпан
- + Е) Кокошник

11. Современный стиль одежды с использованием элементов национального костюма):

- А) Милитари
- Б) Кежуэл
- 15 - В) Кантри
- Г) Ретро

12. На представленной схеме производства ткани отсутствует название одной операции. Назовите эту операцию.






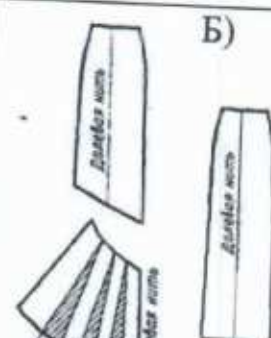


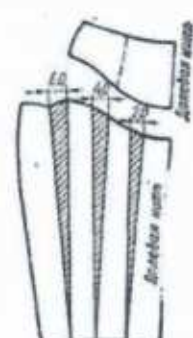
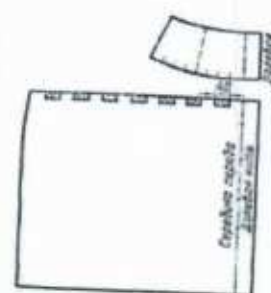
15 Ответ Отделка

18. Соотнесите номер иглы и вид материала.

- | | |
|-------------------|----------|
| 1) Батист | A) № 110 |
| 2) Сукно | Б) № 100 |
| 3) Фланель, ситец | В) № 70 |
| 4) Драп | Г) № 90 |

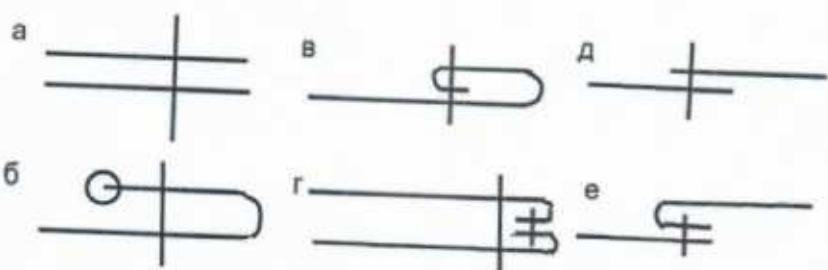
15 Ответ 1 - В 2 - Б 3 - Г 4 - А

19. Установите соответствие между моделью юбки и её моделированием:

Модель		Моделирование	
1 	2 	A) 	Б) 
3 	4 	В) 	Г) 

15 Ответ 1 - Г 2 - А 3 - В 4 - Б

20. Выберите швы для обработки нижнего среза юбки. Напишите их названия.



15 Ответ В-шов вподгибку с закрытым срезом,
Б-шов вподгибку с открытым срезом

21. Какую мерку измеряют от седьмого шейного позвонка до линии талии? Напишите её условное обозначение.

- А) Длина спины до талии
- Б) Длина плеча
- В) Длина переда до талии
- Г) Длина изделия


18 Ответ А, Дтс

22. Какой шов, предназначенный для ручной вышивки, представлен на рисунке?

- 18 +
- А) Шов вперед иголку;
 - Б) Стебельчатый шов;
 - В) Петельный шов;
 - Г) Тамбурный шов.



23. Какие изделия выполнены в технике узелкового батика?



А)

Б)

В)

Г)

24. К непромышленным сферам деятельности человека относятся:

- А) Машиностроение
- Б) Лесное хозяйство
- В) Общественное питание
- Г) Пассажирский транспорт
- Д) Сельское хозяйство

25. Творческое задание

Вам предложены 3 фигуры девушки.

1. Предложите по одной модели блузки
 - а) для спорта, б) для школы, в) для дискотеки
2. Выполните эскизы (в цвете) этих моделей.
3. Опишите внешний вид моделей по предложенной форме.
4. Рекомендуйте ткани (волоконный состав) для каждой модели.



Модель блузки для спорта:

стиль спортивный

силуэт _____

покрой рукава _____

воротник _____

застежка шнуровка

детали _____

отделка _____

цвет голубой

Рекомендуемая ткань _____



Модель блузки для школы:

стиль школьный

силуэт _____

покрой рукава _____

воротник _____

застежка _____

детали шнуровка

отделка _____

цвет чёрный

Рекомендуемая ткань _____



Модель блузки для дискотеки:

стиль дискотечный

силуэт _____

покрой рукава _____

воротник _____

застежка кнопки

детали кнопки

отделка _____

цвет разнообразный


Рекомендуемая ткань _____

Муниципальный этап всероссийской олимпиады школьников
Технология (девочки)

За полностью выполненное задание дается 1 балл; если в задании допущена хотя бы одна ошибка или задание не выполнено – 0 баллов. За творческое задание дается 11 баллов. Максимальное количество баллов – 35.

8-9 класс

1. В этом пищевом продукте содержится наибольшее количество:

	<p>А) жиров Б) белков В) углеводов Г) витаминов</p>
---	---

15

Ответ Б) белков

2. Отгадайте загадку:

«И зелен, и густ
На грядке вырос куст.
Покопай немножко:
Под кустом...»

15

В рецепт какого супа не входит этот продукт?

Ответ Картошка, суп-харчо готовится без картошки.

3. Какие основные ингредиенты необходимы для варки рассольника?




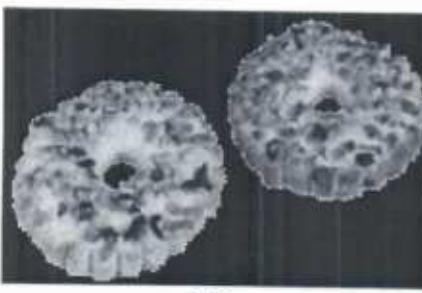


- А)
- Б)
- В)
- Г)

15

Ответ А, В, Г

4. Соотнесите вид теста с готовым изделиям.

1. Слоеное 2. Дрожжевое 3. Заварное 4. Песочное

 <p>A)</p>	 <p>Б)</p>	 <p>В)</p>
 <p>Г)</p>	<p>Ответ 1 - <u>Г</u> 2 - <u>В</u> 3 - <u>А</u> 4 - <u>Б</u></p>	

15

5. Данная сервировка уместна к ...

- A) Завтраку
- Б) Ужину
- В) Ланчу
- + Г) Обеду



15

6. Укажите правильную последовательность действий при термическом ожоге первой степени.

- A) Наложить стерильную повязку
- Б) Обработать противоожоговыми препаратами
- В) Обожженный участок кожи подставить под струю холодной воды
- Г) Обработать специальными антисептическими средствами

15

Ответ 1 - В 2 - Г 3 - Б 4 - А

7. Какое средство композиции использовано при оформлении интерьера данной комнаты?

Ответ Симметрия



8. Установите соответствие между представленными на рисунках историческими костюмами, интерьерами и названиями стилей/



A)



Б)



В)



I



II



III

Ответ:

1 Классицизм Б-I

2 Античный стиль А-III

3 Готика В-II

9. Декоративная деталь из ткани в верхней части дверных и оконных проёмов называется:

- 18
- А) штора
 - Б) карниз
 - + В) ламбрекен
 - Г) занавеска
 - Д) ширма



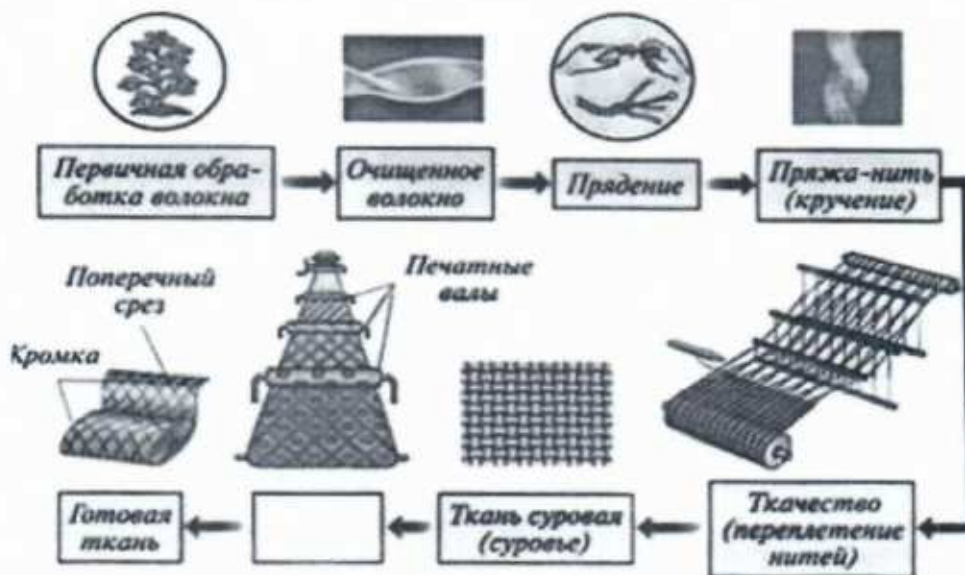
10. К элементам русского народного костюма относятся:

- 18
- + А) Рубаха
 - Б) Халат
 - В) Кюлоты
 - + Г) Сарафан
 - + Д) Шушпан
 - + Е) Кокошник

11. Современный стиль одежды с использованием элементов национального костюма):

- 18
- А) Милитари
 - Б) Кежуэл
 - + В) Кантри
 - Г) Ретро

12. На представленной схеме производства ткани отсутствует название одной операции. Назовите эту операцию.



18 Ответ Отделка.

13. Расположите перечисленные ниже материалы в порядке увеличения прочности волокна:

А) Хлопок Б) Лён В) Шерсть Г) Шёлк

15

Ответ 1 - Б 2 - А 3 - Г 4 - Б.

14. Установите соответствие символов по уходу за тканями их значениям:

1. Только ручная стирка при температуре максимум 30, не тереть, не отжимать
2. Разрешено гладить при максимальной температуре 200°C
3. Разрешено отжимать в стиральной машине и высушивать электросушилкой
4. Сушить на горизонтальной поверхности
5. Сухая чистка с любым растворителем
6. Разрешена стирка с отбеливателями, содержащими хлор; использовать только холодную воду, следить за полным растворением порошка

А Б В Г Д Е



15

Ответ 1 - Е 2 - Г 3 - А 4 - В 5 - Б 6 - Д

15

15. Вставьте пропущенное слово. Обработка ткани антистатиком уменьшает её электризуемость.

16. Для чего используется клеевой флизелин?

- А) Для предохранения деталей кроя швейных изделий от выгорания
- Б) Для предохранения деталей кроя швейных изделий от усадки
- В) Для придания им жесткости и формоустойчивости

15

17. Выберите по рисунку качественно выполненную машинную строчку и назовите дефекты изображенных некачественных строчек.



А)

Б)

В)

15
Ответ Б - качественная строчка, А - затянута верхняя нить, В - затянута нижняя нить.


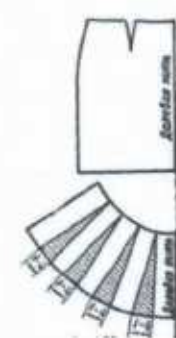
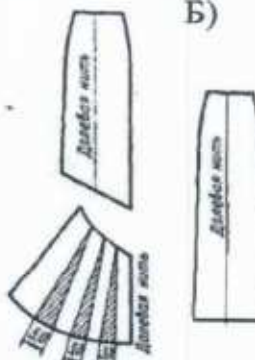

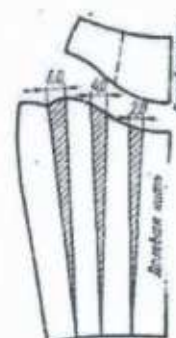
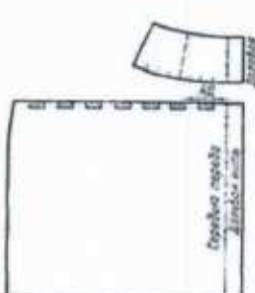
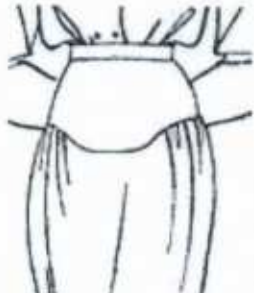
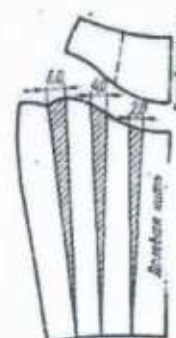
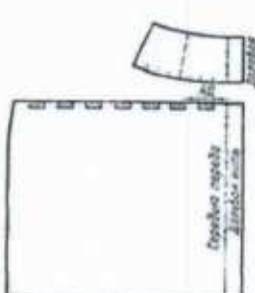

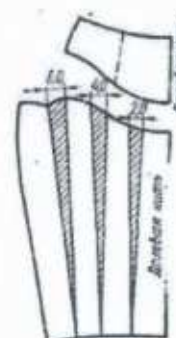
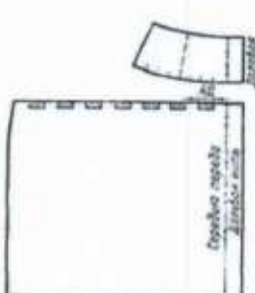
18. Соотнесите номер иглы и вид материала.

- | | |
|-------------------|----------|
| 1) Батист | А) № 110 |
| 2) Сукно | Б) № 100 |
| 3) Фланель, ситец | В) № 70 |
| 4) Драп | Г) № 90 |

15

Ответ 1 - В 2 - Б 3 - Г 4 - А

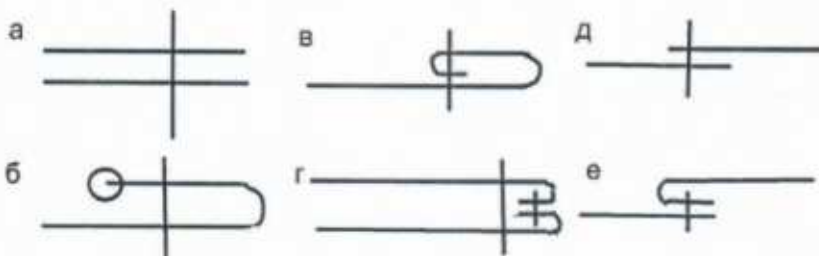
19. Установите соответствие между моделью юбки и её моделированием:

Модель		Моделирование	
1			
2			
3			
4			

15

Ответ 1 - Г 2 - А 3 - В 4 - Б

20. Выберите швы для обработки нижнего среза юбки. Напишите их названия.



15

Ответ в - шов в подгибку с закрытым срезом,
б - шов в подгибку с открытым срезом.

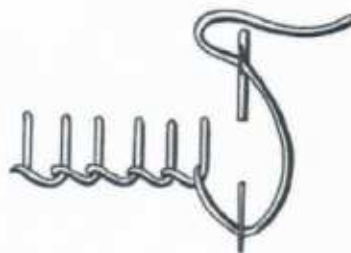
21. Какую мерку измеряют от седьмого шейного позвонка до линии талии? Напишите её условное обозначение.

- А) Длина спины до талии
- Б) Длина плеча
- В) Длина переда до талии
- Г) Длина изделия

15 Ответ А, Б, В, Г.

22. Какой шов, предназначенный для ручной вышивки, представлен на рисунке?

- А) Шов вперед иголку;
- + Б) Стебельчатый шов;
- В) Петельный шов;
- Г) Тамбурный шов.



15

23. Какие изделия выполнены в технике узелкового батика?



А)

Б)

—В)

Г)

15

24. К непроизводственным сферам деятельности человека относятся:

- А) Машиностроение
- Б) Лесное хозяйство
- + В) Общественное питание
- + Г) Пассажирский транспорт
- Д) Сельское хозяйство

25. **Творческое задание**

Вам предложены 3 фигуры девушки.

1. Предложите по одной модели блузки

а) для спорта, б) для школы, в) для дискотеки

2. Выполните эскизы (в цвете) этих моделей.

3. Опишите внешний вид моделей по предложенной форме.

4. Рекомендуйте ткани (волокнистый состав) для каждой модели.



Модель блузки для спорта:

стиль спортивный

силуэт _____

покрой рукава

воротник

нет

застежка

нет

детали

отделка

цвет желто-красный

Рекомендуемая ткань



Модель блузки для школы:

стиль школьный

силуэт _____

покрой рукава

воротник

нет

застежка

шнуровка

детали

отделка

цвет синий

Рекомендуемая ткань



Модель блузки для дискотеки:

стиль дискотечный

силуэт _____

покрой рукава

воротник

нет

застежка

нет

детали

отделка

цвет лазурный


Рекомендуемая ткань

Муниципальный этап всероссийской олимпиады школьников
Технология (девочки)

За полностью выполненное задание дается 1 балл; если в задании допущена хотя бы одна ошибка или задание не выполнено – 0 баллов. За творческое задание дается 11 баллов. Максимальное количество баллов – 35.

8-9 класс

1. В этом пищевом продукте содержится наибольшее количество:

	А) жиров Б) белков В) углеводов Г) витаминов
---	---

15

Ответ Б, белков

2. Отгадайте загадку:

«И зелен, и густ
На грядке вырос куст.
Покопай немножко:
Под кустом...»

15

В рецепт какого супа не входит этот продукт?

Ответ Картошка, суп-готовится без картошки

3. Какие основные ингредиенты необходимы для варки рассольника?



Г)

А)

Б)


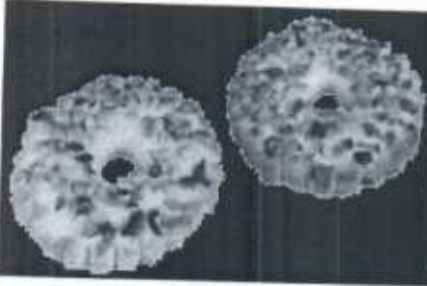


В)

15

Ответ А, Б, Г

4. Соотнесите вид теста с готовым изделием.

1. Слоеное 2. Дрожжевое 3.Заварное 4.Песочное

 <p>A)</p>	 <p>Б)</p>	 <p>В)</p>
 <p>Г)</p>	<p>Ответ 1 - <u>Г</u> 2 - <u>В</u> 3 - <u>А</u> 4 - <u>Б</u></p>	

10

5. Данная сервировка уместна к ...

- А) Завтраку
- Б) Ужину
- В) Ланчу
- ✓ Г) Обеду



10

6. Укажите правильную последовательность действий при термическом ожоге первой степени.

- А) Наложить стерильную повязку
- Б) Обработать противоожоговыми препаратами
- В) Обожженный участок кожи подставить под струю холодной воды
- Г) Обработать специальными антисептическими средствами

10

Ответ 1 - В 2 - Г 3 - Б 4 - А

7. Какое средство композиции использовано при оформлении интерьера данной комнаты?

Ответ Симметрия



8. Установите соответствие между представленными на рисунках историческими костюмами, интерьерами и названиями стилей!



A)



Б)



В)



I



II



III

Ответ:

1 Классицизм Б-I

2 Античный стиль А-III

3 Готика В-II

9. Декоративная деталь из ткани в верхней части дверных и оконных проёмов называется:

- А) штора
- Б) карниз
- ✓ В) ламбрекен
- Г) занавеска
- Д) ширма



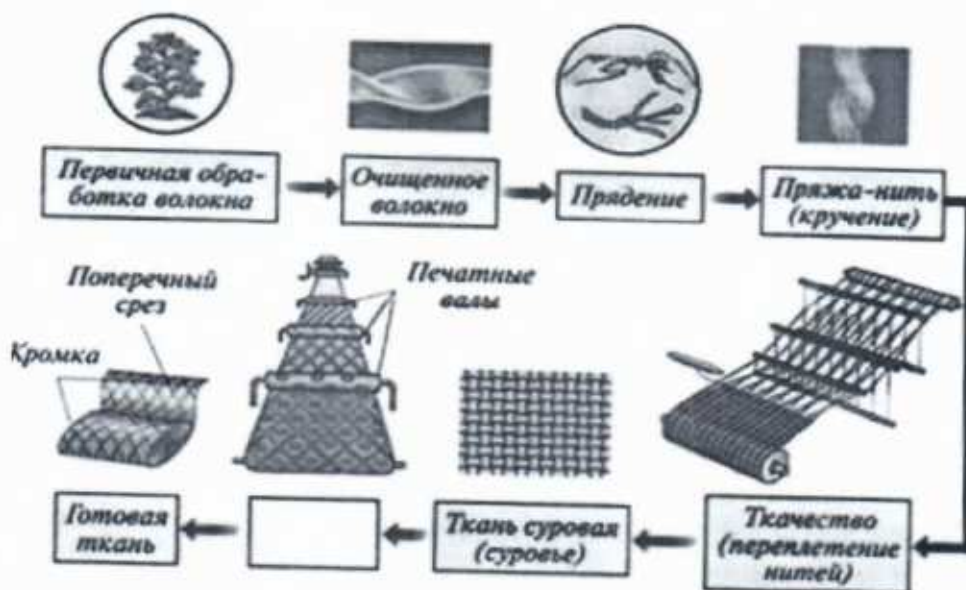
10. К элементам русского народного костюма относятся:

- ✓ А) Рубаха
- Б) Халат
- В) Кюлоты
- ✓ Г) Сарафан
- ✓ Д) Шушпан
- ✓ Е) Кокошник

11. Современный стиль одежды с использованием элементов национального костюма):

- А) Милитари
- Б) Кежуэл
- ✓ В) Кантри
- Г) Ретро

12. На представленной схеме производства ткани отсутствует название одной операции. Назовите эту операцию.



Ответ: Отделка

13. Расположите перечисленные ниже материалы в порядке увеличения прочности волокна:

А) Хлопок Б) Лён В) Шерсть Г) Шёлк

15
Ответ 1 - В 2 - А 3 - Г 4 - Б

14. Установите соответствие символов по уходу за тканями их значениям:

1. Только ручная стирка при температуре максимум 30, не тереть, не отжимать
2. Разрешено гладить при максимальной температуре 200°C
3. Разрешено отжимать в стиральной машине и высушивать электросушилкой
4. Сушить на горизонтальной поверхности
5. Сухая чистка с любым растворителем
6. Разрешена стирка с отбеливателями, содержащими хлор; использовать только холодную воду, следить за полным растворением порошка

А Б В Г Д Е



15
Ответ 1 - Е 2 - Г 3 - А 4 - В 5 - Б 6 - Д

15
15. Вставьте пропущенное слово. Обработка ткани антистатиком уменьшает её Электризуемость

16. Для чего используется клеевой флизелин?

- А) Для предохранения деталей кроя швейных изделий от выгорания
- Б) Для предохранения деталей кроя швейных изделий от усадки
- ✓ В) Для придания им жесткости и формоустойчивости

17. Выберите по рисунку качественно выполненную машинную строчку и назовите дефекты изображенных некачественных строчек.



А) Б) В)

15
Ответ Б - качественно выполненная строчка, А - затянута верхняя нить, В - затянута нижняя нить.




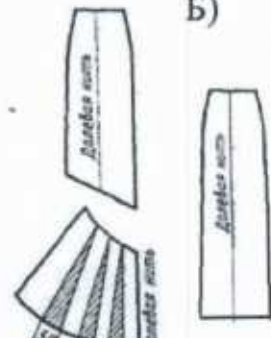

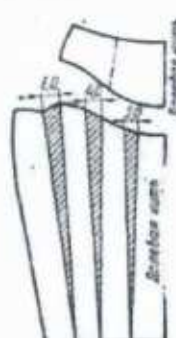

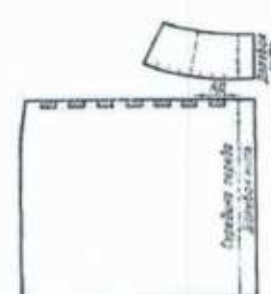
18. Соотнесите номер иглы и вид материала.

- | | |
|-------------------|----------|
| 1) Батист | А) № 110 |
| 2) Сукно | Б) № 100 |
| 3) Фланель, ситец | В) № 70 |
| 4) Драп | Г) № 90 |

18

Ответ 1 - Б 2 - Б 3 - Г 4 - А

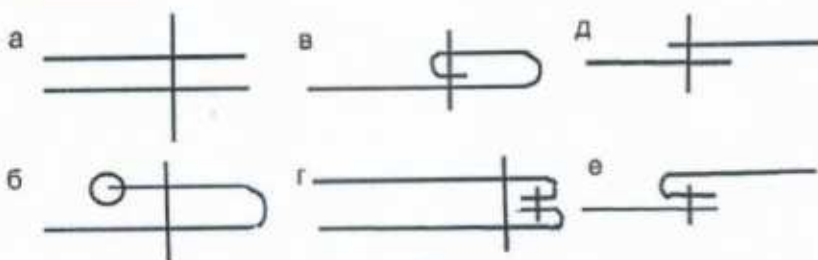
19. Установите соответствие между моделью юбки и её моделированием:

Модель		Моделирование	
1		A)	
2		Б)	
3		В)	
4		Г)	

18

Ответ 1 - Г 2 - А 3 - Б 4 - Б

20. Выберите швы для обработки нижнего среза юбки. Напишите их названия.



18

Ответ б-шов вподшюку с закрытым срезом, в-шов вподшюку с открытым срезом.

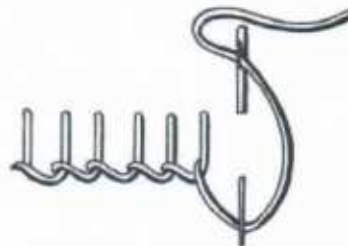
21. Какую мерку измеряют от седьмого шейного позвонка до линии талии? Напишите её условное обозначение.

- А) Длина спины до талии
- Б) Длина плеча
- В) Длина переда до талии
- Г) Длина изделия

15

Ответ А, Дте

22. Какой шов, предназначенный для ручной вышивки, представлен на рисунке?



15

- А) Шов вперед иголку;
- Б) Стебельчатый шов;
- ✓ В) Петельный шов;
- Г) Тамбурный шов.

23. Какие изделия выполнены в технике узелкового батика?



15

А)

Б)

✓ В)

✓ Г)

24. К непромышленным сферам деятельности человека относятся:

- А) Машиностроение
- Б) Лесное хозяйство
- ✓ В) Общественное питание
- ✓ Г) Пассажирский транспорт
- Д) Сельское хозяйство

15

25. Творческое задание

Вам предложены 3 фигуры девушки.

1. Предложите по одной модели блузки
 - а) для спорта, б) для школы, в) для дискотеки
2. Выполните эскизы (в цвете) этих моделей.
3. Опишите внешний вид моделей по предложенной форме.
4. Рекомендуйте ткани (волокнистый состав) для каждой модели.



Модель блузки для спорта:

стиль спортивной

силуэт спортивной

покрой рукава широкой

воротник плоский

застежка _____

детали _____

отделка _____

цвет розово-красной

Рекомендуемая ткань _____

Модель блузки для школы:

стиль школьной

силуэт школьной

покрой рукава хлопчатобумажной

воротник плоский

застежка _____

детали _____

отделка _____

цвет желтой

Рекомендуемая ткань _____

Модель блузки для дискотеки:

стиль дискотечной

силуэт тюрбанной

покрой рукава _____

воротник без воротника

застежка _____

детали _____

отделка _____

цвет разноцветной


Рекомендуемая ткань _____

Муниципальный этап всероссийской олимпиады школьников
Технология (девушки)

За полностью выполненное задание дается 1 балл; если в задании допущена хотя бы одна ошибка или задание не выполнено – 0 баллов. За творческое задание дается 11 баллов. Максимальное количество баллов – 35.

8-9 класс

1. В этом пищевом продукте содержится наибольшее количество:

	<p>А) жиров Б) белков В) углеводов Г) витаминов</p>
---	---

10

Ответ Б, белков

2. Отгадайте загадку:

«И зелен, и густ
На грядке вырос куст.
Покопай немножко:
Под кустом...»

В рецепт какого супа не входит этот продукт?

10

Ответ Картошка. Суп - жарго готовится без картошки

3. Какие основные ингредиенты необходимы для варки рассольника?



Г)

А)

Б)





В)

10

Ответ А, В, Г.

4. Соотнесите вид теста с готовым изделием.

1. Слоеное 2. Дрожжевое 3. Заварное 4. Песочное

 <p>A)</p>	 <p>Б)</p>	 <p>В)</p>
 <p>Г)</p>	<p>Ответ 1 - <u>Г</u> 2 - <u>В</u> 3 - <u>А</u> 4 - <u>Б</u></p>	

5. Данная сервировка уместна к ...

- А) Завтраку
- Б) Ужину
- В) Ланчу
- + Г) Обеду



6. Укажите правильную последовательность действий при термическом ожоге первой степени.

- А) Наложить стерильную повязку
- Б) Обработать противоожоговыми препаратами
- В) Обожженный участок кожи подставить под струю холодной воды
- Г) Обработать специальными антисептическими средствами

Ответ 1 - В 2 - Г 3 - Б 4 - А

7. Какое средство композиции использовано при оформлении интерьера данной комнаты?

Ответ Симметрия



8. Установите соответствие между представленными на рисунках историческими костюмами, интерьерами и названиями стилей/



А)



Б)



В)



І



ІІ



ІІІ

Ответ:

1 Классицизм Б-І

2 Античный стиль А-ІІІ

3 Готика В-ІІ

9. Декоративная деталь из ткани в верхней части дверных и оконных проёмов называется:

- А) штора
- Б) карниз
- 15 + В) ламбрекен
- Г) занавеска
- Д) ширма



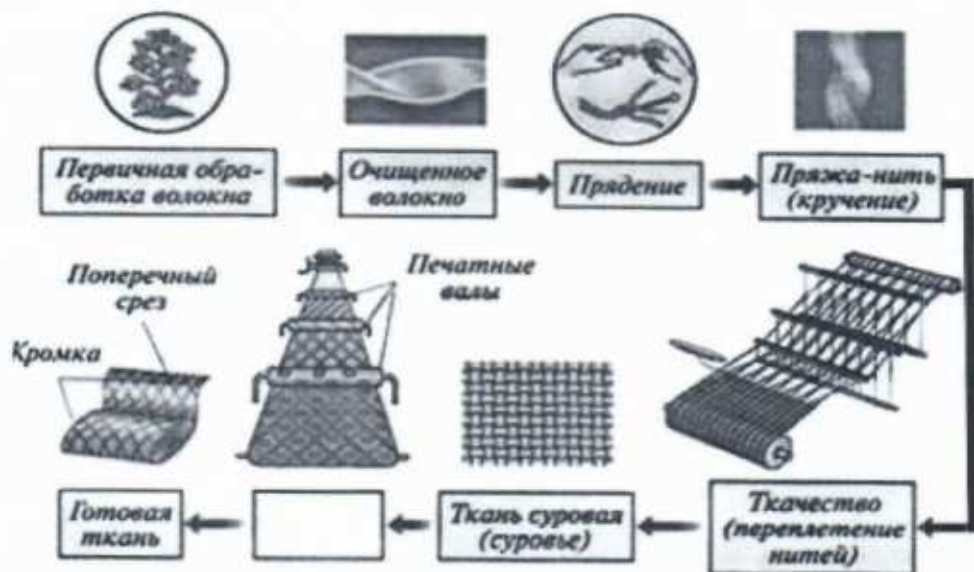
10. К элементам русского народного костюма относятся:

- 15 + А) Рубаха
- Б) Халат
- В) Кюлоты
- + Г) Сарафан
- + Д) Шушпан
- + Е) Кокошник

11. Современный стиль одежды с использованием элементов национального костюма):

- А) Милитари
- Б) Кежуэл
- 15 + В) Кантри
- Г) Ретро

12. На представленной схеме производства ткани отсутствует название одной операции. Назовите эту операцию.



15 Ответ Отделка

13. Расположите перечисленные ниже материалы в порядке увеличения прочности волокна:

А) Хлопок Б) Лён В) Шерсть Г) Шёлк

15

Ответ 1 - В 2 - А 3 - Г 4 - Б

14. Установите соответствие символов по уходу за тканями их значениям:

1. Только ручная стирка при температуре максимум 30, не тереть, не отжимать
2. Разрешено гладить при максимальной температуре 200°C
3. Разрешено отжимать в стиральной машине и высушивать электросушилкой
4. Сушить на горизонтальной поверхности
5. Сухая чистка с любым растворителем
6. Разрешена стирка с отбеливателями, содержащими хлор; использовать только холодную воду, следить за полным растворением порошка

А Б В Г Д Е



15

Ответ 1 - Е 2 - Г 3 - А 4 - В 5 - Б 6 - Д

15. Вставьте пропущенное слово. Обработка ткани антистатиком уменьшает её Электризуемость

15

16. Для чего используется клеевой флизелин?

- А) Для предохранения деталей кроя швейных изделий от выгорания
- Б) Для предохранения деталей кроя швейных изделий от усадки
- В) Для придания им жесткости и формоустойчивости

17. Выберите по рисунку качественно выполненную машинную строчку и назовите дефекты изображенных некачественных строчек.



А)

Б)

В)

15

Ответ Б - качественная строчка и затянута верхняя нить, В - затянута нижняя нить

18. Соотнесите номер иглы и вид материала.

- | | |
|-------------------|----------|
| 1) Батист | А) № 110 |
| 2) Сукно | Б) № 100 |
| 3) Фланель, ситец | В) № 70 |
| 4) Драп | Г) № 90 |

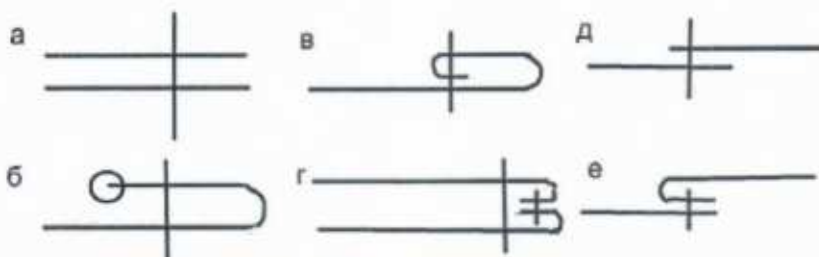
18 Ответ 1 - В 2 - Б 3 - Г 4 - А

19. Установите соответствие между моделью юбки и её моделированием:

Модель		Моделирование	
1		A)	Б)
2			
3		В)	Г)
4			

19 Ответ 1 - Г 2 - А 3 - В 4 - Б

20. Выберите швы для обработки нижнего среза юбки. Напишите их названия.



20 Ответ В-шов вподгибку с закрытым срезом, Б-шов вподгибку с открытым срезом.

21. Какую мерку измеряют от седьмого шейного позвонка до линии талии? Напишите её условное обозначение.

- А) Длина спины до талии
- Б) Длина плеча
- В) Длина переда до талии
- Г) Длина изделия

15

Ответ А, Дтс


22. Какой шов, предназначенный для ручной вышивки, представлен на рисунке?



- А) Шов вперед иголку;
- +Б) Стебельчатый шов;
- В) Петельный шов;
- Г) Тамбурный шов.

15

23. Какие изделия выполнены в технике узелкового батика?



А)

Б)

В)

Г)

24. К непромышленным сферам деятельности человека относятся:

- А) Машиностроение
- Б) Лесное хозяйство
- +В) Общественное питание
- +Г) Пассажирский транспорт
- Д) Сельское хозяйство

15

25. Творческое задание

Вам предложены 3 фигуры девушки.

1. Предложите по одной модели блузки
 - а) для спорта, б) для школы, в) для дискотеки
2. Выполните эскизы (в цвете) этих моделей.
3. Опишите внешний вид моделей по предложенной форме.
4. Рекомендуйте ткани (волокнистый состав) для каждой модели.



Модель блузки для спорта:

стиль спортивной

силуэт спортивной

покрой рукава

шестидесяти

воротник

летящий

застежка

пуговицы

детали

отделка

цвет голубой

Рекомендуемая ткань



Модель блузки для школы:

стиль школьный

силуэт школьный

покрой рукава

кнопочно-бушкетный

воротник

стоячий

застежка

пуговицы

детали

отделка

цвет серый

Рекомендуемая ткань



Модель блузки для дискотеки:

стиль дискотечный

силуэт тусовый

покрой рукава

воротник

нет

застежка

нет

детали

отделка

цвет красный

Рекомендуемая ткань

45.


265.

Муниципальный этап всероссийской олимпиады школьников
Технология (девушки)

За полностью выполненное задание дается 1 балл; если в задании допущена хотя бы одна ошибка или задание не выполнено – 0 баллов. За творческое задание дается 11 баллов. Максимальное количество баллов – 35.

8-9 класс

1. В этом пищевом продукте содержится наибольшее количество:

	<p>А) жиров Б) белков В) углеводов Г) витаминов</p>
---	---

15

Ответ Б, белков

2. Отгадайте загадку:

«И зелен, и густ
На грядке вырос куст.
Покопай немножко:
Под кустом...»

В рецепт какого супа не входит этот продукт?

15

Ответ каршотка, суп-харчо готовится без картошки

3. Какие основные ингредиенты необходимы для варки рассольника?




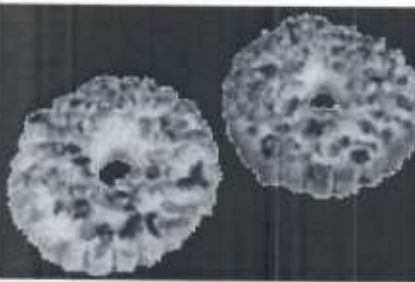


- А)
- Б)
- В)
- Г)

15

Ответ А, В, Г

4. Соотнесите вид теста с готовым изделием.

1. Слоеное 2. Дрожжевое 3. Заварное 4. Песочное

 <p>A)</p>	 <p>Б)</p>	 <p>В)</p>
 <p>Г)</p>	<p>Ответ 1 - <u>Г</u> 2 - <u>В</u> 3 - <u>А</u> 4 - <u>Б</u></p>	

5. Данная сервировка уместна к ...

- А) Завтраку
- Б) Ужину
- В) Ланчу
- + Г) Обеду



6. Укажите правильную последовательность действий при термическом ожоге первой степени.

- А) Наложить стерильную повязку
- Б) Обработать противоожоговыми препаратами
- В) Обожженный участок кожи подставить под струю холодной воды
- Г) Обработать специальными антисептическими средствами

Ответ 1 - В 2 - Г 3 - Б 4 - А

7. Какое средство композиции использовано при оформлении интерьера данной комнаты?

Ответ Симметрия



8. Установите соответствие между представленными на рисунках историческими костюмами, интерьерами и названиями стилей/



A)



B)



B)



I



II



III

Ответ:

1 Классицизм Б - I

2 Античный стиль A - III

3 Готика B II

9. Декоративная деталь из ткани в верхней части дверных и оконных проёмов называется:

- А) штора
- Б) карниз
- + В) ламбрекен
- Г) занавеска
- Д) ширма



18

10. К элементам русского народного костюма относятся:

- + А) Рубаха
- Б) Халат
- В) Кюлоты
- + Г) Сарафан
- + Д) Шушпан
- + Е) Кокошник

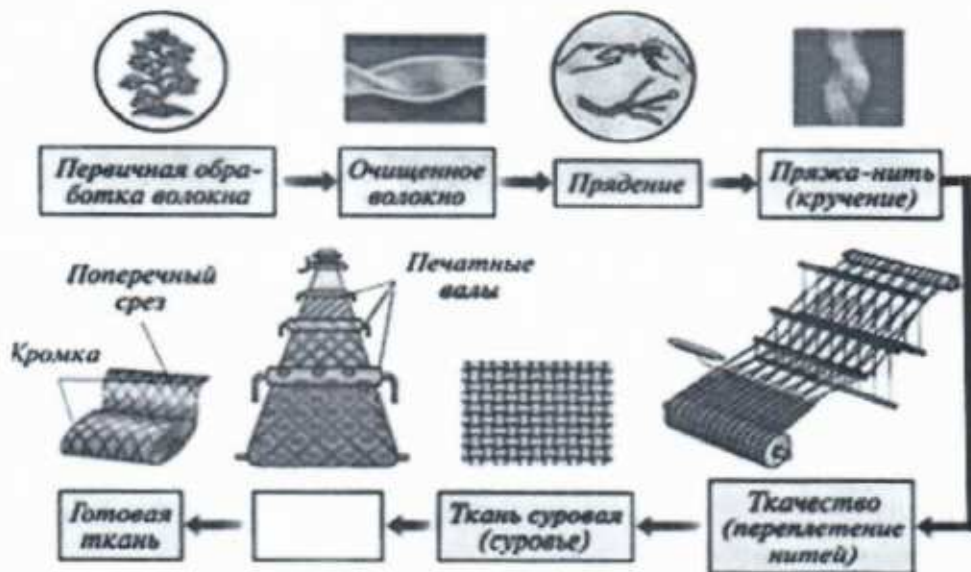
18

11. Современный стиль одежды с использованием элементов национального костюма):

- А) Милитари
- Б) Кежуэл
- + В) Кантри
- Г) Ретро

18

12. На представленной схеме производства ткани отсутствует название одной операции. Назовите эту операцию.



18



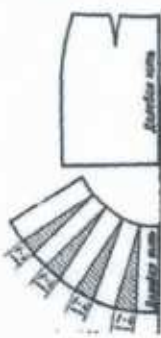
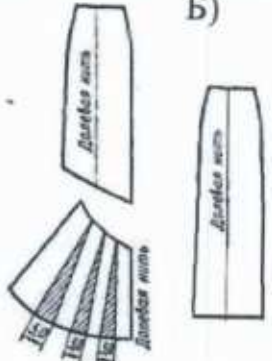
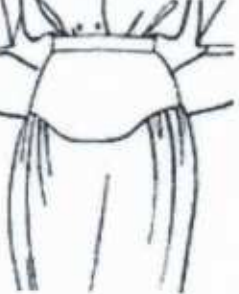

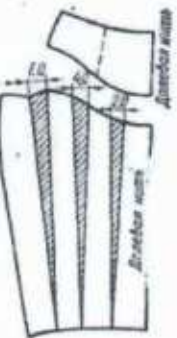
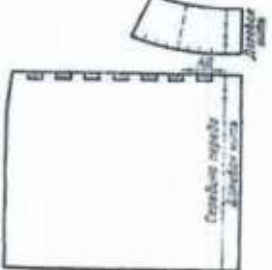
Ответ Отделка

18. Соотнесите номер иглы и вид материала.

- | | |
|-------------------|----------|
| 1) Батист | A) № 110 |
| 2) Сукно | Б) № 100 |
| 3) Фланель, ситец | В) № 70 |
| 4) Драп | Г) № 90 |

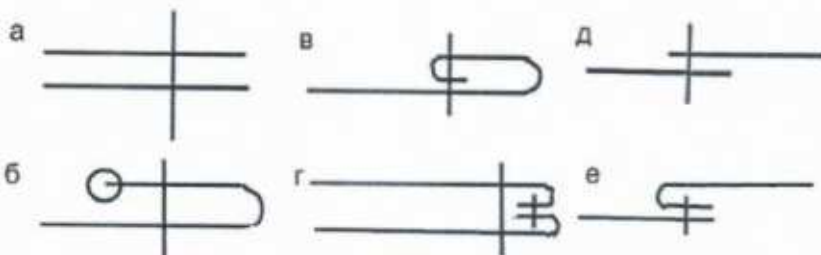
18 Ответ 1 - В 2 - Б 3 - Г 4 - А

19. Установите соответствие между моделью юбки и её моделированием:

Модель		Моделирование	
1 	2 	A) 	Б) 
3 	4 	В) 	Г) 

19 Ответ 1 - Г 2 - А 3 - В 4 - Б

20. Выберите швы для обработки нижнего среза юбки. Напишите их названия.



20 Ответ В-шов в подгибку с закрытым срезом, Б-шов в подгибку с открытым срезом

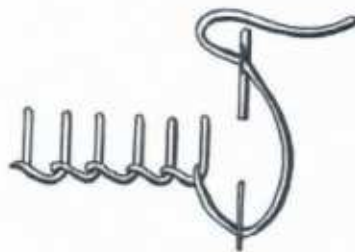
21. Какую мерку измеряют от седьмого шейного позвонка до линии талии? Напишите её условное обозначение.

- А) Длина спины до талии
- Б) Длина плеча
- В) Длина переда до талии
- Г) Длина изделия


18 Ответ А, Г, Г

22. Какой шов, предназначенный для ручной вышивки, представлен на рисунке?

- 18
- А) Шов вперед иголку;
 - + Б) Стебельчатый шов;
 - В) Петельный шов;
 - Г) Тамбурный шов.



23. Какие изделия выполнены в технике узелкового батика?



24. К непроизводственным сферам деятельности человека относятся:

- 18
- А) Машиностроение
 - Б) Лесное хозяйство
 - + В) Общественное питание
 - + Г) Пассажирский транспорт
 - Д) Сельское хозяйство

25. Творческое задание

Вам предложены 3 фигуры девушки.

1. Предложите по одной модели блузки
 - а) для спорта, б) для школы, в) для дискотеки
2. Выполните эскизы (в цвете) этих моделей.
3. Опишите внешний вид моделей по предложенной форме.
4. Рекомендуйте ткани (волокнистый состав) для каждой модели.



Модель блузки для спорта:

стиль спортивной

силуэт _____

покрой рукава _____

воротник _____

нет

застежка _____

детали _____

отделка _____

цвет голубой, красный, белый

Рекомендуемая ткань _____



Модель блузки для школы:

стиль школьной

силуэт _____

покрой рукава _____

воротник _____

с воротничком

застежка _____

детали _____

отделка _____

цвет белый, синий, чёрный

Рекомендуемая ткань _____



Модель блузки для дискотеки:

стиль дискотечной

силуэт _____

покрой рукава _____

воротник _____

нет

застежка _____

детали _____

отделка _____

цвет красный, голубой, серый

Рекомендуемая ткань _____